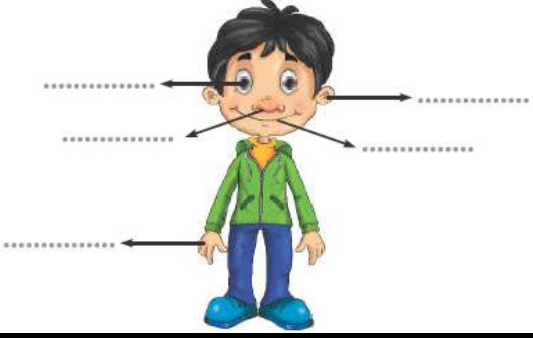




بازخورد معلم	سوالات	ردیف
	<p>نام حواس پنج گانه را روی شکل بنویس.</p> 	۱
	<p>از گردش کدام یک به دور خودش شب و روز به وجود می آید؟ دور آن خط بکش.</p> 	۲
	<p>وصل کن.</p> <p>صدای پیام رسان <input type="radio"/></p> <p>صدای آزار دهنده <input type="radio"/></p> 	۳
	<p>نام هر وسیله را زیر آن بنویس.</p>  <p>(ح) (ب) (الف)</p>	۴

<p>* چراغ راهنمایی و رانندگی و چراغ ترمز ماشین، هستند.</p> <p>الف) صدای پیام-رسان ب) وسیله-ی پیام-رسان</p> <p>ج) وسیله-ی هشداردهنده د) وسیله-ی هشداردهنده (پیام-رسان) با نور</p> <p>* ظرف بلوری و دیوار به ترتیب، نور را از خود عبور</p> <p>الف) می دهد- نمی دهد ب) نمی دهد- می دهد</p> <p>ج) می دهد- می دهد د) نمی دهد- نمی دهد</p> <p>* به اجسامی که نور از آنها عبور می کند، اجسام و به اجسامی که نور از آنها عبور نمی کند، اجسام می گویند.</p> <p>* وقتی نور از جسمی عبور نکند در پشت آن درست می شود.</p> <p>* امروزه از و برای انتقال پیام استفاده می شود.</p> <p>* باد دارای و است.</p>	۵
<p>صدا چگونه تولید می شود؟</p> <p>.....</p>	۶
<p>درست یا نادرست بودن جمله ها را مشخص کن.</p> <p>الف) در زمان های گذشته از ساعت آفتابی برای تعیین زمان استفاده می کردند.</p> <p>ب) به وزش باد ملایم طوفان و به وزش باد شدید نسیم می گویند.</p> <p>ج) با قرار دادن دماسنج در آب در حال گرم شدن، مایع درون آن بالا می رود.</p> <p>د) در تابستان نور خورشید به طور مایل می تابد.</p> <p>درست نادرست</p> <p><input type="checkbox"/> <input type="checkbox"/></p> <p><input type="checkbox"/> <input type="checkbox"/></p> <p><input type="checkbox"/> <input type="checkbox"/></p> <p><input type="checkbox"/> <input type="checkbox"/></p>	۷
<p>درنا و برنا برای این که به کاهش آلودگی هوا کمک کنند، تصمیم گرفتند همراه پدرشان با مترو به مدرسه بروند. شما چه راه های دیگری را برای سالم ماندن هوا پیشنهاد می دهید؟</p> <p>.....</p>	۸

	<p>چند نوع چشمه ی نور داریم؟ نام ببرید و دو مورد از هر کدام مثال بزنید.</p> <p>.....</p> <p>.....</p>	۹
	<p>با انتخاب کلمه ی مناسب از داخل کمانک جاهای خالی را کامل کن.</p> <p>الف) هنگام غروب خورشید، زمین سرد می شود. (ناگهانی - به آرامی)</p> <p>ب) مقدار از گرما و نور خورشید به کره ی زمین می رسد. (کمی - زیادی)</p> <p>ج) عموی درنا و برنا است، او شب ها هم فعالیت می کند. (پلیس - معلّم)</p>	۱۰
	<p>انسان از باد چه استفاده هایی می کند؟</p> <p>.....</p>	۱۱
	<p>مراحل تصفیه آب را توضیح دهید.</p> <p>.....</p>	۱۲

موفق باشید پسران گلم