

به نام خداوند بخشنده و مهربان

سوالات آزمون علوم مداد قرمز

آموزگار : خانم خاکسار

دبستان و پیش دبستان علوی



۶) تصاویری که مشاهده می‌کنید، مراحل رشد کرم ابریشم است. هر تصویر را به مرحله‌ی درست آن وصل کنید.

● (۱)


●



الف)

● (۲)

●



ب)

● (۳)

●



پ)

● (۴)

●



ت)











● (۵)

●



ث)

۶) تصاویری که مشاهده می‌کنید، مراحل رشد کرم ابریشم است. هر تصویر را به مرحله‌ی درست آن وصل کنید.

(الف)		(۱)	
(ب)		(۲)	
(پ)		(۳)	
(ت)		(۴)	
(ث)		(۵)	

۷) درستی یا نادرستی جملات داده شده را مشخص کنید.

درست نادرست



الف) موادی مثل گاز و نفت را سوخت می‌نامند.



ب) اتوبوس برای حرکت کردن از سوخت استفاده می‌کند.



پ) سوخت‌ها می‌سوزند و گرما تولید می‌کنند.



ت) بهتر است برای پختن غذا از چوب استفاده کنیم.

۷) درستی یا نادرستی جملات داده شده را مشخص کنید.

نادرست

درست



الف) موادی مثل گاز و نفت را سوخت می‌نامند.



ب) اتوبوس برای حرکت کردن از سوخت استفاده می‌کند.



پ) سوخت‌ها می‌سوزند و گرما تولید می‌کنند.



ت) بهتر است برای پختن غذا از چوب استفاده کنیم.

۸) گزینه‌ی صحیح را مشخص کنید.
الف) کدام گزینه به پراکنده شدن دانه‌ها کمک می‌کنند؟

۱) انسان‌ها - جانوران

۲) قلمه زدن - نور خورشید

۳) هیچکدام


ب) دانه‌های کدام میوه نرم هستند؟



۳



۲



۱

پ) دانه‌های کدام میوه خوراکی نیستند؟



۳



۲



۱

۸) گزینه‌ی صحیح را مشخص کنید.
الف) کدام گزینه به پراکنده شدن دانه‌ها کمک می‌کنند؟

۱) انسان‌ها - جانوران ✕

۲) قلمه زدن - نور خورشید

۳) هیچکدام


ب) دانه‌های کدام میوه نرم هستند؟



۳



۲




۱

پ) دانه‌های کدام میوه خوراکی نیستند؟



۳



۲



۱

۹) جاهای خالی را با انتخاب کلمه‌ی مناسب کامل کنید. (۱ مورد
اضافی است.)

«پیام‌رسان - صرفه‌جویی - برق - آزاردهنده - نقلیه‌ی عمومی»

الف) در زمان آلودگی هوا بهتر است از وسایل
استفاده کنیم.

ب) استفاده از گرما و نور خورشید برای تولید
باعث کاهش آلودگی هوا می‌شود.

پ) ما باید در مصرف سوخت‌ها کنیم.

ت) آلودگی صوتی جزو صداهای است.

۹) جاهای خالی را با انتخاب کلمه‌ی مناسب کامل کنید. (ا مورد اضافی است.)

«پیام‌رسان - صرفه‌جویی - برق - آزاردهنده - نقلیه‌ی عمومی»

الف) در زمان آلودگی هوا بهتر است از وسایل **نقلیه‌ی عمومی** استفاده کنیم.

ب) استفاده از گرما و نور خورشید برای تولید **برق** باعث کاهش آلودگی هوا می‌شود.

پ) ما باید در مصرف سوخت‌ها **صرفه‌جویی** ... کنیم.

ت) آلودگی صوتی جزو صداهای **آزاردهنده** ... است.

۱۰) چرخ‌ریسک چگونه لانه‌ی خود را می‌سازد؟



۱۰) چرخریسک چگونه لانه‌ی خود را می‌سازد؟



چرخریسک، شاخه‌ها و برگ‌های نازک گیاهان را جمع‌آوری می‌کند و با نوکش آن‌ها را به هم می‌بافد. سپس درون لانه را با پرهای نرم خود یا پرندگان دیگر و نیز قسمت‌های نرم گیاهان پر می‌کند تا جای تخم‌هایش نرم باشد. این آشیانه فقط یک سوراخ برای ورود و خروج پرنده دارد.
