



ارزشیابی درس سوم

نام و نام خانوادگی: تاریخ:

۱. با توجه به کلمات داخل جدول، کلمه مناسب را در جای خالی بنویس.
- (الف) زمین در هر یکبار به دور خود می‌چرخد.
- (ب) گرم‌ترین زمان در طول روز است.
- (پ) هرچه دما سنج گرم‌تر شود، مایع داخل آن است.
- (ت) خورشید با گرما و خود زمین را گرم نگه می‌دارد.
- (ث) دمای هوا در آفتاب بیش‌تر از است.

سابقه ظهر بالاتر نور ۲۴ ساعت

۲. عبارتهای مربوط به هم را به یکدیگر وصل کن.

- پلیس
- رشد گیاه
- سردی و گرمی
- معلم
- با دماسنج اندازه‌گیری می‌شود.
- شب کار می‌کند.
- روز کار می‌کند.
- به نور خورشید نیاز دارد.

۳. کدامیک از افراد زیر، شب‌ها هم کار می‌کنند؟ علامت (X) بزن



□ □ □



□ □

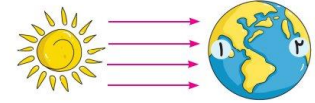
۱۵۷



ارزشیابی درس سوم

نام و نام خانوادگی: تاریخ:

۴. با توجه به شکل، مردم کدام کشور خواب هستند؟ (روز و شب را روی کره‌ی زمین مشخص کن.)



۵. از گردش کدامیک از موارد زیر به دور خود روز و شب به وجود می‌آید؟



۶. کدامیک از جانوران زیر شب‌ها فعالیت دارد؟



جدول خودارزیابی

ملاک	معیار	خیلی خوب	خوب	قابل قبول	نیاز به تلاش
نحوه‌ی ایجاد شب و روز را می‌دانم.	←	○	○	○	○
تغییرات دما را در شب و روز می‌دانم.	←	○	○	○	○
با وسیله‌ی اندازه‌گیری دما و نحوه‌ی کار آن آشنا هستم.	←	○	○	○	○
شغل‌هایی که در شب فعالیت می‌کنند را می‌شناسم.	←	○	○	○	○
شب و روز را با توجه به تابش خورشید نشان می‌دهم.	←	○	○	○	○
جانورانی که در شب فعالیت می‌کنند را می‌شناسم.	←	○	○	○	○

۱۵۸



علوی

ارزشیابی درس چهارم


نام و نام خانوادگی: تاریخ:

۱. با توجه به کلمات داده شده جاهای خالی را کامل کن.

تابستان - مایل - باد - راست - فصلها - زمستان

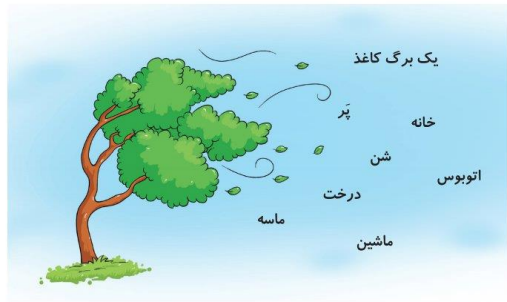
- (الف) از گردش زمین دور خورشید به وجود می آید.
 (ب) وقتی نور به طور بنابد سگه گرم تر از وقتی است که نور بنابد.
 (پ) سردترین فصل سال و گرمترین فصل سال است.

۲. هر تصویر را به جمله‌ی مربوط به آن وصل کن.



- خورشید مایل می‌تابد. سرعت باد را اندازه می‌گیرد.
 خورشید راست می‌تابد. جهت باد را اندازه می‌گیرد.

۳. باد ملایم کدام یک را می‌تواند چایه‌جا کند؟ دور آن‌ها خط بکش.



۱۵۹



ارزشیابی درس چهارم

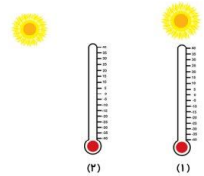
علوی

نام و نام خانوادگی: تاریخ:

۴. شکل روبه‌رو چه وسیله‌ای است؟ چگونه حرکت می‌کند؟



۵. کدام دماسنج دمای بالاتری را نشان می‌دهد؟ چرا؟



۶. دلیل سرد بودن زمین در زمستان چیست؟

- (۱) راست تابیدن نور خورشید (۲) مایل تابیدن نور خورشید
 (۳) راست تابیدن نور ماه (۴) مایل تابیدن نور ماه

۷. به باد شدید می‌گوییم.

- (۱) نسیم (۲) باد (۳) طوفان (۴) سیل

جدول خودارزیابی

ملاک	معیار	خیلی خوب	خوب	قابل قبول	نیاز به تلاش
دلیل به وجود آمدن فصل‌ها را می‌دانم.	←	<input type="radio"/>	<input type="radio"/>	<input type="radio"/>	<input type="radio"/>
نوع تابش خورشید و تأثیر آن را بر گرما و سرما می‌دانم.	←	<input type="radio"/>	<input type="radio"/>	<input type="radio"/>	<input type="radio"/>
سردترین و گرم‌ترین فصل سال را می‌شناسم.	←	<input type="radio"/>	<input type="radio"/>	<input type="radio"/>	<input type="radio"/>
وسایل اندازه‌گیری سرعت و جهت باد را می‌شناسم.	←	<input type="radio"/>	<input type="radio"/>	<input type="radio"/>	<input type="radio"/>

۱۶۰

