

طرح سنجش استعداد: مدارم ۳۳ - توصیفی



درس: علوم دوم دبستان




علوی

مدارس هزاره سوم

مدت پاسخگویی: ۴۵ دقیقه



زمان برگزاری: هفته دوم اسفند



نام کلاس:

نام و نام خانوادگی:

۶) دانه‌ی هر میوه را به نوع مناسب آن وصل کنید.



• (پ)

دانه‌ی غیرخوراکی

•



• (الف)



• (ت)

دانه‌ی خوراکی

•



• (ب)



۷) درستی یا نادرستی جملات داده شده را مشخص کنید.

نادرست

درست



(الف) سوخت اتوبوس، گازوئیل است.



(ب) قلمه زدن باعث به وجود آمدن یک گیاه می‌شود.



(پ) فرغون، نیاز به سوخت ندارد.



(ت) وقتی دانه‌ای می‌کاریم، گیاه رشد کرده دیگر دانه‌ای تولید نمی‌کند.

۸) جاهای خالی را با انتخاب کلمه‌ی مناسب کامل کنید.

الف) در کشور ما پرنده‌ای به نام «چرخ ریسک» زندگی می‌کند که آشیانه‌ی خود را (می‌دوزد - می‌بافد)

ب) آشیانه‌ی چرخ ریسک سوراخ برای ورود و خروج پرنده دارد. (یک - دو)

پ) بچه‌هایش را در لانه‌هایی که در زیر خاک درست کرده به دنیا می‌آورد. (کانگورو - خرگوش)

ت) خرگوش‌ها، غذای روباه و هستند. (عقاب - خفاش)




۹) مراحل رشد قورباغه را شماره‌گذاری کنید.


قورباغه:



(ب)



(الف)



(ت)



(پ)



۱۰ الف) نام قسمت‌های خواسته شده‌ی دانه را بنویسید.

ب) نام یک حیوان که غذای آن دانه است را بنویسید.

