

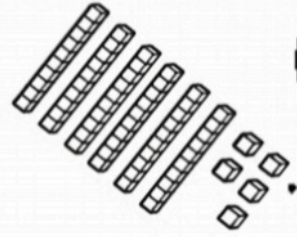


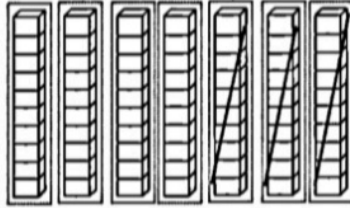
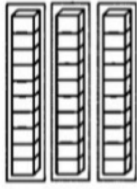
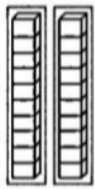
به نام خدا

پایه دوم دبستان

نام و نام خانوادگی



به نام خدا  
نمونه سوالات فصل دوم ریاضی پایه دوم




۱- حاصل را به دست آور.

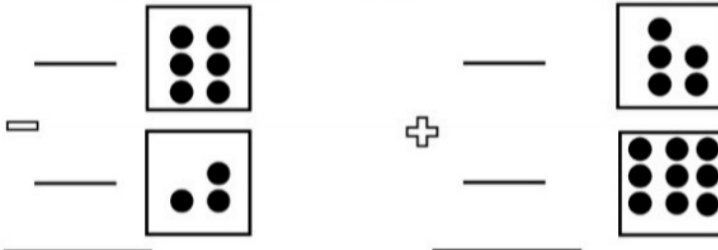
$$\dots\dots + \dots\dots = \dots\dots$$

$$\dots\dots - \dots\dots = \dots\dots$$

۲- به صورت ذهنی جواب را بدست آور و به گزینه درست وصل کن.

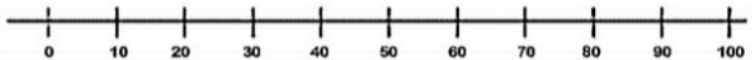


۳- کامل کن.

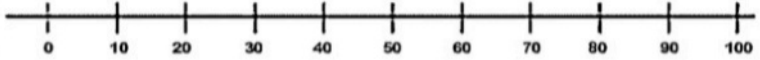


۴- روی محور جواب را به دست آور.

$$\begin{array}{r} 30 \\ + \\ 40 \\ \hline \end{array}$$



$$\begin{array}{r} 90 \\ - 60 \\ \hline \end{array}$$



۵- ۶ دسته ی ده تایی به اضافه ی ۳ دسته ی ده تایی می شود..... دسته ی ده تایی.

$$\dots + \dots = \dots$$


..... دسته ی ده تایی منهای ۲ دسته ی ده تایی می شود ..... دسته ی ده تایی.

$$70 - \dots = \dots$$

..... دسته ی ده تایی به اضافه ی ..... دسته ی ده تایی می شود.....دسته ی ده تایی.

$$50 + 40 = \dots$$

۶- اعداد زیر را روی محور نشان بده. ( ۱۹-۲۴-۴۷-۵۸-۷۳ )



۷- سه تایی اول را با استفاده از چوب خط و سه تایی دوم را با استفاده از رسم شکل و دو تایی سوم را

$$9 + 9 = \dots$$

$$7 + 6 = \dots$$

$$14 - 5 = \dots$$




با استفاده محور حل کن.



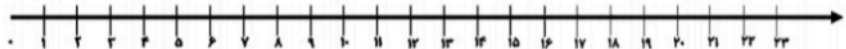
$$3 + 8 = \dots$$

$$2 + 11 = \dots$$

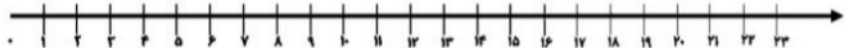
$$18 + 7 = \dots$$




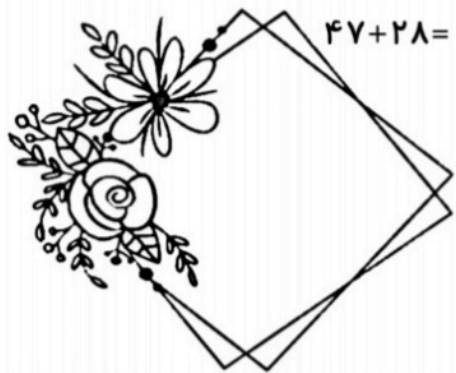
$$17 - 13 + 8 = \dots$$



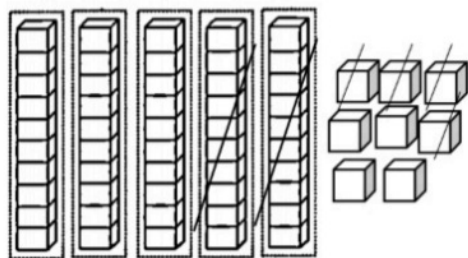
$$6 + 10 - 5 = \dots$$



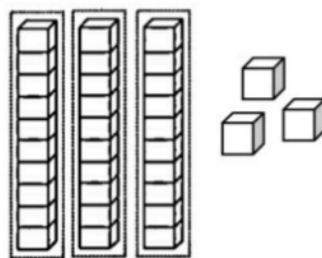
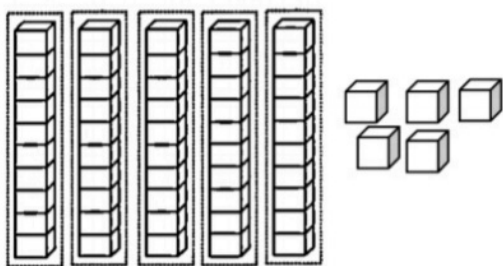
با کشیدن شکل حل کن.



با توجه به شکل ها ، جاهای خالی را کامل کن.



$$\dots - \dots = \dots$$



$$\dots + \dots = \dots$$

جمع و تفریق کن (ابتدا ده تایی ها و سپس یکی ها را اضافه کن).

$$\begin{array}{r} 44 \\ + 24 \\ \hline \end{array}$$

$$\begin{array}{r} 37 \\ + 32 \\ \hline \end{array}$$

$$\begin{array}{r} 87 \\ - 45 \\ \hline \end{array}$$

$$\begin{array}{r} 98 \\ - 54 \\ \hline \end{array}$$

حالا دور بزرگترین جواب به دست آمده خط بکش.

جوابی که یکان آن ۲ است عدد ..... است.

با رسم شکل حل کن.

$$\begin{array}{r} 37 \\ + 16 \\ \hline \end{array}$$



$$\begin{array}{r} 19 \\ + 22 \\ \hline \end{array}$$



$$\begin{array}{r} 26 \\ - 12 \\ \hline \end{array}$$



به کمک جدول اعداد ۱۰۰ تا ۱۰ حاصل را پیدا کن. مثلا اول ۳۴ را پیدا کن و ۲ خانه پایین برو و

از آنجا ۷ خانه به جلو حرکت کن.

|    |    |    |    |    |    |    |    |    |     |
|----|----|----|----|----|----|----|----|----|-----|
| ۱  | ۲  | ۳  | ۴  | ۵  | ۶  | ۷  | ۸  | ۹  | ۱۰  |
| ۱۱ | ۱۲ | ۱۳ | ۱۴ | ۱۵ | ۱۶ | ۱۷ | ۱۸ | ۱۹ | ۲۰  |
| ۲۱ | ۲۲ | ۲۳ | ۲۴ | ۲۵ | ۲۶ | ۲۷ | ۲۸ | ۲۹ | ۳۰  |
| ۳۱ | ۳۲ | ۳۳ | ۳۴ | ۳۵ | ۳۶ | ۳۷ | ۳۸ | ۳۹ | ۴۰  |
| ۴۱ | ۴۲ | ۴۳ | ۴۴ | ۴۵ | ۴۶ | ۴۷ | ۴۸ | ۴۹ | ۵۰  |
| ۵۱ | ۵۲ | ۵۳ | ۵۴ | ۵۵ | ۵۶ | ۵۷ | ۵۸ | ۵۹ | ۶۰  |
| ۶۱ | ۶۲ | ۶۳ | ۶۴ | ۶۵ | ۶۶ | ۶۷ | ۶۸ | ۶۹ | ۷۰  |
| ۷۱ | ۷۲ | ۷۳ | ۷۴ | ۷۵ | ۷۶ | ۷۷ | ۷۸ | ۷۹ | ۸۰  |
| ۸۱ | ۸۲ | ۸۳ | ۸۴ | ۸۵ | ۸۶ | ۸۷ | ۸۸ | ۸۹ | ۹۰  |
| ۹۱ | ۹۲ | ۹۳ | ۹۴ | ۹۵ | ۹۶ | ۹۷ | ۹۸ | ۹۹ | ۱۰۰ |

$$\begin{array}{r} 34 \\ + 27 \\ \hline \end{array}$$

$$\begin{array}{r} 72 \\ - 18 \\ \hline \end{array}$$

$$\begin{array}{r} 97 \\ - 39 \\ \hline \end{array}$$

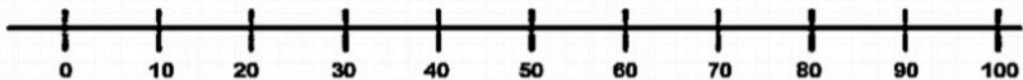
$$\begin{array}{r} 69 \\ + 24 \\ \hline \end{array}$$

ساعت چند است؟



ساعت ..... و ..... دقیقه است. ساعت ..... و ..... دقیقه است. ساعت ..... و ..... دقیقه است. ساعت ..... و ..... دقیقه است.

این اعداد را روی محور به صورت تقریبی نشان بده. (۲۷ و ۳۹، ۴۲، ۵۴)



عدد ۲۷ به ..... نزدیکتر است یا .....؟ عدد ۴۲ به ..... نزدیکتر است یا .....؟


عدد ۵۴ به ..... نزدیکتر است یا .....؟ عدد ۳۹ به ..... نزدیکتر است یا .....؟



جواب جمع و تفریق های زیر را به صورت تقریبی به دست آور.

|   |   |   |   |
|---|---|---|---|
| $\begin{array}{r} 37 \rightarrow - \\ + 26 \rightarrow + \\ \hline \end{array}$ | $\begin{array}{r} 84 \rightarrow - \\ - 36 \rightarrow - \\ \hline \end{array}$ | $\begin{array}{r} 71 \rightarrow + \\ + 28 \rightarrow + \\ \hline \end{array}$ | $\begin{array}{r} 50 \rightarrow - \\ - 15 \rightarrow - \\ \hline \end{array}$ |
|---|---|---|---|

ساعت پخش ۴ برنامه شبکه ی پویا را نشان بده.



سهیل و دوستش برای درست کردن کاردستی، سنگ های ریز جمع می کردند. سهیل ۳۷ سنگ

و دوستش ۴۹ سنگ جمع کردند.



الف) آن ها با هم چند سنگ جمع کرده اند؟

ب) اگر برای کاردستی ۵۸ سنگ بردارند چند سنگ باقی می ماند؟

پایان فصل پنجم کتاب درسی ریاضی ات چه صفحه ای است؟.....

پایان فصل دوم همین کتابت چه صفحه ای است؟.....

بین این دو فصل چند صفحه است؟

