

ردیف	سؤالات علوم دوم دبستان (صفحه اول)
۱	هنگام مشاهده‌ی نرمی پر از چه حسی استفاده می‌کنیم؟ الف) چشایی      ب) بویایی      پ) لامسه      ت) شنوایی
۲	دمای کدام آب بیش تر است؟ □ زیر آن را رنگ کن. 
۳	صدای کدام یک آزاردهنده است؟ □ زیر آن را رنگ کن. 
۴	در هر جمله دور کلمه‌ی صحیح خط بکش. الف) از گردش زمین دور خودش (شب و روز - فصل‌ها) به وجود می‌آید. ب) نور خورشید همیشه (دو طرف - یک طرف) زمین را روشن می‌کند. ج) زمین در هر (۲۴ ساعت - ۱ ساعت) یک بار به دور خود می‌چرخد.
۵	دور چشمه‌های نور خط بکش. 
۶	مراحل زندگی قورباغه را به ترتیب شماره گذاری کن. 

به نام

آموزش و پرورش شهر ..... منطقه .....  
دبستان غیردولتی علمی

آزمون پایان نیمسال دوم

تاریخ برگزاری: .....

کودت پاسخ گویند  
۶۰ دقیقه

علوم دوم دبستان



ردیف	سؤالات علوم دوم دبستان (صفحه دوم)								
۷	به درنا و برنا کمک کن تا مواد داخل آشپزخانه را به دو گروه جامد و مایع تقسیم کنند و آن‌ها را در جای خود قرار دهند. (آلبیمو - گلاب - سیب - قند - سرکه - نخود،								
	<table border="1" style="width: 100%; text-align: center;"> <thead> <tr> <th>جامد</th> <th>مایع</th> </tr> </thead> <tbody> <tr> <td> </td> <td> </td> </tr> <tr> <td> </td> <td> </td> </tr> <tr> <td> </td> <td> </td> </tr> </tbody> </table>	جامد	مایع						
جامد	مایع								

سوخت هر وسیله را بنویس.



۱۰

گذشت پاسخ گوین  
۶۰ دقیقه

علوم دوم دبستان

بسه تمای

آموزش و پرورش شهر ..... منطقه

دبستان غیردولتی علوی

تاریخ برگزاری: ..... / ..... / .....

آزمون پایان نیمسال دوم



سوالات علوم دوم دبستان (صفحه سوم)

ردیف

با توجه به هر تصویر جای خالی را کامل کن.



آلو،



قاصدک،



خیار،



فندق،

۱۱

الف) میوه‌ای چند دانه با دانه‌های نرم است: .....

ب) دانه‌های آن به راحتی با باد جابه‌جا می‌شود: .....

ج) دانه‌ی آن غذای سنجاب است: .....

د) میوه‌ای یک دانه با دانه سفت است: .....

درست و نادرست بودن جمله‌ها را مشخص کن.

الف) ورزش باعث رشد مناسب انسان می‌شود.

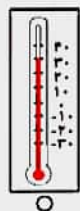
ب) خوردن غذاهای چرب، باعث رشد سریع بدن ما می‌شود.

ج) خوردن لبنیات برای رشد دندان‌ها مفید است.

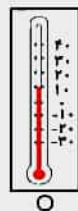
د) آب همیشه یک ماده‌ی مایع می‌ماند.

۱۲

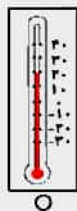
یک دماسنج دمای سه زمان مختلف را در یک روز نشان می‌دهد. هر دماسنج را به زمان آن وصل کن.



نیمه شب



ظهر



ساعت ۵ عصر

۱۳