

نام و نام خانوادگی: ..... تاریخ: ..... نام آموزگار: .....

ریاضی &lt; فصل ۶: جمع و تفریق اعداد سه رقمی - مقایسه‌ی اعداد سه رقمی

علوم &lt; درس ۱۱: من رشد می‌کنم (۱)

فارسی &lt; درس ۱۳: ایران زیبا (۳)

## ریاضی

حاصل جمع و تفریق‌های زیر را نوشته و پاسخ آن‌ها را با هم مقایسه کنید.

$500 + 100 = \dots\dots\dots$   $400 + 200 = \dots\dots\dots$

$800 - 100 = \dots\dots\dots$   $700 + 5 = \dots\dots\dots$

$800 + 100 + 2 = \dots\dots\dots$   $700 + 40 + 7 = \dots\dots\dots$

$900 - 100 = \dots\dots\dots$   $700 + 100 = \dots\dots\dots$

تا جایی که می‌توانید دسته‌های ده‌تایی و صدتایی درست کنید. سپس عدد مناسب را داخل جدول بنویسید.



صدگان	دهگان	یکان

حاصل جمع و تفریق‌ها را از راه گسترده‌نویسی به دست بیاورید و بنویسید.

$$\begin{array}{r} 272 \\ +525 \\ \hline \end{array}$$

$$\begin{array}{r} 704 \\ +140 \\ \hline \end{array}$$

$$\begin{array}{r} 660 \\ -320 \\ \hline \end{array}$$

$$\begin{array}{r} 835 \\ -512 \\ \hline \end{array}$$

۴) قد برنا ۱۳۷ سانتی متر و قد مادرش ۱۶۱ سانتی متر است. قد مادر برنا چند سانتی متر از او بلندتر است؟

.....  
 .....  
 .....

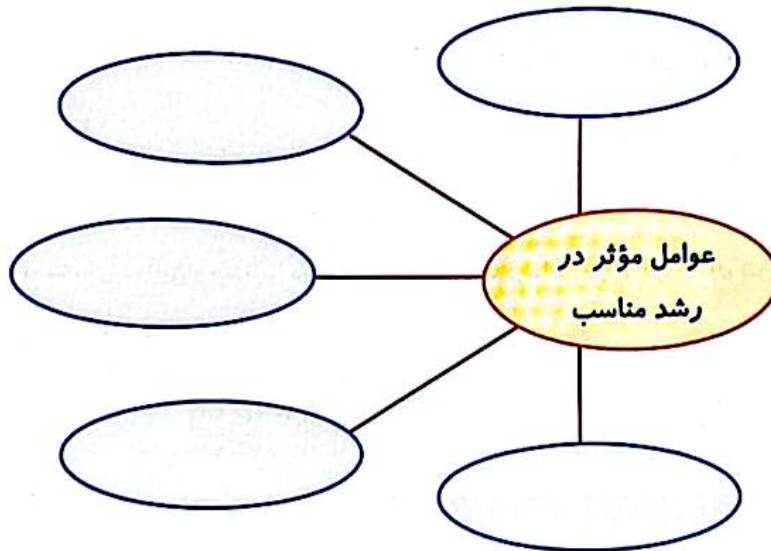
۵) الگوها را ادامه بدهید.

الف) ..... و ..... و ..... و ۲۵ و ۱۶ و ۸ و ۱ (الف)

ب) پانصد و شانزده، پانصد و شش، چهارصد و نود و هفت و ..... و ..... و ..... (ب)

**علوم**

۱) جاهای خالی را کامل کنید.



۲) کلمه‌های مربوط به یکدیگر را به هم وصل کنید.

➕ افزایش می‌یابد.

➕ رشد می‌کنند.

➕ نوشابه و شیرینی

➕ متفاوت است.

➕ اندازه‌ی قد و وزن همه‌ی بچه‌ها در یک کلاس

➕ باعث خرابی و پوسیدگی دندان‌ها می‌شوند.

➕ همه‌ی موجودات زنده

➕ قد و وزن انسان‌ها هنگام تولد تا بزرگسالی



۳ خوردن کدام دسته از غذاهای زیر برای رشد استخوان‌ها مفید است؟ (دور آن‌ها خط بکشید.)



۴ با کمک بزرگ‌ترها و استفاده از کارت مراقبت کودک (دانش آموز) جدول زیر را کامل کنید.

نام و نام خانوادگی کودک	وزن هنگام تولد	قد هنگام تولد	دور سر هنگام تولد

فارسی

۱ جاهای خالی را کامل کنید.

من دوست هستم با ..... با کوه و ..... با .....

نام شاعر: .....



۲ به هر کلمه «ها، یا، ان» اضافه کنید و معنی آن را بنویسید.

معنی

ان



ها

.....





ستاره

.....



کوچه

.....



گنجشک



۳

.....

کلمات را مرتب کنید و جمله بسازید.

الف) ایران - پرتلاش - هستند - و - با ایمان - مردم

ب) به - چنین - کشوری - کنیم - افتخار - ما - باید - داشتن

با توجه به مکان‌های نوشته شده، برجسب مربوط به آن را در جای مناسب بچسبانید.

بیستون کرمانشاه	کوه دماوند	حرم امام رضا (ع)

با حروف مناسب کلمات زیر را کامل کنید.

الف) حف.....

ب) ا..... ف..... ان.....

پ) ..... اف.....

ت) پی..... ته.....

	تکمیل شعر
	ساخت جمله
	اماکن دیدنی ایران
	ساخت کلمات جمع

	جمع و تفریق و مقایسه‌ی اعداد
	حل مسئله
	عوامل مؤثر در رشد انسان
	عوامل مؤثر بر سلامت بدن
	کارت مراقبت کودک

شماخص‌ها

خیلی خوب  
خوب  
قابل قبول  
نیاز به تلاش بیشتر

