



موضوع:

تاریخ



نام و نام خانوادگی

هدف:

فعالیت کلاسی ۱



در کنار هر تصویر یکی از حالت‌های آب (جامد، مایع، گاز) را بنویس.





موضوع:

تاریخ:

نام و نام خانوادگی:

هدف:

با توجه به نقشی مفهومی جاهای خالی را با نوشتن کلمه‌ی مناسب کامل کنید.

۲

جامد


الف: موادی که شکل ثابت و معین دارند.

مایع

ب: موادی که شکل ظرف را به خود می‌گیرند و در ظرف باقی می‌مانند.

گاز

پ: موادی که شکل مشخصی ندارند در همه جا پخش می‌شوند.





موضوع:

تاریخ

نام و نام خانوادگی

هدف:




۳ شکر جامد است یا مایع؟ چرا؟

جامد، چون دانه های آن شکل مشخص و ثابتی از خود دارند.

۴ دو تغذیه سالم نام ببر که یکی جامد و دیگری مایع باشد.

نان و پنیر جامد، شیر مایع





موضوع:

تاریخ:

نام و نام خانوادگی:

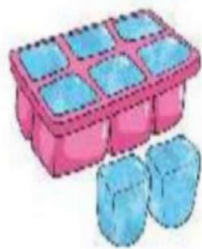
هدف:

دور موارد جامد خط بکش.

۱



(سوپ)



(یخ)



(مداد)



(پرتقال)



(آب پرتقال)

۲ بانوجه به نقشه‌ی مفهومی جاهای خالی را پر کن.

۲

الف: مواد جامد با در یافت. گرما.. به مواد مایع تبدیل می‌شوند.

ب: مواد مایع با دست. دادن. گرما به مواد جامد تبدیل می‌شوند.

