




نام و نام خانوادگی: \_\_\_\_\_  
تاریخ: \_\_\_\_\_  
موضوع: \_\_\_\_\_  
هدف: \_\_\_\_\_



۳ یک لیوان آب و یک مداد روی میز است. یک شباهت و یک تفاوت آن‌ها را بنویس.



شباهت: ..... هر دو ماده هستند.

تفاوت: ..... آب ماده ی مایع است و مداد جامد است.





موضوع:


تاریخ:

نام و نام خانوادگی:

هدف:

تمرین

1 مادر بزرگ برای تهیه کیک از مواد مختلفی استفاده کرد. کدام یک از آن‌ها مایع و کدام جامد است؟ وصل کن.



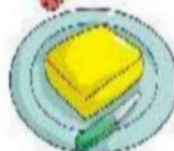
جامد



جامد



مایع




جامد



آب

جامد





موضوع:

تاریخ

نام و نام خانوادگی

هدف:

درست یا نادرست بودن جمله‌های زیر را مشخص کن.


۲

الف: ماده فقط در حالت مایع و جامد است. **نادرست**

ب: اگر آب را گرم کنیم یخ می‌زند. **نادرست**

پ: شکل مواد جامد تغییر نمی‌کند. **درست**

ت: گازها از خود شکلی ندارند. **درست**





موضوع:

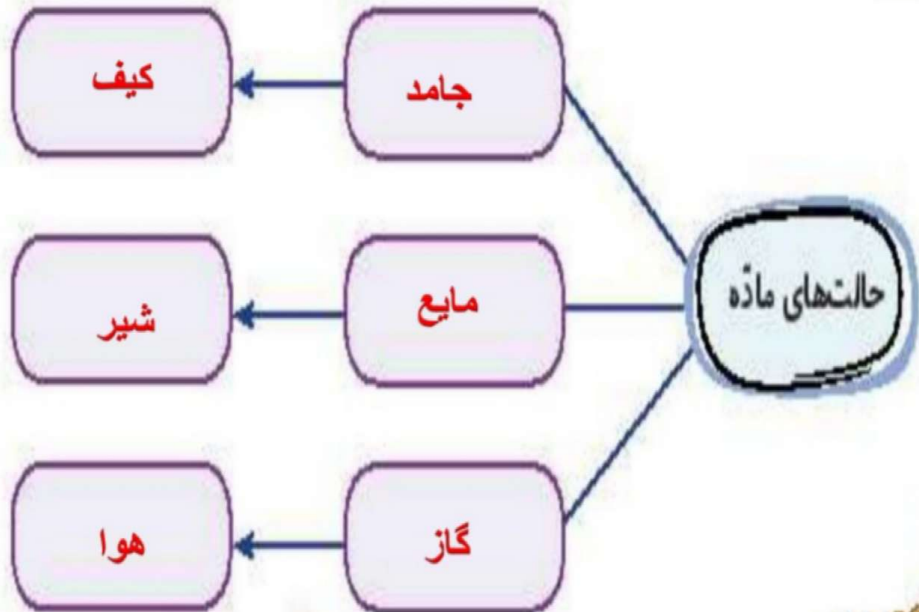
تاریخ

نام و نام خانوادگی

هدف:


حالت‌های مختلف ماده را نام ببر و برای هر یک، یک مثال بزن.

۴



علوم دوم دبستان

۹۶





موضوع:

تاریخ:

نام و نام خانوادگی:

هدف:

۵

با انتخاب گزینه‌ی مناسب به پرسش‌های داده شده پاسخ بده.

الف: آب بر اثر گرما و حرارت به ..... تبدیل می‌شود.

۱) بخار      ۲) مایع      ۳) جامد      ۴) درد

ب: درون کدام یک از هوا پر می‌شود؟

۱) پاک‌کن      ۲) بادکنک      ۳) بادبادک      ۴) مداد

پ: کدام ماده جای بیشتری می‌گیرد؟

۱) یک جبه قند      ۲) توت      ۳) نخود      ۴) موز

ت: یک سیب و یک سنجاق از چه نظر شبیه هستند؟

۱) جامد بودن      ۲) رنگ

۳) اندازه      ۴) مزه

