



به نام خدای رنگین کمان

نمونه سوالات علوم

کتاب کار علوم

اسفند ۱۴۰۴

هنگام مشاهده‌ی نرمی پر از چه حسی استفاده می‌کنیم؟

الف) چشایی

ب) بویایی

پ) لامسه

ت) شنوایی

دمای کدام آب بیش‌تر است؟ زیر آن را رنگ کن.



صدای کدام یک آزاردهنده است؟ زیر آن را رنگ کن.



هنگام مشاهده‌ی نرمی پر از چه حسی استفاده می‌کنیم؟

ت) شنوایی




پ) لامسه

ب) بویایی

الف) چشایی

دمای کدام آب بیش‌تر است؟ زیر آن را رنگ کن.



صدای کدام یک آزاردهنده است؟ زیر آن را رنگ کن.



دور چشمه‌های نور خط بکش.



مراحل زندگی قورباغه را به ترتیب شماره گذاری کن.



دور چشمه‌های نور خط بکش.



مراحل زندگی قورباغه را به ترتیب شماره گذاری کن.



۱



۲



۵



۴



۳

به درنا و برنا کمک کن تا مواد داخل آشپزخانه را به دو گروه جامد و مایع تقسیم کنند و آنها را در جای خود قرار دهند.

«آبلیمو - گلاب - سیب - قند - سرکه - نخود»

مایع	جامد

به درنا و برنا کمک کن تا مواد داخل آشپزخانه را به دو گروه جامد و مایع تقسیم کنند و آنها را در جای خود قرار دهند.

«آبلیمو - گلاب - سیب - قند - سرکه - نخود»

مایع	جامد
آبلیمو	سیب
گلاب	قند
سرکه	نخود

هر کدام از زباله‌ها را به سطل مخصوص خود وصل کن.



«قوطی خالی»



«جعبه کارتون»



«شیشه شکسته»



«بطری خالی»

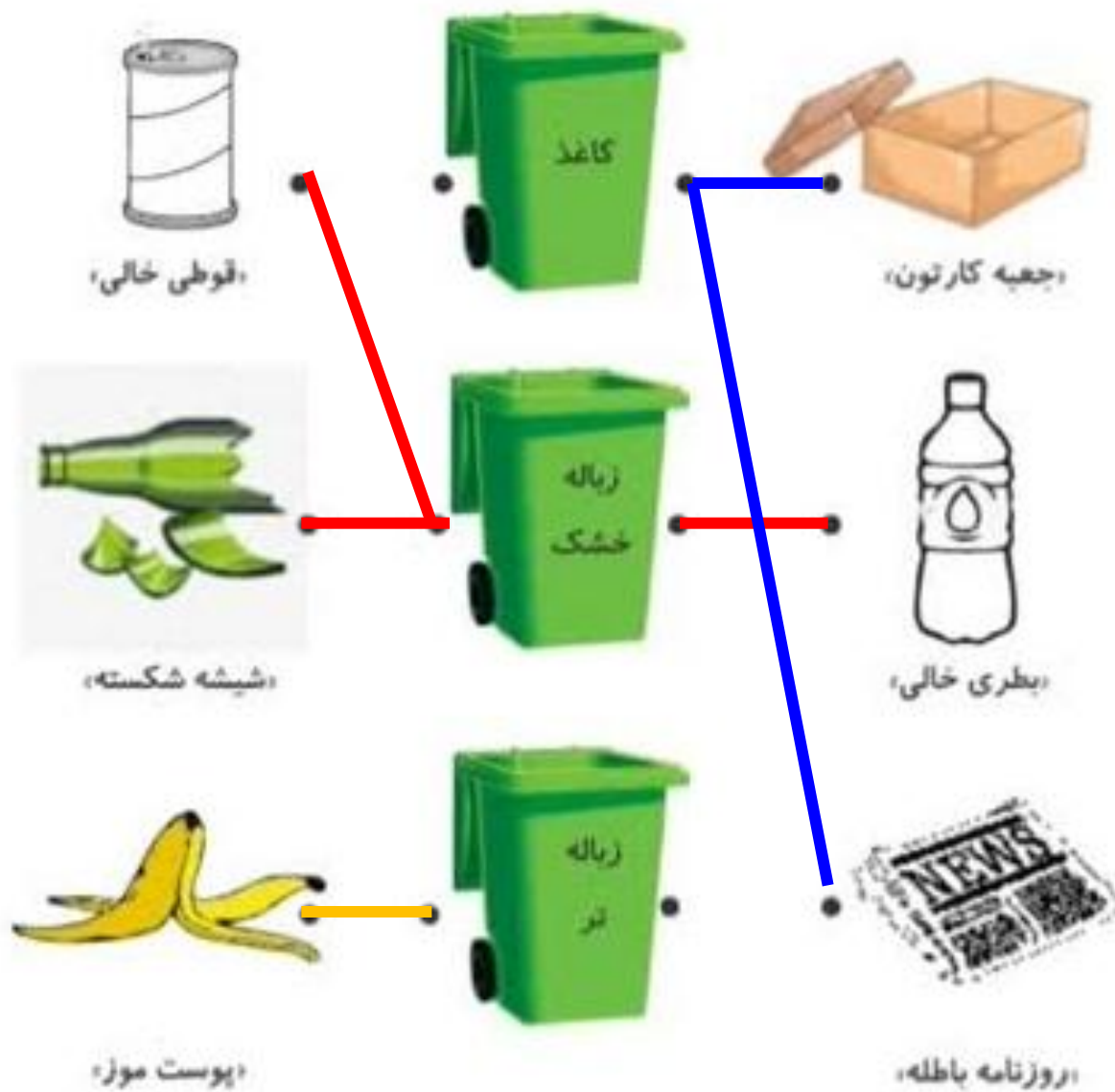


«پوست موز»



«روزنامه باطله»

هر کدام از زباله‌ها را به سطل مخصوص خود وصل کن.



سوخت هر وسیله را بنویس.



.....



.....



.....

سوخت هر وسیله را بنویس.



بنزین



گازوئیل



گاز

با توجه به هر تصویر جای خالی را کامل کن.



«آلو»



«قاصدک»



«خیار»



«فندق»

الف) میوه‌ای چند دانه با دانه‌های نرم است:

ب) دانه‌های آن به راحتی با باد جابه‌جا می‌شود:

ج) دانه‌ی آن غذای سنجاب است:

د) میوه‌ای یک دانه با دانه سفت است:

با توجه به هر تصویر جای خالی را کامل کن.



«آلو»



«قاصدک»



«خیار»



«فندق»

الف) میوه‌ای چند دانه با دانه‌های نرم است: **خیار**

ب) دانه‌های آن به راحتی با باد جابه‌جا می‌شود: **قاصدک**

ج) دانه‌ی آن غذای سنجاب است: **فندق**

د) میوه‌ای یک دانه با دانه سفت است: **آلو**

درست و نادرست بودن جمله‌ها را مشخص کن.




الف) ورزش باعث رشد مناسب انسان می‌شود.

ب) خوردن غذاهای چرب، باعث رشد سریع بدن ما می‌شود.

ج) خوردن لبنیات برای رشد دندان‌ها مفید است.

د) آب همیشه یک ماده‌ی مایع می‌ماند.

یک دماسنج دمای سه زمان مختلف را در یک روز نشان می‌دهد. هر دماسنج را به زمان آن وصل کن.



نیمه شب




ظهر




ساعت ۵ عصر

درست و نادرست بودن جمله‌ها را مشخص کن.

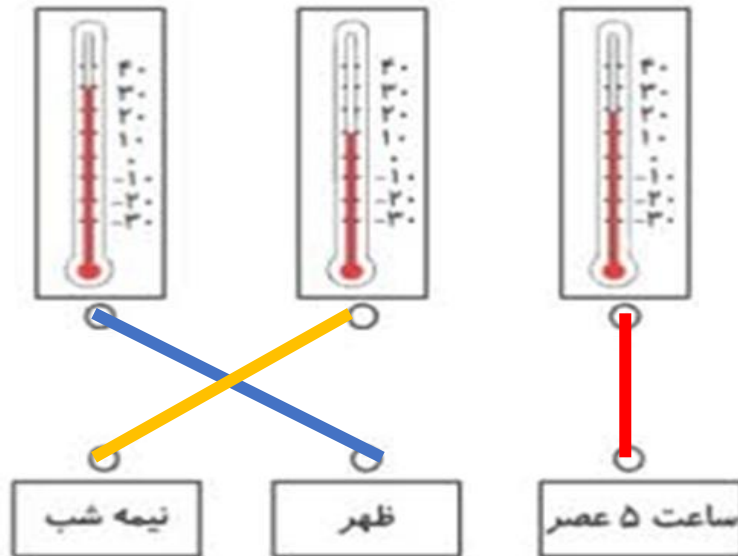
الف) ورزش باعث رشد مناسب انسان می‌شود. 

ب) خوردن غذاهای چرب، باعث رشد سریع بدن ما می‌شود. 

ج) خوردن لبنیات برای رشد دندان‌ها مفید است. 

د) آب همیشه یک ماده‌ی مایع می‌ماند. 

یک دماسنج دمای سه زمان مختلف را در یک روز نشان می‌دهد. هر دماسنج را به زمان آن وصل کن.





به امید دیدار