




موضوع: کاربرد عیدانه (۱)

تاریخ

نام و نام خانوادگی

درس: علوم

۱- گزینه‌ی صحیح را با علامت  مشخص کن.

• کدام میوه تک دانه ای است؟

(ج) پرتقال

(ب) آلبالو

(الف) انار

• محمد می خواهد نخ ابریشم تهیه کند، او از کدام مرحله‌ی زندگی کرم ابریشم می تواند نخ ابریشم بگیرد؟

(ج) تخم

(ب) پروانه

(الف) پیله

• لانه‌ی روبه‌رو مربوط به کدام حیوان است؟



(ج) پروانه

(ب) زنبور

(الف) چرخ ریسک

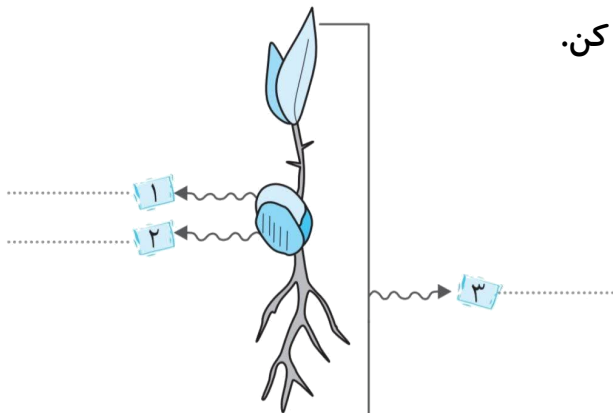
۲- درست یا نادرست بودن جمله‌ها را مشخص کن.

وظیفه‌ی دانه، به وجود آوردن گیاه جدید است.

تعداد دانه‌ها در همه‌ی میوه‌ها یکسان است.

یکی از راه‌های زیاد کردن گیاهان، قلمه زدن است.

۳- قسمت‌های مشخص شده در تصویر را نام گذاری کن.





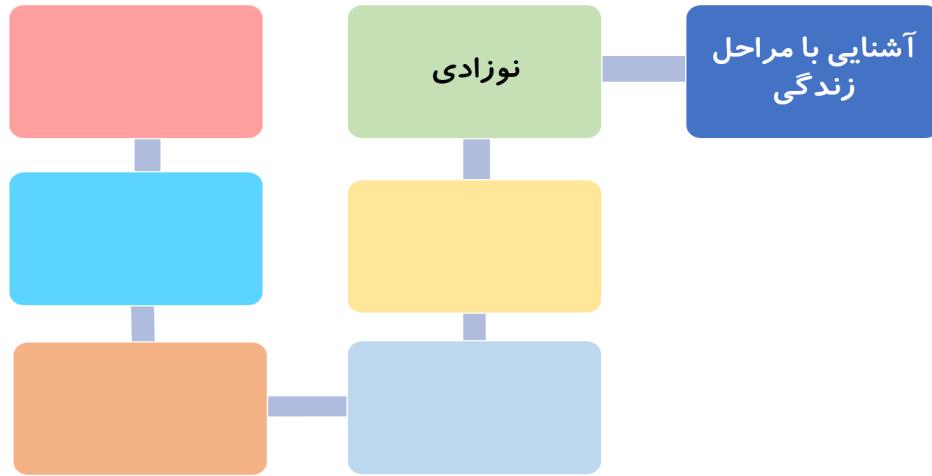
موضوع: کاربرد عیدانه (۱)

تاریخ

نام و نام خانوادگی

درس: علوم

۴- نقشه‌ی مفهومی را کامل کن.



۵- چه کارهایی سلامت دندان های ما را به خطر می اندازد؟ (دو مورد)

.....

.....