



موضوع: کاربرد عیدانه (۲)

تاریخ

نام و نام خانوادگی

درس: علوم

۱- گزینه‌ی صحیح را با علامت  مشخص کن.

• کدام یک از جانوران زیر تخم نمی گذارند؟

(ج) مرغ

(ب) خفاش

(الف) لاک پشت

• کدام گیاه با قلمه زدن رشد می کند؟

(ج) لوبیا

(ب) گوجه فرنگی

(الف) شمعدانی

۲- هر جانور را به لانه‌ی آن وصل کن.



۳- چه کارهایی سلامت دندان های ما را به خطر می اندازد؟ (دومورد)

.....

.....



موضوع: کاربرد عیدانه (۲)

تاریخ

نام و نام خانوادگی

درس: علوم

۴- در جاهای خالی کلمه‌ی مناسب بنویس.

دندان‌های ..... کودکان بعد از مدتی می افتند.

خوردن ..... کمک می کند استخوان‌ها محکم باشند.

مورچه‌ها به صورت ..... زندگی می کنند.

۵- نقشه‌ی مفهومی را کامل کن.





موضوع: کاربرد عیدانه (۱)

تاریخ

نام و نام خانوادگی

درس: علوم

۱- گزینه‌ی صحیح را با علامت  مشخص کن.

• کدام میوه تک دانه ای است؟

(ج) پرتقال

(ب) آلبالو

(الف) انار

• محمد می خواهد نخ ابریشم تهیه کند، او از کدام مرحله‌ی زندگی کرم ابریشم می تواند نخ ابریشم بگیرد؟

(ج) تخم

(ب) پروانه

(الف) پیله

• لانه‌ی روبه‌رو مربوط به کدام حیوان است؟



(ج) پروانه

(ب) زنبور

(الف) چرخ ریسک

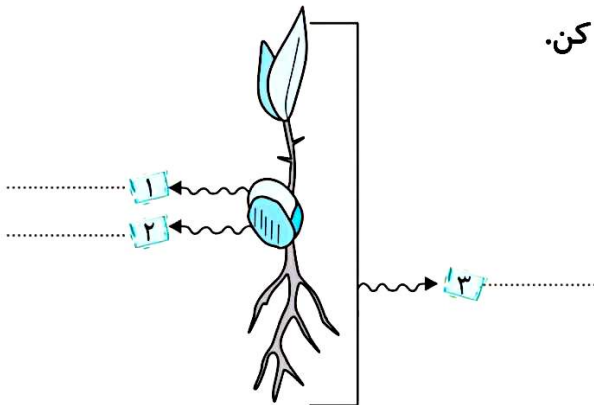
۲- درست یا نادرست بودن جمله ها را مشخص کن.

وظیفه‌ی دانه، به وجود آوردن گیاه جدید است.

تعداد دانه‌ها در همه‌ی میوه‌ها یکسان است.

یکی از راه‌های زیاد کردن گیاهان، قلمه زدن است.

۳- قسمت های مشخص شده در تصویر را نام گذاری کن.





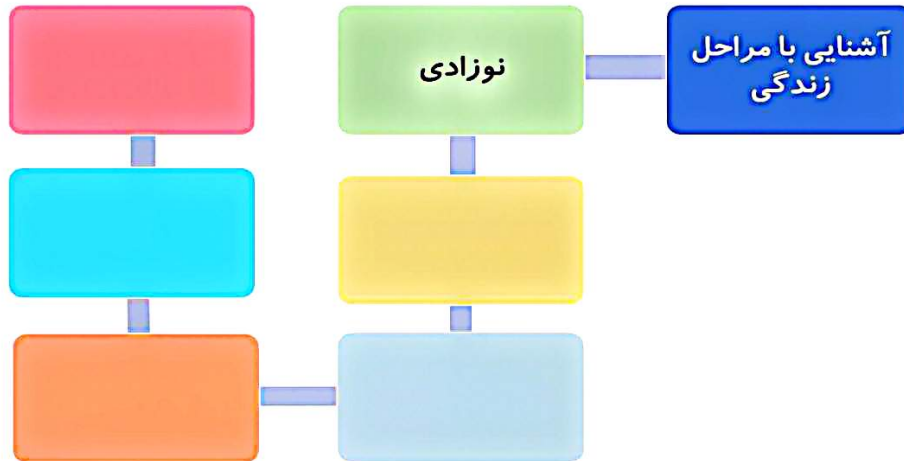
موضوع: کاربرد عیدانه (۱)

تاریخ

نام و نام خانوادگی

درس: علوم

۴- نقشه‌ی مفهومی را کامل کن.



۵- چه کارهایی سلامت دندان های ما را به خطر می اندازد؟ (دو مورد)

.....

.....




موضوع: کاربرد عیدانه (۳)

تاریخ

نام و نام خانوادگی

درس: علوم

۱- گزینه‌ی صحیح را با علامت  مشخص کن.

• پزشک با اندازه‌گیری ..... و ..... می‌فهمد که ما چقدر رشد کرده‌ایم.

(ب) قد - وزن

(الف) مو - ناخن

• برای اطلاع از سالم بودن دندان‌های خود به کدام پزشک مراجعه می‌کنی؟

(ب) جراح قلب

(الف) دندانپزشک

• کدام یک از موارد زیر بهترین وسیله برای اندازه‌گیری وزن است؟

(ب) ترازو

(الف) متر

۲- هر تصویر را به عبارت مناسب آن وصل کن.



•



•



•



•



•



•



موضوع: کاربرد عیدانه (۳)

تاریخ

نام و نام خانوادگی

درس: علوم

۳- در جاهای خالی کلمه‌ی مناسب بنویس.

دانه در داخل ..... وجود دارد.

باد، آب، جانوران و ..... به پراکنده شدن دانه ها کمک می کنند.

گیاهک از ..... استفاده می کند تا رشد کند.

لوبیایی که می خوریم، همان ..... گیاه لوبیاست.

۴- لانه ها برای جانوران چه فایده هایی دارند؟ (دومورد)

.....

.....

۵- مریم لباسی را که مادر بزرگش سال گذشته برایش خریده بود پوشید. اما متوجه شد که لباس برایش

کوچک شده است. توضیح بده چه اتفاقی افتاده است؟

.....

.....