

به نام خدا


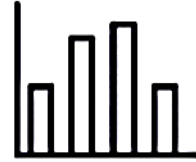
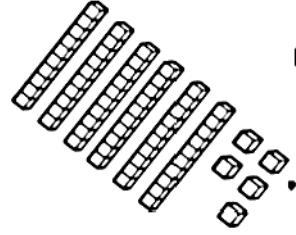
علوی



پایه دوم دبستان

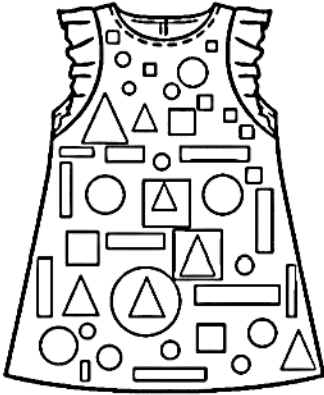
نام و نام خانوادگی

ریاضی دوره ای فصل سوم



به نام خدا  
نمونه سوالات فصل سوم ریاضی پایه دوم دبستان

۱- الف) طبق راهنما رنگ بزن.



- مربع ها ← آبی
- مثلث ها ← سبز
- مستطیل ← صورتی
- دایره ← قهوه ای

ب) از هر کدام چه تعداد وجود دارد؟



ج) هر کدام چند گوشه دارد؟



د) تعداد کل چند ضلعی ها بالا چند تاست؟ .....



۲- الف) شکلی بکش که ۳ ضلع و ۳ گوشه داشته باشد.

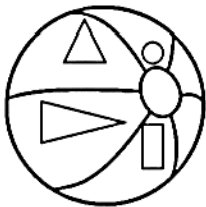
ب) نام چند ضلعی هایی که ۴ ضلع و ۴ گوشه دارند. ....



ج) پنج ضلعی چند ضلع و چند گوشه دارد؟ .....

۳- در این تصویر ۲ شکلی که خیلی شبیه هم هستند را پیدا کن و رنگ کن. سپس شباهت ها و

تفاوت هایشان را بنویس.



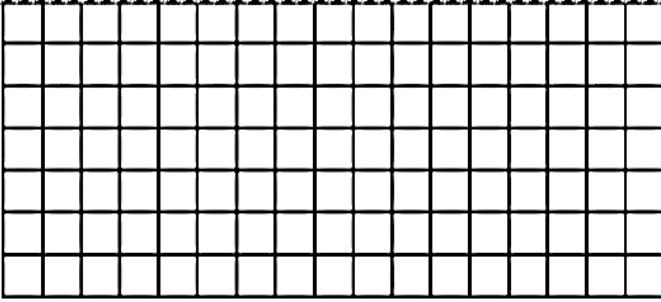
تفاوت





شباهت




۴- در صفحه ی شطرنجی رو به رو کلمه ی «مادر» را با رنگ کردن خانه ها بنویس.



۵- با توجه به تعداد هر شکل، خانه های جدول رو به رو را رنگ کن.

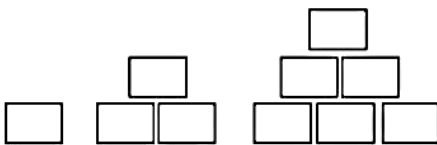


۶- شکل هایی که توضیح داده شده با وصل کردن نقطه ها به هم رسم کن.



الف) در گوشه ی بالا سمت راست: ۴ ضلع و ۴ گوشه داشته باشد و همه ی ضلع ها مساوی هم باشند.  
 ب) در گوشه ی بالا سمت چپ: ۳ ضلع و ۳ گوشه داشته باشد و ۲ ضلع آن بزرگتر از دیگری باشد.  
 ج) در گوشه ی پایین سمت راست: ۴ ضلع و ۴ گوشه داشته باشد و دو ضلع آن مساوی باشند.  
 د) در گوشه ی پایین سمت چپ: هر چند ضلعی که دوست داری بکش.


۷- الگوها را ۲ مرحله ی دیگر ادامه بده.



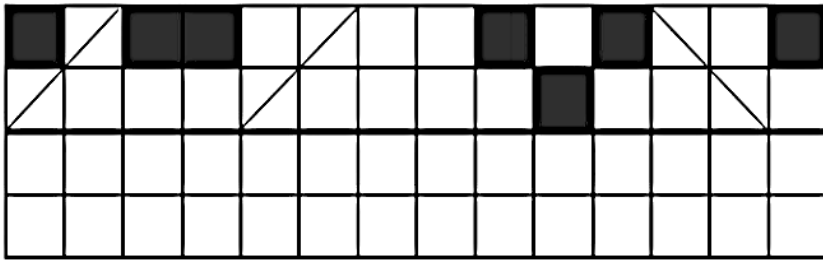
۱

۳

۶



۸- نیمه ی دیگر شکل را با توجه به خط تقارن کامل کن.



۹- اول بنویس ساعت چه زمانی را نشان می دهد و سپس بنویس در هر ساعت عقربه ی بزرگ چند

دقیقه حرکت کرده است؟



..... : .....



..... : .....



..... دقیقه  
حرکت کرده  
است.



..... : .....



..... : .....



..... دقیقه  
حرکت کرده  
است.




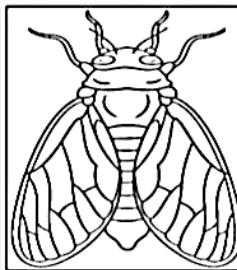
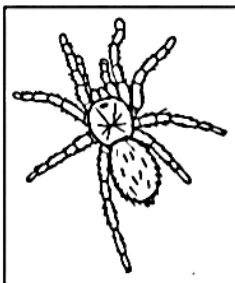
..... : .....



..... : .....




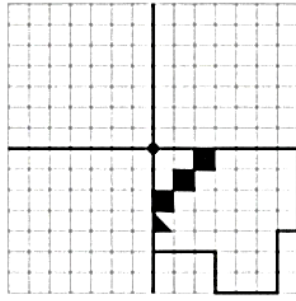
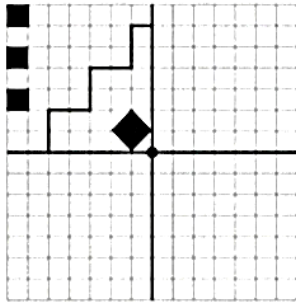
..... دقیقه  
حرکت کرده  
است.



۱۰- کدام یک خط تقارن ندارد؟



۱۱- طوری کامل و رنگ کن که ۴ قسمت کاملاً مثل هم و هم قرینه باشند.



۱۲- عقربه ها را رسم کن.



نیم ساعت مانده به ۹



یک ربع مانده به ۵



نیم ساعت گذشته از ۱۰







یک ربع گذشته از ۲

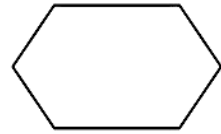
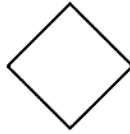
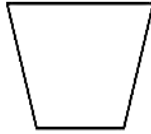
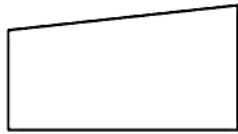
۱۳-




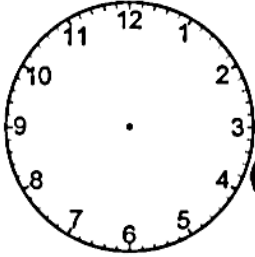
۱۴- شکل های زیر را به ۴ قسمت مساوی تقسیم کن و سپس کلمات زیر را بر حسب اینکه نشانه ی د و، آن ها صدایشان مثل هم است در یک گروه قرار بده و هر کدام را در یک شکل بنویس. (خواهر- ورزش - خورشید - موز - خوراکی- توت - خواندن - خواهش - ورق - موش - شور - والیبال).



۱۵- وسط اضلاع را مشخص کن و علامت بزن و سپس علامت ها را به هم وصل کن.



۱۶- کامل کن (می توانی از ساعت رو به رو کمک بگیری).



۱۷- نیمه ی دیگر شکل های زیر را کامل کن.

