



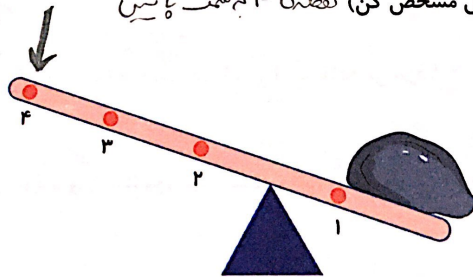


۲. در انجام کدام کارها نیروی زمین مفید است و به انجام راحت‌تر کار کمک می‌کند؟ دور عدد شماره‌ی آن خط بکش.



۳. در شکل زیر اگر بخواهیم سنگ را راحت‌تر بلند کنیم در کدام نقطه و در چه جهتی باید نیرو به اهرم وارد

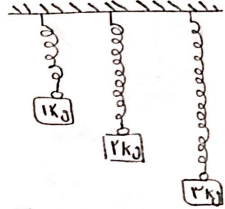
کنیم؟ (با گذاشتن یک فلش مشخص کن) نقطه‌ی ۴ درست است یا سِین





۴. جهت نیرویی که از طرف کره‌ی زمین به کوه، درخت و عروسک وارد می‌شود را بکش.



۵. با وصل کردن هر وزنه، به فنر یک بار دیگر فنر را رسم کن.



۶. در هر شکل محل تکیه‌گاه، جسم و نیرو را مشخص کن. جسم را زیر هر در، طرف تکیه‌گاه ترازوی برود.



۷. کدام نیروی غیرتماسی برای پیدا کردن مسیر در کشتی‌ها استفاده می‌شود؟

.....
جناطیسی، آهنربا

۸. برنا برای رفتن به طبقه‌ی سوم سوار آسانسور شده است. وقتی آسانسور شروع به حرکت می‌کند نیروی وزن

برنا به کدام جهت است؟

.....
پایین

