

# ارمغان هفته - سوم دبستان

شماره‌ی

۲۴

نام و نام خانوادگی: ..... تاریخ: ..... نام آموزگار: .....

ریاضی < فصل ۶: جمع و تفریق تکیه‌ی علوم < درس ۱۱: بکاربرد و ببینید فارسی < درس ۱۴ و ۱۵: بوی سیب، حکایت خروس ایرانی قرآن < فصل ۳: انس با قرآن کریم (۱۱) مطالعات اجتماعی < درس ۱۸: خانه‌ها با هم تفاوت دارند. هدیه‌های آسمان < درس ۱۵: همسفر ناشناس

## ریاضی

۱ عبارت جمعی را که شکل زیر نشان می‌دهد در جدول ارزش مکانی مکتبی بنویسید.

هزارگان	صدگان	دهگان	یکان
+			

۲ حاصل جمع و تفریق‌های زیر را بدست آورید.

$$\begin{array}{r} 3000 \\ + 1287 \\ \hline \end{array}$$

$$\begin{array}{r} 5291 \\ + 2502 \\ \hline \end{array}$$

$$\begin{array}{r} 2930 \\ + 1317 \\ \hline \end{array}$$

$$\begin{array}{r} 6620 \\ + 3050 \\ \hline \end{array}$$

۳ در جملهای خالی عدد مناسب بگذارید.

ه	ص	د	ی
	۴	۷	
+	۲		۵
۵	۵	۸	۶

۴ در یک کارگاه صنایع دستی، یک هنرمند ۴۳۵۱ ظرف را رنگ کرده است. اگر ۲۵۶۰ تای آن‌ها مربوط به ماه گذشته باشند او در این ماه چند ظرف رنگ کرده است؟

۵ از دریاچه‌ای ۳۱۰۹ ماهی قزل‌آلا و ۲۳۴۵ ماهی کفال و ۹۰۸ ماهی کپور صید شده است. چند ماهی از این دریاچه صید شده است؟

عباس آقا زمینی به شکل مستطیل دارد. او می‌خواهد دور تا دور زمینش را با سیم خاردار ببندد تا کسی نتواند بدون اجازه وارد زمینش شود. اگر طول زمینش ۱۰ متر و عرض آن نصف طولش باشد، او چند متر سیم خاردار باید تهیه کند؟

$(2 \times 9) + (2 \times 6)$

عبارت روبه‌رو مربوط به محیط کدام شکل است؟ آن را رنگ بزنید.



**علوم**

با توجه به ریشه‌ی گیاه، گل و برگ مناسب برای این گیاه را انتخاب کرده و بچسبانید.



جدول زیر را کامل کنید.

گل	برگ	ساقه	ریشه	دانه	نام گیاه
۴ یا ۵ و مضرب‌های آن		نارک توپیر		دوقسمتی	کدو
	پهن		راست		لوبیا
۳ یا ۶ و مضرب‌های آن		نارک توخالی		یک قسمتی	بادمجان
	باریک و دراز		لغشان		گندم

تصویر زیر را با دقت نگاه کنید.



- الف) نام گیاه چیست؟
- ب) نوع برگ آن چگونه است؟
- پ) نوع میوه‌ی آن چگونه است؟
- ت) نوع دانه‌ی آن چگونه است؟
- ث) یک گیاه دیگر مانند آن نام ببرید.





## مطالعات اجتماعی

۱ درستی و نادرستی هر عبارت را مشخص کنید.

- الف) زهرا هنگام خروج از کلاس چند تکه زباله‌ای که دوستش جا گذاشته بود را در سطل زباله انداخت.
- ب) علی به دوستش که سریش شده بود و چند روز به مدرسه نیامده بود برای یادگیری بهتر دروس کمک نکرد.
- پ) بچه‌های کلاس به کمک یکدیگر کلاس را تمیز نگه می‌دارند.

۲ الف) کدامیک از بخش‌های مدرسه‌ی خود را دوست دارید؟

ب) آیا دوست دارید در آینده شغلی در مدرسه داشته باشید؟ به چه دلیل؟

۳ جاهای خالی را با دقت کامل کنید.

الف) مدرسه خانه‌ی ما است.

ب) مدرسه جای خواندن قرآن و نماز و ... است.





پ) کارکنان مدرسه با هم می‌کنند تا دانش آموزان درس بخوانند.






## هدیه‌های آسمان - قرآن

۱ به چه دلیل امام سجاد (ع) به زین العابدین، معروف شده است؟

۲ آرامگاه امام سجاد (ع) در کدام شهر و کدام قبرستان قرار دارد؟

۳ یک دعا از امام سجاد (ع) که در صحیفه‌ی سجادیه آمده است را بنویسید.

	درک مطلب
	واژه‌شناسی
	مکان‌های مختلف و قوانین مدرسه
	آشنایی با امام چهارم

	جمع و تفریق تکنیکی
	مسائل جمع و تفریق
	محیط مستطیل
	دسته‌بندی گیاهان از نظر ریشه، دانه، برگ، ساقه و گل
	گیاهان مخروط‌دار

شاخص‌ها

- خیلی خوب
- خوب
- قابل قبول
- نیاز به تلاش بیشتر