



شماره‌ی ۱۹

ارمغان هفته - سوم دبستان

نام و نام خانوادگی: تاریخ: نام آموزگار:

مطالعات اجتماعی < درس ۱۴: خانام را دوست دارم.
هدیه‌های آسمان < درس ۱۱: عید مسلمانان
قرآن < فصل ۲: انس با قرآن کریم (۵) و (۶)

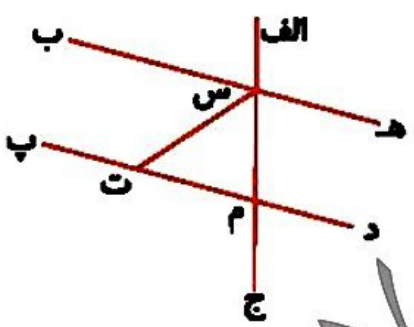
ریاضی < فصل ۵: خط، نیم‌خط، پاره خط و قطر
علوم < درس ۹: نیروها هم‌جا (۱) و (۲)
فارسی < درس ۱۱: نویسنده‌ی بزرگ

ریاضی

در هر شکل چند پاره خط می‌بینید؟



.....



کار

در شکل زیر خطها، نیم خطها و پاره خطها را نام ببریم.

- خط راست:
- نیم خطها:
- پاره خط:



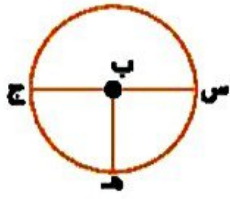
با توجه به شکل به سؤالات زیر پاسخ دهید.

- الف) طول پاره خط «س ه» چقدر است؟
- ب) طول پاره خط «م ه» چقدر است؟
- پ) اندازه‌ی پاره خط «م د» چقدر است؟

شکلی با ۵ قطر رسم کنید.



با توجه به شکل، پاسخ‌های مناسب را به یکدیگر وصل کنید.



قطر

نام پاره‌خط 'ب ه' .

شعاع

نام پاره‌خط 'س ج' .

قطر

از به هم وصل شدن پاره‌خط 'س ب' و 'ب ج'، به وجود می‌آید.

علوم

در هنگام نیروی ما به صورت کشش عمل می‌کند.

۴ بستن دکمه‌ی پیراهن

۳ تایپ کردن

۲ پوشیدن جوراب

۱ فرار بازی

۲ جهت نیرو را با فلش نشان دهید.



۳ در شکل‌های زیر نیرو باعث چه چیزی می‌شود؟



۴ در کدام شکل‌ها نیرو باعث حرکت می‌شود؟



فارسی

با توجه به متن درس نویسنده‌ی بزرگ، کلماتی که نشانه‌های داخل جدول را دارند در جای مناسب بنویسید.

ط	ث	غ	ح

۱ درستی و نادرستی هر عبارت را مشخص کنید.

الف) سعدی اهل شیراز بود.

ب) حاتم طایی، خارکن بود.

پ) سعدی با قرآن و احادیث آشنایی کامل داشت.

۲ در داستان 'خواب خلیفه، چرا به یکی از خواب‌گزارها جایزه داد و یکی از خواب‌گزارها را مجازات کرد؟

.....

.....

.....

مطالعات اجتماعی

۱ کارهایی که در خانه انجام می‌دهید را با مشخص کنید.

عبادت خدا

استراحت کردن

روشن کردن آتش

مشورت کردن

درخت کاری

فوتبال بازی کردن

۲ چرا همه‌ی انسان‌ها به خانه نیاز دارند؟

.....

.....

۳ جاهای خالی را با کلمات مناسب کامل کنید.

الف) در خانه همه خدا را و از نعمت‌هایش تشکر می‌کنند.

ب) اعضای خانواده در خانه کارهای انجام می‌دهند.

پ) اعضای خانواده در خانه دور هم جمع و با هم می‌کنند و اوقات خوبی را با هم می‌گذرانند.

هدیه های آسمان - قرآن

۱ متن زیر را به دلخواه کامل کنید.

ما در روز عید فطر

.....

.....

.....

۲ کلمات مشخص شده را معنا کنید.

و بِالْوَالِدَيْنِ إِحْسَانًا،

.....

۳ با توجه به زندگی حضرت موسی (ع) جدول زیر را کامل کنید.




					الف
					ب
					پ
					ت





الف) او پس از رهایی از فرعون به این شهر هجرت کرد.

ب) او با دختر این پیامبر ازدواج کرد.

پ) نام برادر حضرت موسی (ع) است.

ت) به دستور خدا عصایش به آن تبدیل شد.

	خانواده و رفع نیازهای ما
	اعیاد مسلمانان
	زندگی حضرت موسی (ع)

	نام گذاری و شمارش خط، نیم خط و پاره خط
	آشنایی با فطر
	جهت و اثرات نیرو
	درک مطلب

