


فعالیت کلاسی ۱



۱ مراحل زندگی قورباغه را شماره بگذار.

۱



۲ اندام تنفسی و اندام حرکتی ماهی‌ها چیست؟

۲

اندام تنفسی:

.....

اندام حرکتی:

.....

۳ تفاوت پولک‌های خزندگان و ماهی‌ها چیست؟

۳

.....

.....

.....




فعالیت کلاسی ۱



مراحل زندگی قورباغه را شماره بگذار.

۱



۲ اندام تنفسی و اندام حرکتی ماهی‌ها چیست؟

آبشش

اندام تنفسی:

باله و دم

اندام حرکتی:

۳ تفاوت پولک‌های خزندگان و ماهی‌ها چیست؟

پولک خزندگان سفت و محکم و پولک ماهی

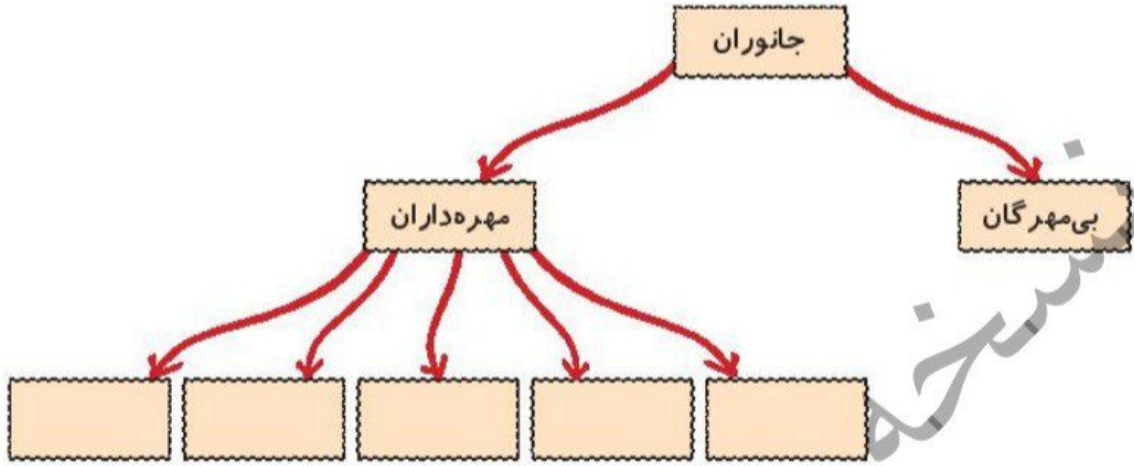
هانرم تر و نازک تر و لغزنده





نمودار زیر را کامل کن.

۱



منقار، پا و نام پرنده‌ی مربوط به هر کدام را با خطوط یک رنگ به هم وصل کن.

۲

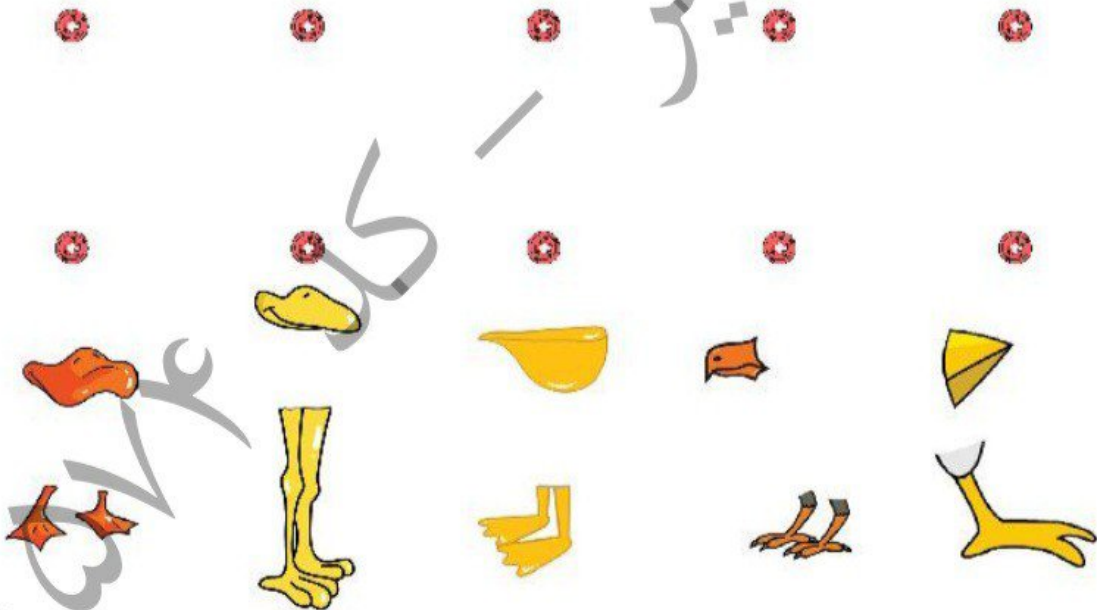
پلیکان

کرکس

اردک

گنجشک

شترمرغ



هر کدام از جانوران زیر در کدام گروه از مهره‌داران قرار دارند؟

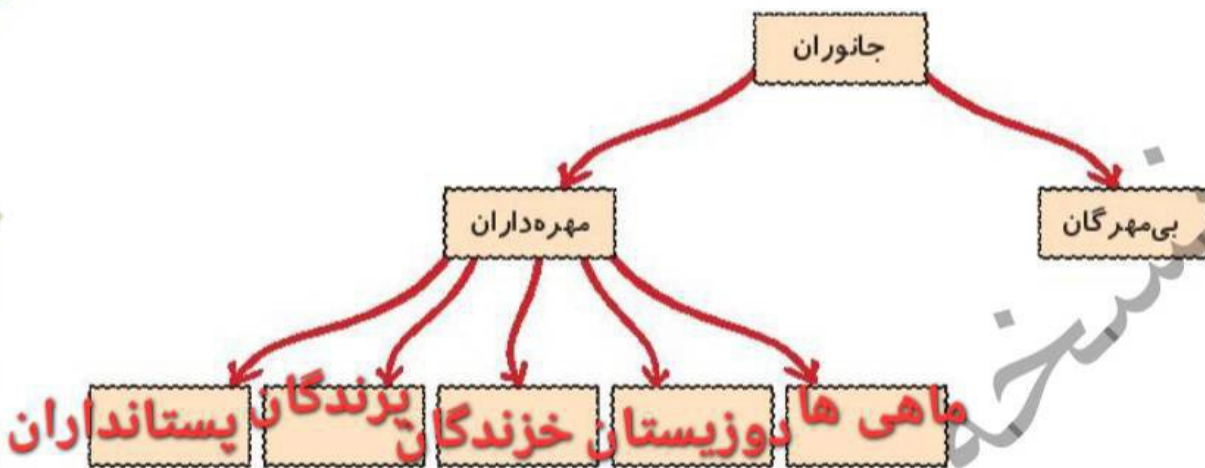
۳

- | | |
|--------------------|----------------|
| الف: لاک‌پشت | ت: سمندر |
| ب: وال | ث: دلفین |
| پ: مارمولک | ج: خفاش |



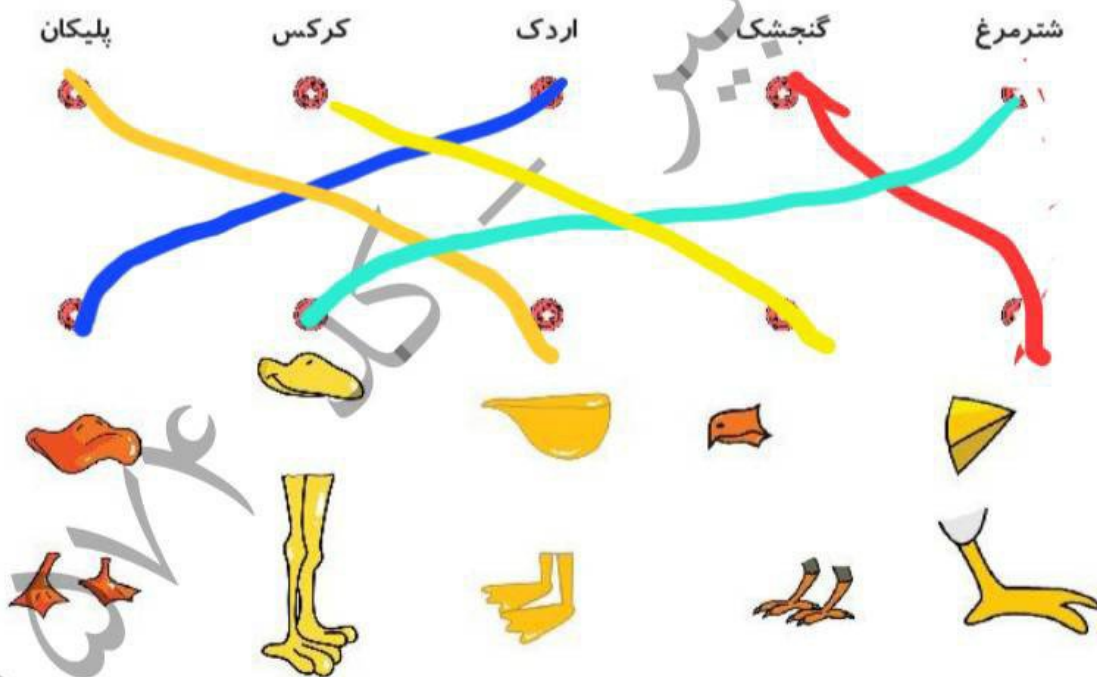
نمودار زیر را کامل کن.

۱



منقار، پا و نام پرنده‌ی مربوط به هر کدام را با خطوط یک رنگ به هم وصل کن.

۲



هر کدام از جانوران زیر در کدام گروه از مهره‌داران قرار دارند؟

۳

دوزیستان
پستانداران

ت: سمندر

ث: دلفین

ج: خفاش

خزندگان
پستانداران

الف: لاک‌پشت

ب: وال

خزندگان

پ: مارمولک