

فارسی < درس ۱۵ و ۱۶: دریا - اگر جنگل نباشد. قرآن < انس با قرآن کریم (۱۳)

ریاضی

۱ در یک کیسه ۷ مهره‌ی آبی و ۵ مهره‌ی قرمز وجود دارد؟
 الف) چه کسری از مهره‌ها آبی هستند؟ $\frac{7}{12}$
 ب) چه کسری از مهره‌ها قرمز هستند؟ $\frac{5}{12}$
 پ) احتمال بیرون آمدن کدام رنگ با چشم بسته بیشتر است؟ آبی چون از قرمز بیشتر است.

۲ جدول زیر مربوط به داده‌های یک گل‌فروشی می‌باشد. صاحب مغازه تعداد گل‌هایی را که در یک هفته فروخته است را در این جدول یادداشت کرده است.
 الف) چه کسری از گل‌های فروخته شده مریم می‌باشد؟ $\frac{20}{100}$
 ب) کدام گل‌ها بیش‌تر فروخته شده‌اند؟ یاس و مریم
 پ) نمودار دایره‌ای داده‌های این مسئله را رسم کنید.


نوع گل	مریم	یاس	ارکیده	رز
تعداد	۲۰	۱۰	۳۰	۴۰

۳ در کدام کیسه احتمال خارج شدن رنگ قرمز بیشتر است؟ دلیل انتخاب خود را بنویسید.
 در هر کیسه که تعداد قرمزها از بقیه رنگ‌ها بیشتر باشد احتمال خارج شدن آن بیشتر است.

۴ تعداد شیرینی‌های یک شیرینی‌فروشی به صورت زیر می‌باشد. برای مقایسه‌ی تعداد شیرینی‌ها شما چه نموداری را پیشنهاد می‌کنید؟ آن را رسم کنید. نمودار ستونی

نوع شیرینی	تعداد
خامه‌ای	۲۰
دانمارکی	۱۰
باقلا	۱۵
ناپلونی	۵

۱

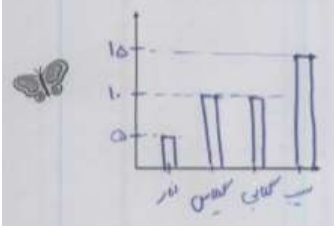




نام و نام خانوادگی: _____
 تاریخ: _____
 موضوع: _____
 هدف: _____

جمله	به طور حتم اتفاق می افتد	احتمال دارد اتفاق بیافتد	به طور حتم اتفاق نمی افتد
۱) به دنیا آمدن یک انسان با ۷ پا	<input checked="" type="checkbox"/>	<input type="checkbox"/>	<input type="checkbox"/>
۲) اگر شب دیر بخوابیم صبح دیر بیدار می شویم.	<input type="checkbox"/>	<input checked="" type="checkbox"/>	<input type="checkbox"/>
۳) اگر باران ببارد زمین خیس می شود.	<input type="checkbox"/>	<input type="checkbox"/>	<input checked="" type="checkbox"/>
۴) در شب هوا روشن باشد.	<input checked="" type="checkbox"/>	<input type="checkbox"/>	<input type="checkbox"/>
۵) فردا خورشید طلوع نکند.	<input checked="" type="checkbox"/>	<input type="checkbox"/>	<input type="checkbox"/>

۶) جدول زیر تعداد درختان باغ پدر بزرگ سحر را نشان می دهد. با توجه به آن نمودارها را کامل کنید.



درخت	سیب	گلابی	گیلاس	انار
تعداد	۱۵	۱۰	۱۰	۵

$$15 + 10 + 10 + 5 = 40$$

$$40 \div 8 = 5$$

با توجه به نموداری که رسم کردید کدام درختها به صورت مساوی در باغ وجود دارد؟

گلابی و انار


علوم

- ۱) درستی و نادرستی هر عبارت را مشخص کنید.
- الف) بچه قورباغهها در خشکی زندگی می کنند.
- ب) نوعی وزغ وجود دارد که پاهایش برآمدگی شیشه بیل کوچک دارد.
- پ) بدن دلفینها پولک ندارد.

۲) کدام گزینه عبارت زیر را به درستی کامل نمی کند؟

ماهیها

- ۱) برخلاف دوزیستان بالغ، آبشش دارند.
- ۲) برخلاف نوزاد دوزیستان، از هوای محلول در آب استفاده می کنند.
- ۳) همانند دوزیستان در آب تخم گذاری می کنند.



نام و نام خانوادگی

تاریخ

موضوع:

هدف:

۳ تفاوت‌ها و شباهت‌های کوسه و نهنگ را بیان کنید. کوسه با آبشش ولی نهنگ با سس تنفس می‌کند.

تفاوت: کوسه جزو دسته پستانداران است. کوسه تخم‌گذار و نهنگ بچه‌زا است.
شباهت: هر دو دانه‌دار هستند و گام‌های زیادی می‌کنند و با آب دراز می‌کشند.

۴ بولک دو جانور زیر با هم چه فرقی دارد؟ چرا؟
بزرگ بولک‌های بزرگ‌تر است و بزرگ‌تر است و با حرکت می‌شود. آسمان تیره‌تر است و حرکت کند. ولی بولک‌ها بزرگ‌تر است و حرکت می‌کند و زودتر است.



فارسی

۱ کلمات هم‌خانواده را به هم وصل کنید.

اصوات	معراج
موج	مؤاج
عروج	صوت
آرام	رام

۲ از میان کلمات زیر، کلمات غلط را پیدا کنید و صحیح آن را بنویسید.
غوطه، مثل، عفق، ذلال، ساحل، ماصه

۳ کلمات زیر را به ترتیب حروف الفبا مرتب کنید.
غوطه - افق - صورت - موج - مهربان - دل‌گشا - ساحل

نام و نام خانوادگی

تاریخ

موضوع:

هدف:

مطالعات اجتماعی

۱ الف) کدام نهاد برای خانه‌ها نشانی تعیین می‌کند؟
شهرداری

ب) آیا تا به حال به پلاک‌های کوچه یا خیابان خود دقت کرده‌اید؟ این پلاک‌ها به چه ترتیبی کنار هم قرار می‌گیرند؟
بله. اعداد زوج در یک طرف و اعداد فرد در طرف مقابل آن کوچه

۳

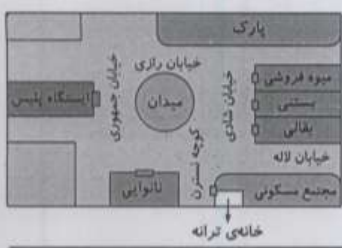
۲ با توجه به تصویر، در جاهای خالی کلمه‌های مناسب بنویسید.

الف) ترانه می‌تواند از مسیر گوناگون به میوه فروشی برود.

ب) ایستگاه پلیس در خیابان جمهوری قرار دارد.

ب) نانوائی در کنار کوچه‌ی نسترن قرار دارد.

ت) بقالی در تقاطع خیابان لاله و خیابان سارون قرار دارد.



۳ الف) کدام گزینه نشانی دقیق خانه را نشان می‌دهد؟

۱) نام شهر - نام محله - شماره‌ی خانه

۲) نام شهر - نام محله - نام خیابان - نام کوچه - پلاک ✓

۳) نام خیابان - نام کوچه - شماره‌ی خانه

۴) نام محله - نام کوچه - پلاک

ب) علت گم شدن یک فرد چه چیزی می‌تواند باشد؟ هنگام گم شدن به چه کسی مراجعه می‌کنیم؟

۱) نبودن بزرگ‌ترها - پستی

۲) بی‌نظمی - پلیس

۳) نداشتن خانه - مأمور شهرداری

۴) نداشتن آدرس - پلیس ✓



