



پاسخنامه ارمان ۲۹

موضوع:

تاریخ:

نام و نام خانوادگی:

هدف:

ریاضی

۱ کوچکترین عدد فرد چهار رقمی بدون تکرار رقم‌ها را که مجموع رقم‌های آن ۱۰ باشد بنویسید.

1027

۲ حاصل ضرب دو عدد ۵۶ و جمع آن دو ۱۵ است. این دو عدد کدامند؟

$\square \times \square = 56$
 $\square + \square = 15$

۳ اختلاف بزرگترین عدد چهار رقمی با کدام عدد برابر با ۲۳۵۷ است؟

بزرگترین عدد چهار رقمی = ۹۹۹۹
 $9999 - 7742 = 2257 \Rightarrow$
 این عدد ۷۷۴۲ است.

۴ با رقم‌های ۰، ۶، ۸، ۳ و ۴ چند عدد چهار رقمی می‌توان نوشت که رقم دهگان آن ۳ باشد؟ (تکرار ارقام مجاز نیست.)

$\Rightarrow 8433 - 8334 - 6833 - 6338 - 3638 - 3834$


۵ عددهای ۰ تا ۸ را با توجه به توضیحات داده شده را در جای خود قرار دهید.

الف) در مثلث فقط عددهای زوج است.
 ب) عدد ۵ هم در مربع و هم در مستطیل است.
 پ) عدد ۱ و ۳ فقط در مستطیل هستند.
 ت) عدد ۲ هم در مربع و هم در مثلث است.
 ث) عدد ۴ هم در مستطیل و هم در مثلث است.
 ج) عدد ۷ فقط در مربع است.

۵	۳	۴	۳
۸	۴	۳	۳
۸	۳	۴	۴
۶	۸	۴	۳
۴	۳	۴	۸
۳	۶	۴	۸
۳	۸	۴	۴

علوم

۱ جانوران مهره‌دار را آبی و بی‌مهره را قرمز کنید.





نام و نام خانوادگی

تاریخ

موضوع:

هدف:

۲ خزندگان روی تخم‌های خود نمی‌خوابند ولی پرندگان روی تخم‌های خود می‌خوابند، بنابراین:

- تخم‌های پرندگان در برابر عوامل خطرناک محیطی مقاوم‌تر است.
- تخم‌های پرندگان نسبت به خزندگان بزرگ‌ترند و اندوخته‌ی غذایی بیش‌تری دارند.
- تخم‌های خزندگان نسبت به پرندگان زودتر به جنین تبدیل می‌شوند.
- تخم‌های پرندگان باید گرم نگه داشته شوند.

۳ تحقیق کرده و بنویسید.

الف) پستانداری تخم‌گذار است: *پلایس پرانس*

ب) پستانداری پرنده است: *حمام*

پ) پستانداری شناگر است: *وال یا خنک*

ت) پستانداری خزنده است: *اکدینا*

۴ هر پا مربوط به کدام پرنده است؟ (عکس پرنده را از برجسب‌ها ببرید و در کنار پاهایش بچسبانید.) حالا از روی پای آن پرنده بگویند چه مهارتی دارد.

--	--	--	--

پاهای خری و پلایس پرانس

تیزپایان پلایس پرانس

پاهای شام‌نشین که سه انگشت در جلو و یک انگشت در عقب قرار دارد.

۵ حیوانات ما قبل تاریخ به نام دایناسور در کدام گروه جانوران مهره‌دار قرار می‌گیرند؟ دلیل این انتخابتان چیست؟

خزندگان چون تخم‌گذار بودند و هیچ لایم از دایناسورها پرواز نمی‌کردند و انور در کبهم زودتر می‌گردیدند.





نام و نام خانوادگی: _____ تاریخ: _____ موضوع: _____ هدف: _____

فارسی

۱. معنی کلمات زیر را بنویسید.

<table border="0"> <tr> <td style="border: 1px solid black; padding: 5px;">تعماری - کاهناری</td> <td style="padding: 0 10px;">←</td> <td style="border: 1px solid black; padding: 5px;">حفظ</td> </tr> <tr> <td style="border: 1px solid black; padding: 5px;">صدای پستی - حوالات</td> <td style="padding: 0 10px;">←</td> <td style="border: 1px solid black; padding: 5px;">روزه</td> </tr> </table>	تعماری - کاهناری	←	حفظ	صدای پستی - حوالات	←	روزه	<table border="0"> <tr> <td style="border: 1px solid black; padding: 5px;">کناره - گوشه</td> <td style="padding: 0 10px;">←</td> <td style="border: 1px solid black; padding: 5px;">حاشیه</td> </tr> <tr> <td style="border: 1px solid black; padding: 5px;">صدای بلند و ترسناک</td> <td style="padding: 0 10px;">←</td> <td style="border: 1px solid black; padding: 5px;">غرش</td> </tr> </table>	کناره - گوشه	←	حاشیه	صدای بلند و ترسناک	←	غرش
تعماری - کاهناری	←	حفظ											
صدای پستی - حوالات	←	روزه											
کناره - گوشه	←	حاشیه											
صدای بلند و ترسناک	←	غرش											


۲

۲. با توجه به مثال جاهای خالی را کامل کنید.

خاک نمناک، یعنی خاکی که نم دارد.
 الف) نگاه شنناک، یعنی ...
 ب) زخم دردناک، یعنی ...
 پ) حادثه خطرناک، یعنی حادثه‌ای که خطر دارد.

۳. با توجه به درس «اگر جنگل نباشد»، کلماتی که نشانه‌های زیر را دارند را پیدا کنید و بنویسید.

ص	غ	د
صدای - صرعا - صفولی	صفتول - غرش - آغاز	صن نزدیک - کاغذ
	خبر	





نام و نام خانوادگی: _____ تاریخ: _____ موضوع: _____ هدف: _____

۴ جدول را کامل کنید.

مادر شست.	مادر چه چیز را شست؟	مادر لباس‌ها را شست.
فاطمه نوشت.	فاطمه چه چیز را نوشت؟	فاطمه اعلامیه نوشت.
علی نقاشی کرد.	علی چه چیز را نقاشی کرد؟	علی دیوار را نقاشی کرد.

۵ این داستان را ادامه دهید. (۳ خط)
در جنگل سرسبز صدای باد در میان برگ‌ها پیچیده بود و صدای


بویغ و آوازهاست

مطالعات اجتماعی

۱ با توجه به تصویر، هر کدام در چه جهتی قرار دارند؟

- دریای خزر ← شمال
- حرم امام رضا (ع) ← شرق
- خلیج فارس ← جنوب
- استان ایلام ← غرب

۳





نام و نام خانوادگی: _____ تاریخ: _____ موضوع: _____ هدف: _____

۲ پاسخ کوتاه دهید.

الف) طلوع خورشید از سمت ... است.

ب) غروب خورشید از سمت ... است.

پ) چهار جهت اصلی: شمال، جنوب، شرق و غرب است.

هدیه های آسمان - قرآن

۱ کدام یک از کارهای زیر نشان دهنده ی یک فرد منظم و مرتب است؟ با علامت ✓ مشخص کنید.









۲ امام علی (ع) چرا از مسلمانان می خواهد که قرآن را فرا بگیرند؟

زیرا قرآن نیکوترین سخن است

