



شماره

۲۹

ارمغان هفته - سوم دبستان

نام و نام خانوادگی: تاریخ: نام آموزگار:

ریاضی < فصل ۸: حذف حالت های نامطلوب
 علوم < درس ۱۲ و ۱۳: هر کدام جای خود (۱) و (۲)
 فارسی < درس ۱۶: اگر جنگل نباشد.
 مطالعات اجتماعی < درس ۲۱: جهت های اصلی
 هدیه های آسمان < درس ۱۸: آینه ی سخنگو
 قرآن < انس با قرآن کریم (۱۴)

ریاضی

۱ کوچک ترین عدد فرد چهار رقمی بدون تکرار رقم ها را که مجموع رقم های آن ۱۰ باشد بنویسید.

۱۰۰۹

$$\boxed{7} \times \boxed{8} = 56$$

۲ حاصل ضرب دو عدد ۵۶ و جمع آن دو ۱۵ است. این دو عدد کدام اند؟

$$\boxed{7} + \boxed{8} = 15$$

۳ اختلاف بزرگ ترین عدد چهار رقمی با کدام عدد برابر با ۲۳۵۷ است؟

$$9999 - \boxed{7441} = 2357 \Rightarrow$$

۹۹۹۹

۲۳۵۷

۷۴۴۱

۹۹۹۹

بزرگترین عدد چهار رقمی

این عدد ۷۴۴۱ است

۴ با رقم های ۰، ۶، ۸، ۴ و ۳ چند عدد چهار رقمی می توان نوشت که رقم دهگان آن ۴ باشد؟ (تکرار ارقام مجاز نیست).

$$\Rightarrow 1443 - 8344 - 49843 - 4348 - 3448 - 3844$$

۵ عددهای ۰ تا ۸ را با توجه به توضیحات داده شده را در جای خود قرار دهید.

الف) در مثلث فقط عددهای زوج است.

ب) عدد ۵ هم در مربع و هم در مستطیل است.

پ) عدد ۱ و ۳ فقط در مستطیل هستند.

ت) عدد ۲ هم در مربع و هم در مثلث است.

ث) عدد ۴ هم در مستطیل و هم در مثلث است.

ج) عدد ۷ فقط در مربع است.

علوم

۱ جانوران مهره دار را آبی و بی مهره را قرمز کنید.



۱





۲ خزندگان روی تخم‌های خود نمی‌خوابند ولی پرندگان روی تخم‌های خود می‌خوابند، بنابراین:

۱) تخم‌های پرندگان در برابر عوامل خطرناک محیطی مقاوم‌تر است.

۲) تخم‌های پرندگان نسبت به خزندگان بزرگ‌ترند و اندوخته‌ی غذایی بیش‌تری دارند.

۳) تخم‌های خزندگان نسبت به پرندگان زودتر به جنین تبدیل می‌شوند.

۴) تخم‌های پرندگان باید گرم نگه داشته شوند.

۳ تحقیق کرده و بنویسید.


الف) پستانداری تخم‌گذار است: *پلایس پلوس*

ب) پستانداری پرنده است: *خفاش*

پ) پستانداری شناگر است: *وال یا خنک*

ت) پستانداری خزنده است: *اکوریا*

۴ هر پا مربوط به کدام پرنده است؟ (عکس پرنده را از برچسب‌ها ببرید و در کنار پاهایش بچسبانید.) حالا از روی پای آن پرنده بگویند چه مهارتی دارد.



مهارت شنا کردن

پاهای شایسته نشین که سه انگشت در جلو و یک انگشت در عقب قرار دارد.

تیزبازان پهنه‌ها جهت شنا

پاهای قوی و بلند جهت کشش با سرعت در زمین

۵ حیوانات ما قبل تاریخ به نام دایناسور در کدام گروه جانوران مهره‌دار قرار می‌گیرند؟ دلیل این انتخابتان چیست؟

خزندگان چون تخم‌گذار بودند و هیچ نظام از دایناسورها بیرون نمی‌گرفته اند و در آب هم زندگی نمی‌کردند.

فارسی

۱ معنی کلمات زیر را بنویسید.

<i>تاسیابی - تله‌سازی</i>	حفظ	<i>کناره کوسه</i>	حاشیه
<i>مهرای بعضی حیوانات</i>	زوزه	<i>صدای بلند و ترسناک</i>	غزش

۲





۲) با توجه به مثال جاهای خالی را کامل کنید.

- خاک نمناک، یعنی خاکی که نم دارد.
- الف) نگاه غمناک، یعنی ... نگاه که غم دارد...
- ب) زخم دردناک، یعنی ... زخمی که درد دارد.
- پ) حادثه‌ای خطرناک، یعنی حادثه‌ای که خطر دارد.

۳) با توجه به درس اگر جنگل نباشد، کلماتی که نشانه‌های زیر را دارند را پیدا کنید و بنویسید.

ص	غ	ذ
صدای - صدها - صدایی	غوش - آغاز - غش	می‌گذرد - کاغذ
	غیر	

۴) جدول را کامل کنید.

مادر شست.	مادر چه چیز را ... شست ...؟	مادر لباس‌ها را ... شست ...
فاطمه ... نوشت ...	فاطمه چه چیز را نوشت؟	فاطمه ... اعلام نوشت ...
علی ... نقاشی کرد.	علی چه چیز را نقاشی کرد ...؟	علی دیوار را ... نقاشی کرد.

۵) این داستان را ادامه دهید. (۳ خط)

در جنگل سرسبز صدای باد در میان برگ‌ها پیچیده بود و صدای

بانج واکر است

مطالعات اجتماعی

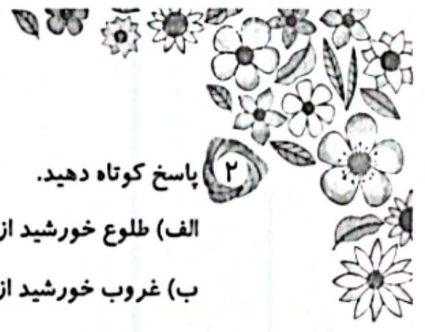
۱) با توجه به تصویر، هر کدام در چه جهتی قرار دارند؟



- دریای خزر ← شمال
- حرم امام رضا (ع) ← شرق
- خلیج فارس ← جنوب
- استان ایلام ← غرب

۳





۲ پاسخ کوتاه دهید.


الف) طلوع خورشید از سمت ... است.

ب) غروب خورشید از سمت ... است.

پ) چهار جهت اصلی: شمال، جنوب، شرق و غرب ... است.

هدیه های آسمان - قرآن

۱ کدام یک از کارهای زیر نشان دهنده ی یک فرد منظم و مرتب است؟ با علامت ✓ مشخص کنید.



۲ امام علی (ع) چرا از مسلمانان می خواهد که قرآن را فرا بگیرند؟

زیرا قرآن نیکوترین سخن است

- بندنویسی
- جهت های جغرافیایی
- شناخت نظم
- خوبی های قرآن و تلاوت آن

- راهبرد حذف حالت های نامطلوب
- آشنایی با جانوران مهره دار و دسته بندی آن ها
- معنی کلمات
- واژه شناسی
- شناخت مفعول

شخص ها

- خیلی خوب
- خوب
- قابل قبول
- نیاز به تلاش بیشتر

