



شماره ی

۲۱

ارمغان هفته - سوم دبستان

نام و نام خانوادگی: تاریخ: نام آموزگار:

ریاضی < فصل ۸: تقسیم با باقی مانده و محیط اشکال هندسی مطالعات اجتماعی < درس ۲۲: ایمنی در کوچه و خیابان
علوم < درس ۱۴: از گذشته تا آینده هدیه های آسمان < درس ۲۰: باغ همیشه بهار
فارسی < درس ۱۷: چشم های آسمان قرآن < انس با قرآن کریم

ریاضی

۱ تقسیم های زیر را حل کنید.

$$59 \overline{) 7}$$

$$66 \overline{) 9}$$

۲ باقی مانده ی کدام یک از تقسیم های زیر صفر می باشد؟

$$35 \overline{) 9}$$

$$27 \overline{) 6}$$

$$51 \overline{) 8}$$

$$42 \overline{) 7}$$

۳ می خواهیم ۷ کیسه ی ۱۲ کیلویی برنج را بین ۹ خانواده به طور مساوی تقسیم کنیم. به هر خانواده چند کیلو برنج می رسد و چقدر برنج باقی می ماند؟

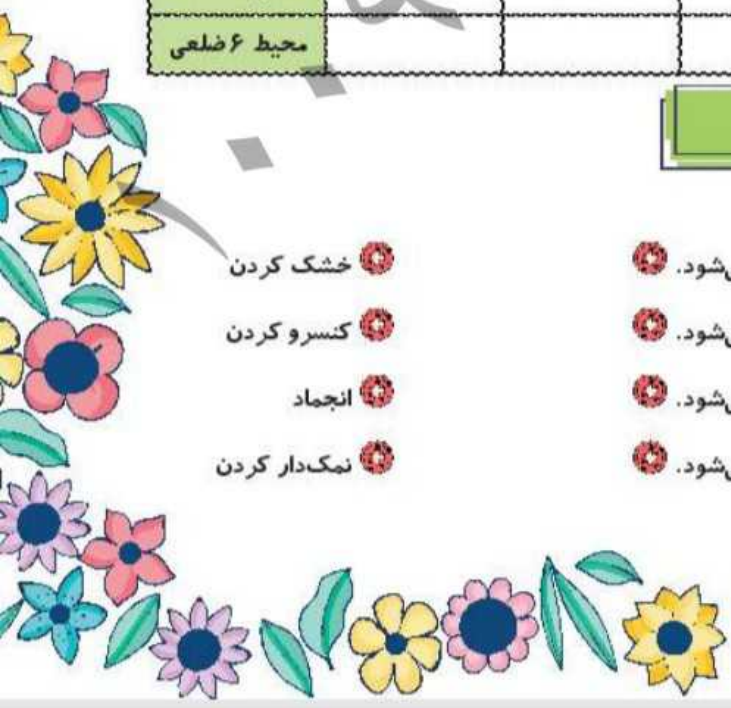
۴ جدول زیر را کامل کنید.

ضلع	۷	۴۰	۱۲	۹۰
محیط مربع				
محیط مثلث				
محیط ۶ ضلعی				

علوم

۱ موارد مرتبط را به یکدیگر وصل کنید.

- خشک کردن
- کنسرو کردن
- انجماد
- نمک دار کردن
- با تبخیر آب، امکان رشد میکروب کم تر می شود.
- در دماهای بسیار پایین فعالیت میکروبها کم می شود.
- در محیط های شور، امکان فاسد شدن ماده ی غذایی کم می شود.
- در این روش هوا نمی تواند وارد محیط شود و امکان فاسد شدن غذا کم می شود.



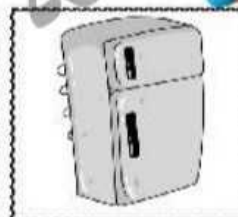
۲ کدام گزینه درست است؟

- ۱) بهتر است مواد غذایی را در دمای معمولی نگه داشت.
- ۲) هر چه دمای محیط نگه‌داری مواد غذایی کم‌تر باشد، بهتر است.
- ۳) شور کردن روشی برای نگهداری حبوبات و برنج است.
- ۴) محلول غلیظ شکر نمی‌تواند مانع فاسد شدن مواد غذایی شود.

۳ الف) یک راه نگهداری طولانی مدت خیار چیست؟

ب) دو راه نگهداری طولانی مدت نان چیست؟

۴ در زمان قدیم برای نگهداری گوشت از کدام روش‌ها استفاده می‌شده است؟



۵ ماده‌ی نگهدارنده در تهیه‌ی هریک از مواد غذایی زیر چیست؟



۶ دو روش نگهداری طولانی مدت شیر که با گرما دادن انجام دارند؟

فارسی

۱ با استفاده از کلمات در هم ریخته‌ی زیر، جمله را کامل کنید.

زور - خانه‌ی - می‌خواهی - مرد - به - بگیری - را - این،

چرا

۲ جاهای خالی را کامل کنید.

حمد بر کردگار یکتا باد

آشنا کرد چشم داد توفیق

در دل من محبت استاد

۳ با توجه به کلمه‌های داده شده، جمله را بازنویسی کنید.

«ما به دانشمندان ایرانی، افتخار می‌کنیم.»

(الف) (ایرانیان)

(ب) (شهیدان شجاع)

۴ در هر ردیف، حروف جا افتاده را نوشته و کلمه‌ی کامل شده را بازنویسی کنید.

ت ع ن

پ س ن ی د

ت و ق

م م م

آ ی د


۵ برای هر شاخه یک گل زیبا بکشید و معنی کلمه‌ی درون برگ را در گل بنویسید.



مطالعات اجتماعی

۱ چراغ راهنمایی رانندگی زیر را به صورت صحیح رنگ کنید.

در چه صورتی خودروها حق عبور دارند؟



۲ کارهای ممنوع و غیرممنوع زیر را مشخص کنید.

ممنوع است.

غیرممنوع است.

- بازی کردن در خیابان
- عبور از خط کشی عبور پیاده
- عبور از سطح بزرگراهها وقتی که شلوغ نباشد.
- پیاده شدن از سمت راست تاکسی

۳ هر تابلوی رانندگی نشان دهنده‌ی چیست؟

هدیه‌های آسمان - قرآن

۱ با توجه به معنی آیه جای خالی را کامل کنید.

«إِنَّ الْأَبْرَارَ لَفِي نَعِيمٍ»

نیکوکاران در پر نعمت هستند.

۲ با توجه به داستان «باغ بهار، پدر سینا بهشت را چگونه توصیف می‌کند؟»

۳ با توجه به معنی آیه‌ی نوشته شده کارت کلمات آیه را ببرید و به ترتیب مناسب بچسبانید.

«خداوند صاحب روز قیامت است.»

--	--	--

- کلمات هم‌معنی
- قوانین و تابلوهای راهنمایی و رانندگی
- آشنایی با بهشت و روز قیامت
- معنی آیات قرآنی

- تقسیم با بقی مانده
- محیط اشکال هندسی
- روش های نگهداری طولانی مدت مواد غذایی
- جمله‌سازی و کلمه‌سازی
- ارتباط فاعل و فعل

- شاخص‌ها
- خیلی خوب
- خوب
- قابل قبول
- نیاز به تلاش بیشتر