

ب: حاصل ضرب  $\frac{2}{3} \times \frac{1}{3}$  کدام است؟  $(\frac{2}{3}, \frac{1}{3})$

ب: معکوس عدد  $\frac{2}{3}$  کدام است؟  $(\frac{3}{2}, \frac{2}{3})$

الف: حاصل ضرب به دست آمده بیش از چهار کارت با شماره های ۴، ۳، ۵، ۶

ب: حاصل

ب: وصل کن. (یک مورد اضافی است).

ربع  $\frac{3}{5}$  برابر است با:  $\frac{6}{9}$

ب: حاصل

تأ: این کارت ها را چگونه در جای خالی قرار دهیم تا:

$$\begin{array}{|c|} \hline \square \\ \hline \square \\ \hline \square \\ \hline \square \\ \hline \end{array} \times \begin{array}{|c|} \hline \square \\ \hline \square \\ \hline \square \\ \hline \square \\ \hline \end{array} =$$

$$\begin{array}{|c|} \hline \square \\ \hline \square \\ \hline \square \\ \hline \square \\ \hline \end{array} + \begin{array}{|c|} \hline \square \\ \hline \square \\ \hline \square \\ \hline \square \\ \hline \end{array} =$$



پ: حاصل ضرب  $\frac{2}{3} \times \frac{1}{3}$  کدام است؟  $(\frac{2}{3}, \frac{2}{12})$   
پ: معکوس عدد  $\frac{2}{3}$  کدام است؟  $(\frac{3}{2}, \frac{3}{1})$

چهار کارت با این مقدار ممکن باشد

$$\begin{array}{r} \square \\ \square \\ \square \\ \square \end{array} \times \begin{array}{r} \square \\ \square \\ \square \\ \square \end{array} =$$
$$\begin{array}{r} \square \\ \square \\ \square \\ \square \end{array} + \begin{array}{r} \square \\ \square \\ \square \\ \square \end{array} =$$




بِسْمِ اللّٰهِ الرَّحْمٰنِ الرَّحِیْمِ





بِسْمِ اللَّهِ الرَّحْمَنِ الرَّحِيمِ  
بِسْمِ اللَّهِ الرَّحْمَنِ الرَّحِيمِ  
بِسْمِ اللَّهِ الرَّحْمَنِ الرَّحِيمِ



A small drawing of a tree with a thick trunk and several branches, mounted on the wall to the left of the projector screen.



بِسْمِ اللَّهِ الرَّحْمَنِ الرَّحِيمِ

Blank sheet of paper or document.

Document with text and a red border.






با سوار عالی  
آبوه ای عالی






بِسْمِ اللَّهِ الرَّحْمَنِ الرَّحِيمِ






# گسل امتداد لغز





نصف کنید و لایه های آن را با لایه های زمین مقایسه کنید.  
مقیسه کنید.






درباره‌ی سوره‌ی زلزال با دانش‌آموزان گفت‌وگو کنید.







اساتى منرا)      ووب نر      بومنه بقم مرغ دراز      ترك موى دار در بر العضاك هر  
شمعنده بقم مرغ      است در ارتضار موى اود  
نتيجه ي كاوش خود را در يك يا چند سطر بنويسيد  
بومنه بقم مرغ بومنه ي اوسر  
شمعنده بقم مرغ بقمه  
در باره ي سوره ي زوال يا دانش امداد






اساساً سزا  
جواب نر  
یومته تقم مرغ در راه  
شعبده تقم مرغ  
تربک می دارد زیرا انصاف  
است در ارتقا مردمی بود

• نتیجهی کاوش خود را در یک یا چند سطر بنویس

پدیده...  
مشاهده...  
مردم...

در باره ی سوره ی بقره با دانش آموزان



نتیجه‌ی کاوش خود را در یک یا چند سطر بنویس

پوشیده به پوشیده می‌باشد

مغفله به گویسته

از ده به ده

درباره‌ی سوره‌ی زلزال یا دانش آموزان

