

شماره‌ی


۲۴

ارمغان هفته - ششم دبستان

نام و نام خانوادگی: تاریخ: نام آموزگار:


ریاضی < فصل ۶: تناسب و درصد
 علوم < درس ۱۲: جنگل برای کیست؟ (۳)
 فارسی < درس ۱۲ و ۱۳: دوستی / مشاوره، حکایت عمر گران‌مايه قرآن < درس ۱۲: جلسه‌ی اول تا چهارم
 مطالعات اجتماعی < درس ۱۹: همسایگان ما
 هدیه‌های آسمان < درس ۱۵: حماسه آفرینان جاودان

ریاضی



۱) ۷۵ درصد را به صورت شکل نمایش دهید.

۲) در شکل زیر نسبت خانه‌های رنگی به کل را به صورت اعشار، کسر و درصد نشان دهید.



۴۵٪ درصد $\frac{45}{100} = \frac{9}{20}$ کسر ۰٫۴۵ اعشار

۳) اختلاف ۳۰٪ عدد ۸۰ را با ۲۰٪ عدد ۶۰ به دست آورید.

اختلاف: $32 - 12 = 20$

$$\frac{30}{100} = \frac{32}{80} \quad \frac{20}{100} = \frac{12}{60}$$

۴) دانش‌آموزان کلاس ششم دبستان علوی ۹۰ نفر هستند. اگر این تعداد ۱۲٪ همه‌ی دانش‌آموزان این دبستان باشد. دانش‌آموزان این دبستان چند نفر می‌باشند؟

دانش‌آموزان کلاس ششم	۱۲	۹۰
کل دبستان	۱۰۰	۷۵۰

۱





درصد مربوط به هر کسر را در جای خود بنویسید.

$\frac{3}{25} \Rightarrow 12\%$
 $\frac{3}{8} \Rightarrow 37,5\%$
 $\frac{3}{20} \Rightarrow 15\%$

$\frac{3}{5} \Rightarrow 60\%$
 $\frac{3}{12} \Rightarrow 25\%$
 $\frac{9}{16} \Rightarrow 56,25\%$

علوم

۱ دو شغل در ارتباط با معرفی و حفظ محیط طبیعی که وجود دارد را نام ببرید.

حفظ محیط طبیعی
 محیط طبیعی

۲ به نظر شما چه عواملی سبب از بین رفتن (جانور یا گیاه) می شود؟ (دو مورد)

تغییرات اقلیم، آلودگی هوا، قطع درختان و شکار بی رویه جانوران

۳ در طول تاریخ جانوران و گیاهانی بوده اند که اکنون وجود ندارند. در این باره دو مثال بزنید.

سینه ایرانی، دایناسورها، نمونه های آب سردی در میان گیاهان و سرخس ها، گول پیلر

۴ مسئولیت حفظ محیط های طبیعی در کشور ما به عهده ی چه سازمان هایی است؟

الف) سازمان حفاظت از محیط زیست
 ب) سازمان محیط ها

فارسی

۱ جدول زیر را کامل کنید.

معنی	ترکیب	
بطلب - انتخاب	همی طلب	همی + طلب
بذار - نگذار	همی طار	همی + دار
سوزن - برف	همی رن	همی + رفت





۲ با توجه به بیت زیر به پرسش‌های آن پاسخ دهید.


فجر تا سینه‌ی آفاق شکافت چشم بیدار علی خفته نیافت

الف) به نثر ساده بازنویسی کنید. هیچ زمان نرسد که خورشید از افق بالا بیاید و در سینه حضرت علی (ع) برآید خواب ببیند.

ب) قافیه را در این بیت مشخص کنید. سَطَا سَا و نِیَا نِیَا

پ) از بیت دو کلمه‌ی متضاد بنویسید. بیدار و خفته

۳ نمودار زیر را کامل کنید.

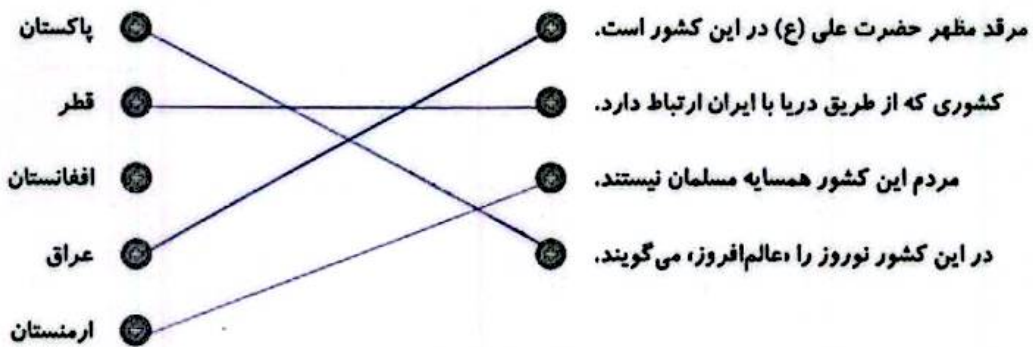


۴ عبارات سرد و گرم چشیده، کنایه از چیست؟

سایه از سایه تجربه بودن

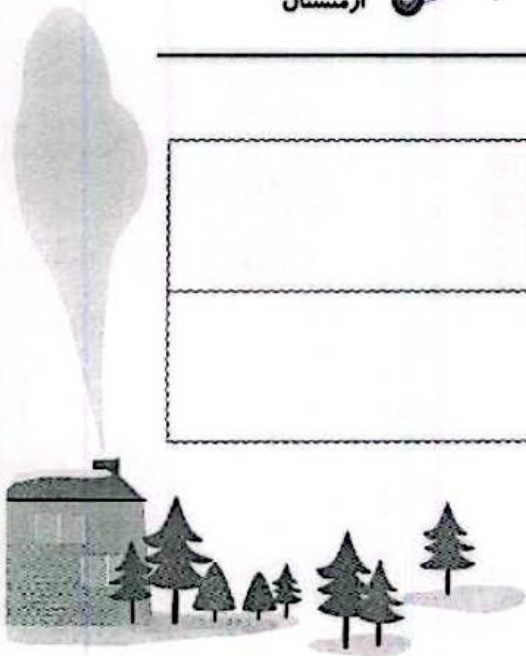
مطالعات اجتماعی

۱ عبارات مرتبط را به یکدیگر وصل کنید.



۲ برچسب‌های مربوط به نام کشورها را در جای مناسب بچسبانید.

قزاقستان	جمهوری آذربایجان	ترکمنستان	روسیه	همسایگان شمالی ایران	
	عربستان	قطر	امارات	کویت	همسایگان جنوبی ایران





۳ پاسخ کوتاه دهید.

- الف) برای این که یک فرد از کشور خارج شود به چه چیزهایی نیاز دارد؟ گذرنامه یا پاسپورت
- ب) مرز یعنی چه؟ خط مشخصی است که کشورها را از کشور دیگر جدا می کند.
- پ) وظیفه پاسگاه های مرزی چیست؟ مضامین از مرزها با عبور میسرانوس از مرز صورت نگیرد.

هدیه های آسمان - قرآن

۱ جملات زیر را با کلمات داده شده کامل کنید.

ژاله - دو کوهه - شلمچه - چلیه - گمنام - جانبازان،

- الف) پارچه ای که رزمندگان اسلام در دوران دفاع مقدس به دور گردن خود می انداختند چوبند نام دارد.
- ب) روز هفده شهریور سال ۱۳۵۷ جوانان زیادی در میدان شهر شهر تهران به شهادت رسیدند.
- پ) پادگان دو کوهه محل تجمع رزمندگان اسلام و اعزام آن ها به خط مقدم بود.
- ت) سرزمین شقایق های پرپر، چلیه نام دارد.
- ث) عزیزانی که حتی نام و نشان شان را تقدیم خدا نموده اند، شهدای گمنام نام دارند.

۲ معنی کلمات را روبه روی آن ها بنویسید.

<u>اطیعان</u>	◀	<u>اطاعت کنند</u>	<u>خسیر</u>	◀	<u>بازنده</u>
<u>تصلون</u>	◀	<u>محل مسکن</u>	<u>میلجون</u>	◀	<u>امداد در دستگیر</u>
					<u>دسوق</u>

	◀ شناخت آرایه های ادبی
	◀ شناخت کلمات متضاد
	◀ شناخت کشورهای همسایه ی ایران
	◀ آشنایی با شهدای دفاع مقدس و شهدای گمنام
	◀ آشنایی با معانی واژه ها

	◀ تبدیل کسر و اعشار به درصد
	◀ کاربرد درصد در حل مسائل
	◀ شناخت راه های حفظ محیط زیست
	◀ علل نابودی جانوران و گیاهان
	◀ توانایی بازگردان ابیات به نثر امروزی

شاخص ها

- خنثی خوب
- خوب
- قابل قبول
- نیاز به تلاش بیشتر

