

جمع عددهای اعشاری

۴۳۱ - فرزندم با استفاده از محور اعداد ، حاصل جمع های زیر را به دست آورید.

$$\frac{3}{3} + \frac{2}{5} =$$

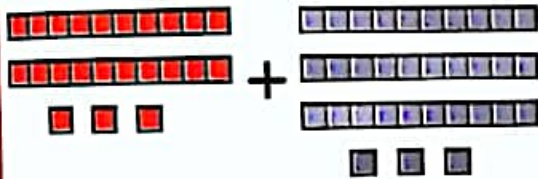


$$\frac{3}{1} + \frac{3}{8} =$$

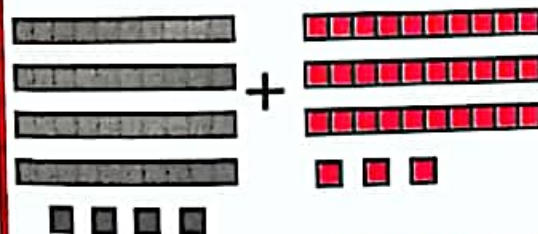


۴۳۲ - گلم جمعی را که هر شکل نشان می دهد، بنویسید و پاسخ آن را به دست آورید.

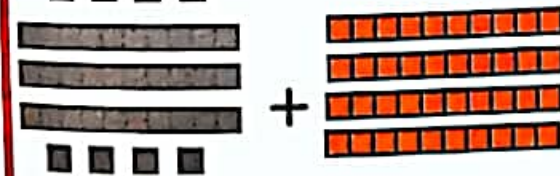
(واحد )



$$\dots + \dots = \dots$$



$$\dots + \dots = \dots$$



$$\dots + \dots = \dots$$

۴۳۳ - فرزندم جمع زیر را یک بار به صورت عدد مخلوط و یک بار به صورت اعشاری انجام دهید.

$$\frac{3}{1} + \frac{1}{18} =$$

$$\frac{3}{1} + \frac{1}{18} =$$

۴۳۴ - علی  $\frac{4}{5}$  متر و رضا  $\frac{5}{46}$  متر از پارچه ای را مصرف کرد . این دونفر روی هم چقدر از پارچه را مصرف کردند ؟

پنجم ابتدایی

۱۰۰۱ پرسش ریاضی آرمان

۴۳۹ - گلم در جدول ارزش مکانی جمع کن.

$$۳/۵۴۶ + ۴/۰۹ + ۶/۰۹۵ =$$

یکان	دهم	صدم	هزارم

۴۴۰ - نازنینم جمع کن.

$$\begin{array}{r} ۵۹ / ۷ \\ + ۲۵ / ۲ \\ \hline \end{array}$$

$$\begin{array}{r} ۷۷ / ۱ \\ + ۶ / ۸ \\ \hline \end{array}$$

$$\begin{array}{r} ۵ / ۹۲ \\ + ۴ / ۲ \\ \hline \end{array}$$

$$\begin{array}{r} ۲ / ۳۴ \\ + ۱ / ۷ \\ \hline \end{array}$$

$$\begin{array}{r} ۶۳ / ۷ \\ + ۱۷ / ۸ \\ \hline \end{array}$$

$$\begin{array}{r} ۹۰ / ۱ \\ + ۹ / ۷ \\ \hline \end{array}$$

$$\begin{array}{r} ۴ / ۱۵ \\ + ۳ / ۸۰ \\ \hline \end{array}$$

$$\begin{array}{r} ۳ / ۴۵ \\ + ۲ / ۸۹ \\ \hline \end{array}$$



لطیفه

حمید: سمیرا آب ماهی ها را عوض کردی؟  
سمیرا: نه هنوز آب تنگ را تا آخر نخورده اند!!

