



شماره  
۲۶

# ارمغان هفته - پنجم دبستان

نام و نام خانوادگی: ..... تاریخ: ..... نام آموزگار: .....

- ریاضی < نوروژ
- علوم < نوروژ
- فارسی < نوروژ
- مطالعات اجتماعی < نوروژ
- هدیه‌های آسمان < نوروژ
- قرآن < نوروژ

## ریاضی

۱ علی با خانواده‌اش برای تفریح به پارکی رفته است که روی تابلوی آن نوشته ۸ هکتار. اگر عرض پارک ۲۰۰ متر باشد، طول پارک را بیابید. (برحسب متر)

هکتار = ۱۰۰۰۰ متر مربع  
۸ هکتار = ۸۰۰۰۰ متر مربع

$400 \times 200 = 80,000$

متر ۲۰۰

۸۰۰۰۰

۲ حاصل جمع و ضرب زیر را به دست آورید.

الف)  $2\frac{4}{5} + 3\frac{2}{10} = 2\frac{8}{10} + 3\frac{2}{10} = 5\frac{10}{10} = 6$

ب)  $2\frac{3}{4} \times 3\frac{4}{5} = \frac{11}{4} \times \frac{19}{5} = \frac{209}{20}$

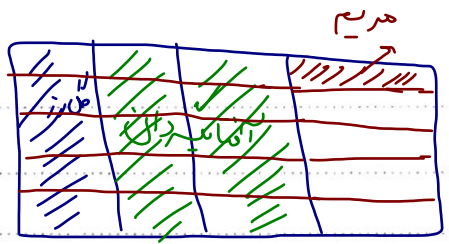
۳ مساحت بادبادک زهرا چقدر است؟

قطر بزرگ لوزی: ۱۸ سانتی‌متر

قطر کوچک لوزی: ۱۰ سانتی‌متر

$\frac{9}{2} \times 10 = 45$

۴ کیوان می‌خواهد برای عید نوروز باغچه‌ی خانه‌شان را گل کاری کند. او  $\frac{1}{3}$  باغچه را گل رُز،  $\frac{2}{3}$  باقی‌مانده را گل آفتابگردان و  $\frac{1}{5}$  باقی‌مانده را گل مریم می‌کارد. اگر مساحت کل باغچه ۴۰ متر مربع باشد، چند متر مربع گل رُز کاشته شده است؟ چند متر مربع گل مریم کاشته است؟ چند متر مربع چیزی کاشته نشده است؟



گل مریم	۲	۸
گل آفتابگردان	۱۰	۲
گل رُز	۵	۱۰
مجموع کل	۲۰	۲۰



## علوم

برچسب مربوط به هر جمله را روبه‌روی آن بچسبانید.



سهلک

الف) وسیله‌ای که به افراد کم‌شنوا کمک می‌کند تا صداها را بهتر بشنوند.

لاله‌گوش

ب) وظیفه‌ی جمع‌آوری امواج صوتی را دارد.

حزونی

پ) در این قسمت گیرنده‌های شنوایی قرار دارند.

چرا ماهی‌های قرمز درون تنگ شیشه بزرگ‌تر از اندازه واقعی خود به نظر می‌رسند؟



تنگ بر آب بسیه دره پس همی لته

یگانه در عید نوروز به همراه خانوادش‌اش از موزه بازدید کرد. او در یکی از قسمت‌های موزه فسیل زیر را دید.



الف) تصویر روی فسیل مربوط به چه موجودی است؟

ماهی



ب) چگونه تشکیل شده است؟

جسم ماهی در میان لایه‌های رسوبی می‌ماند. قسمت‌های نرم بدن ماهی تجزیه می‌شود و قسمت‌های سخت یا بی‌حیاتی مانند وپس در ساین دراز به فسیل تبدیل می‌شود.

دستگاه عصبی چه وظیفه‌ای دارد و از چه بخش‌هایی تشکیل شده است؟ وظیفه‌ی حاکمیت کردن اندام‌ها می‌باشد.



با میط را دارد و پیام‌ها را از مغز به اندام‌ها و از اندام‌ها به مغز می‌رساند.

جس مغزی - مقرونخاع

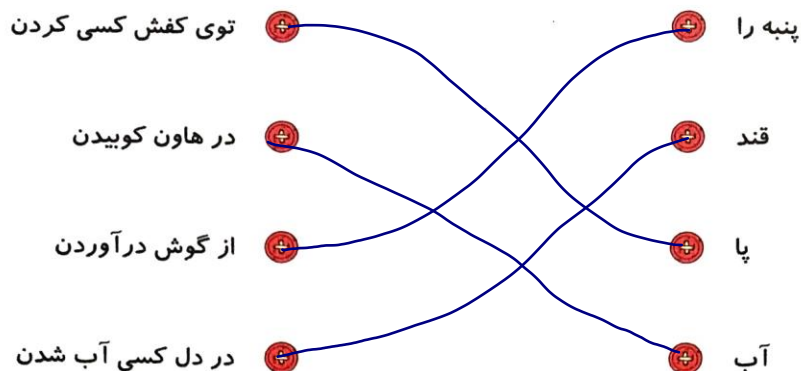


جس میغی: سول‌های عصبی



## فارسی

کتابهای زیر را به عبارت‌های کامل کننده خود وصل کنید.



میترا به همراه مادرش به بازار رفت. در بازار چند مغازه وجود داشت که صدای بلندی از داخل آن‌ها می‌آمد. میترا از مادرش پرسید شغل آن‌ها چیست؟ مادرش گفت مسگر یعنی کسی که روی مس کاری انجام می‌دهد و چند کار مس به او نشان داد. مادرش گفت شغل‌های دیگری هم وجود دارد که مانند مسگر باشند. اکنون چند شغل پیدا کنید که این‌گونه تعریف شوند.

حالت مانند میترا کلماتی که با پسوند «گر» ساخته می‌شوند پیدا کنید و معنی آن‌ها را بنویسید.

زرگر ← کسی که طلا را بزد

طاهر ← کسی که طاری لته  
جادوگر ← کسی که جادو می‌کند

جمله‌ی زیر را گسترش دهید.

خواهرم کتاب من را آورد

متن را با دقت بخوانید و به جای کلماتی که زیر آن‌ها خط کشیده شده از کادر کلماتی را انتخاب و جایگذاری کنید که معنی

عبارت تغییر نکند، سپس متن را مجدد بازنویسی کنید.

جنگل وسیع و زیباست. صدای آرام نسیم در همه جای جنگل شنیده می‌شود گاه نیز غرش و زوزه‌ی جانوران سکوت و آرامش جنگل را می‌شکند. باید جنگل‌ها را حفظ کنیم و مراقب باشیم که درختان از بین نروند. اگر از جنگل مواظبت نکنیم شاید دیگر نتوانیم داستان‌هایی بخوانیم که به این صورت آغاز می‌شوند.

شروع      قشنگ است      نبودنشوند

پهناور      باد ملایم      دوست

محافظة      حیوانات      قصه‌هایی

مواظبت      به گوش می‌رسد

## مطالعات اجتماعی

۱ جدول را کامل کنید.

ق	ن	ا	ت	← ۱
ص	ح	ب	ت	← ۲
ز	ی	ت	و	← ۳
ص	ا	د	ا	← ۴
ج	ن	گ		← ۵
ح	م	ع	ی	← ۶
ع	م			← ۷
ن	ظ	م		← ۸
ک	ر			← ۹
ر	ا	ه		← ۱۰
ج	س	س	ه	← ۱۱

۱- میزان تبخیر و آلودگی آب آن بسیار کم است.

۲- مهم ترین راه ارتباط انسان ها با یکدیگر

۳- از گیلان صادر می شود.

۴- کالاهایی که تولید شده و به جای دیگر فرستاده می شود را ..... می گویند.

۵- از عوامل دورکننده جمعیت.

۶- اگر ..... زیاد باشد نیروی زیادی برای دفاع داریم.

۷- هیچ کس این احساس را دوست ندارد.

۸- یکی از نکته های مهمی که در هر گروه باید رعایت شود.


۹- به دریاچه ی بختگان می ریزد.

۱۰- برای جابه جایی مردم از جایی به جای دیگر لازم است.

۱۱- آب هایی که خود به خود به سطح زمین راه پیدا می کنند.

## هدیه های آسمان - قرآن

۱ در عید نوروز سهیل همراه خانواده اش به کشور عراق سفر کرد. آن ها در هر یک از شهرهای زیر به زیارت کدام امام رفتند؟ نام هر امام را جلوی آن بنویسید.



۲ معنی پیام قرآنی زیر را بنویسید.

«وَأَوْفُوا بِالْعَهْدِ، بَعْدَ عَهْدِهِمْ وَفَالِهِ»

- تشخیص معنی واژگان
- ساخت واژه های جدید
- کامل کردن جدول اجتماعی
- آشنایی با شهرهای زیارتی

- توانایی حل مسئله
- محاسبه ی کسر ها
- وظایف اندام ها
- کاربرد دستگاه عصبی
- تشخیص ضرب المثل

شاخص ها

- خیلی خوب
- خوب
- قابل قبول
- نیاز به تلاش بیشتر