

شماره ی

۲۲

ارمغان هفته - پنجم دبستان

نام و نام خانوادگی: تاریخ: نام آموزگار:

مطالعات اجتماعی < درس ۱۶: مدینه شهر پیامبر (ص)

هدیه های آسمان < خورشید پشت ابر

قرآن < درس ۹: جلسه اول و دوم

ریاضی < فصل ۵: تفریق اعداد اعشاری

علوم < درس ۸: کارها آسان می شود. (۲) (۲)

فارسی < درس ۱۴: شجاعت

ریاضی

تفریق های زیر را با روش خواسته شده به دست آورید.

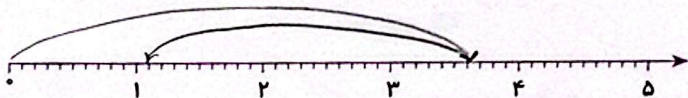
الف) $9 - 2/986 =$

(محاسبه عادی)

$$\begin{array}{r} 8 \quad 9 \quad 9 \\ \times 2 \quad 9 \quad 8 \quad 6 \\ \hline 10 \quad 18 \quad 18 \quad 12 \\ \hline 19 \quad 772 \end{array}$$


ب) $3/6 - 2/5 = 1/10$

(محور)



پ) $0.187 - 0.135 = 0.052$

(محور)



اعداد محور اصلاح شود

-0.25

$4/75$ و $4/5$ و $4/25$ و 4 و $3/15$ و $3/5$

$12/34$ و $12/22$ و $12/1$ و $11/9$ و $11/8$ و $11/74$

-0.12

الگو عددی زیر را ادامه دهید.

$12/0.9 + 57/915 = 70/0.05$

$58/7.02 - 97/52 = 49$

$$\begin{array}{r} 6 \quad 9 \quad 9 \quad 1 \quad 5 \\ \times 12 \quad 0 \quad 9 \\ \hline 54 \quad 18 \quad 81 \quad 15 \\ \hline 67 \quad 20 \quad 15 \end{array}$$

$$\begin{array}{r} 4 \quad 5 \quad 1 \quad 7 \quad 0 \quad 2 \\ - 49 \\ \hline 45 \quad 17 \quad 02 \end{array}$$

در جاهای خالی عدد مناسب قرار دهید.

هر دو عددی که اختلافشان برابر عدد $1/2$ می شود را هم رنگ کنید.



محیط مثلثی $9/7$ متر است. اگر اندازه ی دو ضلع آن $2/9$ و $3/5$ متر باشد، اندازه ی ضلع سوم را بیابید.

$$\begin{array}{r} 3/5 \\ + 2/9 \\ \hline 9/4 \end{array}$$

$$\begin{array}{r} 9/7 \\ - 9/4 \\ \hline 3/4 \end{array}$$



علوم

۱ در کدام گروه از وسایل زیر از گوه استفاده شده است؟

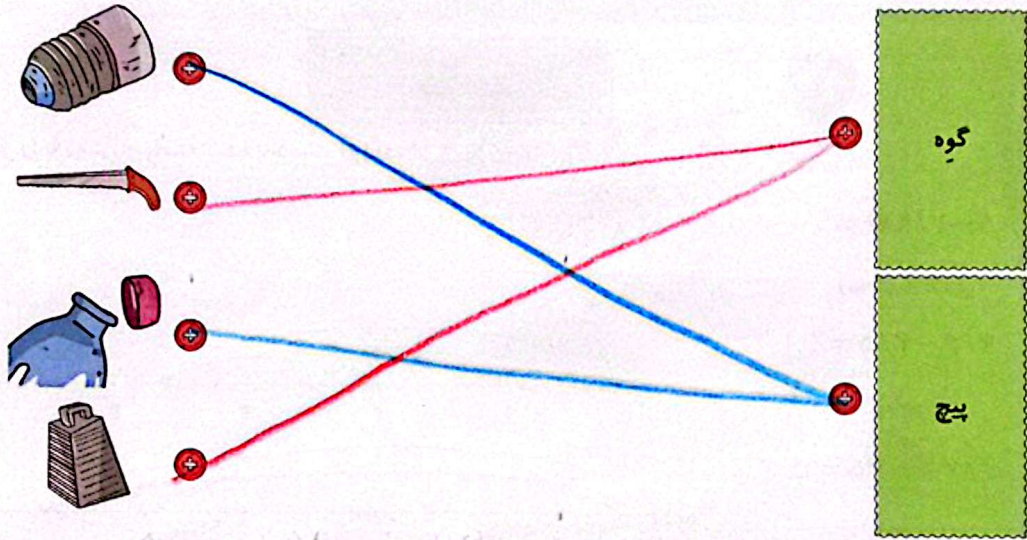
۲ پیچ - کلنگ - مفار

۱ مفار - فرغون - چاقو

۳ مفار - کلنگ - چاقو

۳ پیچ - فرغون - چاقو

۲ هر وسیله را به ماشین مربوط به آن وصل کنید.



۳ تفاوت گوه و سطح شیب دار چیست؟

سطح شیب دار ثابت است ولی گوه حرکت می‌کند. سطح شیب دار برای جابه‌جا کردن اجسام است ولی گوه برای نگه کردن اجسام است. در گوه نیروی مقاوم بزرگ‌تر از نیروی محرک است و خلاف جهت آن

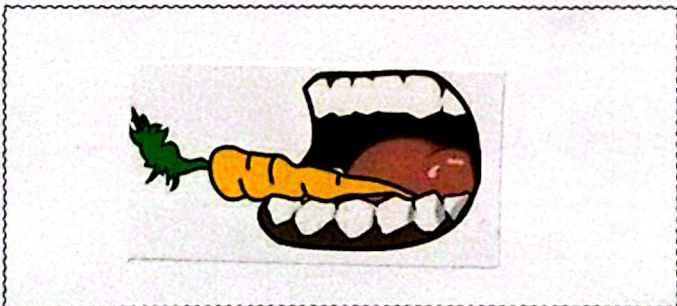
۴ کدام پیچ در سطح سخت‌تر بهتر فرو می‌رود؟

پیچ بالایی، چون هرچه فاصله‌ی بین دندان‌های پیچ کمتر باشد، افزایش



نیرو خواهیم داشت و در سطوح سخت بهتر فرو می‌رود.

۵ کدام عضو بدن انسان مانند گوه عمل می‌کند؟ برچسب تصویر این عضو را در جای مخصوص بچسبانید.



دندان‌ها

فارسی

۱ معنی واژه‌های زیر را در جای مناسب بنویسید.

ناپسند

نکوهیده

سنجیده رفتار کردن

متانت

اندیشیدن
چاره اندیشی

تدبیر

افزودن

۲ کلمه‌های به هم ریخته را مرتب کنید و جمله بنویسید.

دترس‌های / ریشه‌ی / در / است / جهل / اصلی / نادانی / نادرست / و ،

ریشه‌ی اصلی ترس‌های نادرست، در جهل و نادانی است.

۳ معنی و مفهوم عبارت را ساده و روان بنویسید.

سردار لشکری که با اندیشه و مهارت، فرمان عقب‌نشینی می‌دهد و سپاه خود را از خطر می‌رهاند، شجاع است.

۴ با انتخاب واژه‌ای از میان کمانک، جاهای خالی را پر کنید.

الف) قدرت تصمیم‌گیری (تصمیم‌گیری - تصمیم‌گیری) و تفکر خوب است.

ب) ترس آن‌گاه نلوهید (نکوهیده - نکوهیده) است که از ترس حوادث، حرکت نکنیم.

۵ برای هر کلمه یک مخالف بنویسید.

جدید \neq قدیم امن \neq ناامن افزون \neq کم، کمتر شجاع: \neq ترسو

مطالعات اجتماعی

۱ از داخل کمانک کلمه‌ی درست را انتخاب کنید.

الف) دومین مسجد مهم مسلمانان مسجد النبی (مسجد النبی - مسجد الحرام) است.

ب) نخستین کار پیامبر در شهر مدینه، ساختن مسجد (ساختن مسجد - هجرت) است.

۲ پاسخ پرسش‌های زیر را بنویسید.

الف) نام قدیم شهر مدینه: پاسخ \leftarrow (ی): یثرب

ب) آرامگاه پیامبر اسلام در این مکان است: پاسخ \leftarrow (م): مسجد النبی

۳ جملات درست را با و نادرست را با مشخص کنید.

الف) ابوسفیان سر دسته‌ی مخالفان پیامبر (ص) در مکه بودند.

ب) پیامبر اسلام (ص) در جنگ بدر شرکت نداشتند.

۴ کدام مورد از اقدامات پیامبر (ص) پس از فتح مکه نبود؟

۱) شکستن بت‌ها ۲) جنگ با افراد داخل کعبه ۳) بیرون ریختن بت‌ها از داخل کعبه ۴) دستور خواندن اذان بر بام کعبه

هدیه‌های آسمان - قرآن

۱ کامل کنید.

الف) رسول خدا (ص) مژده داده است که روزی حضرت مهدی (عج) ظهور می‌کند و دنیا را پر از عدالت خواهد کرد.

ب) حضرت مهدی (عج) دوازدهمین امام و چهاردهمین معصوم هستند.

۲ با استفاده از کلمات زیر، جاهای خالی را کامل کنید.


حضرت موسی (ع) - ماه - خورشید - قائم - ولی عصر،

الف) مشهورترین لقب امام زمان (عج) قائم است.

ب) داستان تولد امام زمان (عج) شبیه داستان تولد حضرت یونس (ع) است.

پ) امام مهدی (عج) مانند خورشید درخشان است.

۳ موارد مرتبط را به هم وصل کنید.



- آشنایی با شهر مدینه
- آشنایی با جنگ‌های پیامبر
- شناخت امام دوازدهم
- تشخیص معنای کلمات قرآنی

- محاسبه‌ی طریق اشاری
- کاربرد محاسبات اشار در مسائل
- شناخت گوه
- کاربرد گوه
- تشخیص کلمات متضاد و مترادف

- شاخص‌ها
- خیلی خوب
- خوب
- قابل قبول
- نیاز به تلاش بیشتر