



شماره‌ی

۲۵

ارمغان هفته - پنجم دبستان

نام و نام خانوادگی: تاریخ: نام آموزگار:

مطالعات اجتماعی < نوروژ
هدیه‌های آسمان < نوروژ
قرآن < نوروژ

ریاضی < نوروژ
علوم < نوروژ
فارسی < نوروژ

ریاضی

۱ پدر علی ۰/۴۸۰۰ گرم آجیل خرید. اگر نسبت پسته و فندق و تخمه در این آجیل به ترتیب ۱ و ۳ و ۴ باشد. محاسبه کنید در این آجیل چند گرم پسته، چند گرم فندق و چند گرم تخمه وجود دارد؟



.....

۲ شما چند ریال عیدی دریافت کرده‌اید؟
بارقم:
با حروف:

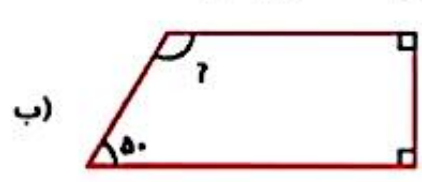

۳ مرفیه خانم برای تهیه آجیل عید نخود و کشمش را با نسبت ۳ به ۵ مخلوط کرد. اگر اندازه کشمش ۶۰۰ گرم باشد چه مقدار نخود با آن مخلوط کرده است؟

.....

۴ عددهایی که روی گل‌ها نوشته شده را به ترتیب از کوچک به بزرگ مرتب کنید.



۵ اندازه زاویه‌های خواسته شده را پیدا کنید.



۶ مغازه دلداری برای شب عید تمام لباس‌هایش را ۳۰٪ تخفیف گذاشته است. اگر لباس ۸۷۰۰۰ تومان باشد، ما بعد از تخفیف باید چند تومان بپردازیم؟

علوم

۱ گردوها و فندق‌های آجیل را با چه وسیله‌هایی می‌شکنند؟ هر کدام چه نوع اهرمی هستند؟ سه قسمت اهرم را در وسایل با یک نقاشی زیبا نشان دهید. این وسایل چگونه به ما کمک می‌کنند؟



۲ مریم خانم برای شب سال نو سبزی پلو با ماهی پخت. او برای درست کردن ماهی مراحل زیر را انجام داد. در هر مرحله چه تغییری روی داده است؟

- شستن ماهی:
- سرخ کردن ماهی:
- خرد کردن ماهی:
- طعم‌دار کردن ماهی:

۳ ساختمان چشم را نقاشی کرده و اجزای مهم آن را نام‌گذاری کنید.



۴ وقتی می‌دوید از کدام دستگاه بدن‌تان استفاده می‌کنید؟ توضیح دهید.

فارسی

کلمات هم‌معنی را هم‌رنگ کنید.

نکوهیده	دریا	کدوین
بازرگان	ناپسند	پند
بوته کدو		ناجر

در جمله‌های زیر نشانه‌های نگارشی مناسب قرار دهید.

روزی نرگس و الهه در حیاط نشسته بودند که ناگهان هوا لبری شد و باران شروع به باریدن کرد () الهه پرسید () این درست است که می‌گویند اگر باران نیاید انسان () حیوانات و موجودات زنده دیگر از بین می‌روند ()

جمله‌ی زیر را گسترش دهید.


خواجه‌رم کتاب من را آورد

داستان سفر آب به آسمان را از روی تصویر تعریف کنید و یک بند بنویسید.



مطالعات اجتماعی

بر چسب کره‌ی زمین را در جای مخصوص چسبانده و بیان کنید هر یک از قسمت‌های «الف»، «ب»، و «پ» روی کره‌ی زمین چه چیزی را نشان می‌دهند؟



الف:

۲ زهرا از سرو صدا آتش‌بازی چهارشنبه‌سوری می‌ترسد او چه نوع ترسی است به‌جا یا نابه‌جا! دو راه‌کار برای مقابله با ترس به زهرا پیشنهاد بدهید.

او می‌تواند

او می‌تواند

۳ جاهای خالی را با عبارتهای مناسب کامل کنید.

در مسافرت حواسمان باشد:

الف) با راننده

ب) در بازدید از مکان‌های تاریخی

ب) زیلله‌های خود را

ت) هنگام پختن غذا در جنگل

هدیه‌های آسمان - قرآن

۱ با توجه به کتاب هدیه‌های آسمانی در مورد هریک از موضوعات زیر یک حدیث از پیامبر بنویسید.

نماز	
پاکیزگی	

۲ هفت‌سین قرآنی زیر را با هفت سوره‌ی قرآن که با حرف (س) شروع می‌شوند کامل کنید.

--	--	--	--	--	--	--

۳ پدر متین در هنگام تحویل سال نو کتاب قرآن را باز کرد و قسمتی از آیه‌ی ۲۵ سوره بقره را خواند. ترجمه‌ی این قسمت از آیه را بنویسید.

«وَبَشِّرِ الَّذِينَ آمَنُوا وَعَمِلُوا الصَّالِحَاتِ أَنَّ لَهُمْ جَنَّاتٍ،

و بشارت ده

	توانایی بند نویسی
	شناخت جانوران مناطق مختلف
	شناخت موارد ایمنی
	آشنایی با سرهای قرآن

	توانایی حل مسئله با مفهوم نسبت
	مجلسه‌ی زلوه‌ی ناشخص
	کاربرد لغز
	شناخت انواع ماشین‌های ساده
	شناخت تغییرات شیمیایی و فیزیکی

شاخص‌ها	
	عبارت خوب
	خوب
	قابل قبول
	نیاز به تلاش بیشتر



شماره‌ی

۲۶

ارمغان هفته - پنجم دبستان

نام و نام خانوادگی: تاریخ: نام آموزگار:

مطالعات اجتماعی < نوز

هدیه‌های آسمان < نوز

قرآن < نوز

ریاضی < نوز

علوم < نوز

فارسی < نوز

ریاضی

۱ علی با خانواده‌اش برای تفریح به پارکی رفته است که روی تابلوی آن نوشته ۸ هکتار. اگر عرض پارک ۲۰۰ متر باشد، طول پارک را بیابید. (بر حسب متر)

.....
.....
.....

۲ حاصل جمع و ضرب زیر را به دست آورید.

الف) $2\frac{4}{5} + 3\frac{2}{10} =$

ب) $2\frac{3}{4} \times 3\frac{4}{5} =$

.....
.....

۳ مساحت بادبادک زهرا چقدر است؟

قطر کوچک لوزی: ۱۰ سانتی‌متر

قطر بزرگ لوزی: ۱۸ سانتی‌متر

.....
.....

۴ کیوان می‌خواهد برای عید نوروز باغچه‌ی خننه‌شان را گل کاری کند. او $\frac{1}{4}$ باغچه را گل رز، $\frac{2}{3}$ باقی‌مانده را گل آفتابگردان و $\frac{1}{5}$ باقی‌مانده را گل مریم می‌کارد. اگر مساحت کل باغچه ۴۰ متر مربع باشد، چند متر مربع گل رز کاشته شده است؟ چند متر مربع گل مریم کاشته است؟ چند متر مربع چیزی کاشته نشده است؟

.....
.....
.....



علوم

برچسب مربوط به هر جمله را روی آن بچسبانید.

الف) وسیله‌ای که به افراد کم‌شنوا کمک می‌کند تا صداهای بهتر بشنوند.



ب) وظیفه‌ی جمع‌آوری امواج صوتی را دارد.



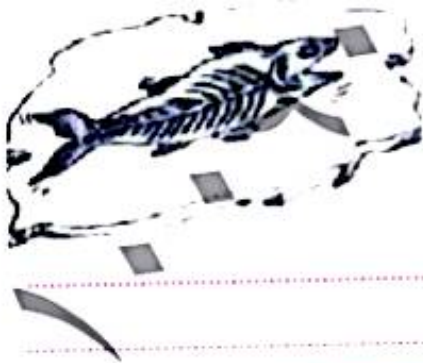
پ) در این قسمت گیرنده‌های شنوایی قرار دارند.



۲ چرا ماهی‌های قرمز درون تنگ شیشه بزرگ‌تر از اندازه واقعی خود به نظر می‌رسند؟

۳ یگانه در عید نوروز به همراه خانوادش از موزه بازدید کرد. او در یکی از قسمت‌های موزه فسیل زیر را دید.

الف) تصویر روی فسیل مربوط به چه موجودی است؟



ب) چگونه تشکیل شده است؟

۴ دستگاه عصبی چه وظیفه‌ای دارد و از چه بخش‌هایی تشکیل شده است؟

فارسی

۱ کایه‌های زیر را به عبارتهای کامل کننده‌ی خود وصل کنید.

- | | |
|------------------|---------|
| نوی کفش کسی کردن | پنبه را |
| در هاون کوبیدن | قند |
| از گوش در آوردن | پا |
| در دل کسی آب شدن | آب |

نسخه

۲ میترابه همراه مادرش به بازار رفت. در بازار چند مغازه وجود داشت که صدای بلندی از داخل آنها می‌آمد. میترای مادرش پرسید شغل آنها چیست؟ مادرش گفت مسگر یعنی کسی که روی مس کاری انجام می‌دهد و چند کار مس به او نشان داد. مادرش گفت شغل‌های دیگری هم وجود دارد که مانند مسگر باشند. اکنون چند شغل پیدا کنید که این‌گونه تعریف شوند. حال مانند میترای کلماتی که با پسوند «گر» ساخته می‌شوند پیدا کنید و معنی آنها را بنویسید.

۳ جمله‌ی زیر را گسترش دهید.
خواهرم کتاب من را آورد

۴ متن را با دقت بخوانید و به جای کلماتی که زیر آنها خط کشیده شده از کادر کلماتی را انتخاب و جایگذاری کنید که معنی عبارت تغییر نکند. سپس متن را مجدد بازنویسی کنید.
جنگل وسیع و زیباست. صدای آرام نسیم در همه جای جنگل شنیده می‌شود گاه نیز غرش و زوزه‌ی جانوران سکوت و آرامش جنگل را می‌شکند. باید جنگل‌ها را حفظ کنیم و مراقب باشیم که در ختان ترین نروند. اگر از جنگل مواظبت نکنیم شاید دیگر نتوانیم داستان‌هایی بخوانیم که به این صورت آغاز می‌شوند.

شروع	قشنگ است	نابود نشوند
پهناور	باد ملایم	دوست
محافظت	حیوانات	قصه‌هایی
مواظبت	به گوش می‌رسد	

مطالعات اجتماعی

۱ جدول را کامل کنید.

۱	۱	۱	۱	۱	۱
۲	۱	۱	۱	۱	۱
۳	۱	۱	۱	۱	۱
۴	۱	۱	۱	۱	۱
۵	۱	۱	۱	۱	۱
۶	۱	۱	۱	۱	۱
۷	۱	۱	۱	۱	۱
۸	۱	۱	۱	۱	۱
۹	۱	۱	۱	۱	۱
۱۰	۱	۱	۱	۱	۱
۱۱	۱	۱	۱	۱	۱

۱- میزان تبخیر و آلودگی آب آن بسیار کم است.

۲- مهم‌ترین راه ارتباط انسان‌ها با یکدیگر

۲- از گیلان صادر می‌شود.

۴- کالاهایی که تولید شده و به جای دیگر فرستاده می‌شود را می‌گویند.

۵- از عوامل دورکننده جمعیت.

۶- اگر زیاد باشد نیروی زیادی برای دفاع داریم.

۷- هیچ‌کس این احساس را دوست ندارد.

۸- یکی از نکته‌های مهمی که در هر گروه باید رعایت شود.

۹- به دریاچه‌ی بختگان می‌ریزد.

۱۰- برای جلب‌جایی مردم از جایی به جای دیگر لازم است.

۱۱- آب‌هایی که خود به خود به سطح زمین راه پیدا می‌کنند.

هدیه‌های آسمان - قرآن

۱ در عید نوروز سهیل همراه خانواده‌اش به کشور عراق سفر کرد. آن‌ها در هر یک از شهرهای زیر به زیارت کدام امام رفتند؟ نام هر امام را جلوی آن بنویسید.



۲ معنی پیام قرآنی زیر را بنویسید.

«وَأَوْفُوا بِالْعَهْدِ»

	تشخیص معنی واژگان
	ساخت واژه‌های جدید
	کامل کردن جدول اجتماعی
	آشنایی با شهرهای زائرین

	توانایی حل مسئله
	مباحثه‌ی کسرها
	وظایف انجام‌دها
	کاربرد دستگاه محاسبی
	تشخیص ضرب المثل

شاخص‌ها

- خوب (خوب)
- خوب (خوب)
- قابل قبول (قابل قبول)
- نیاز به تلاش بیشتر (نیاز به تلاش بیشتر)