

ارمغان هفته - پنجم دبستان

شماره‌ی

۲۱

نام و نام خانوادگی: تاریخ: نام آموزگار:

مطالعات اجتماعی < درس ۱۵: بازگشت از سفر حج

هدیه‌های آسمان < درس ۱۲: خورشید پشت ابر

قرآن < درس ۸: جلسه‌ی سوم و چهارم

ریاضی < فصل ۵: اعداد اعشاری و جمع آنها


علوم < درس ۹: کارها آسان می‌شود. (۲) (۱)

فارسی < درس ۱۳: بال در بال پرستوها


ریاضی

جمع‌های زیر را روی محور نشان دهید.

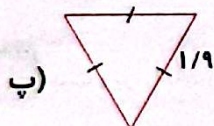
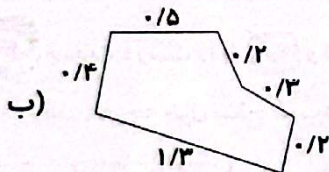
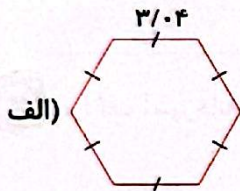
الف) $\frac{3}{1} + \frac{1}{2} =$



ب) $\frac{0}{8} + \frac{3}{6} =$



محیط هریک از شکل‌ها را به دست آورید.



۳ محیط مثلث متساوی الساقینی به طول ساق‌های $14/8$ و قاعده $9/593$ را حساب کنید.

۴ با کارت‌های 0 ، 4 ، 5 ، 8 و 2 بزرگ‌ترین و کوچک‌ترین عدد اعشاری بین 30 تا 80 را بنویسید و سپس مجموع آن‌ها را حساب کنید.

۵ مقایسه کنید و علامت ($<=>$) بگذارید.

$3/2 + 2/1$ $5/2$
 $2 + 1/4 + 2/3$ $6/60$

$0./0001 + 0./001$ $1 + 0./0001$

$3/2$ $1 + 1/1 + 1/1$

علوم

۱ جاهای خالی را کامل کنید.

الف) سطح شیب‌دار باعث می‌شود که نیروی مورد نیاز باشد.
ب) هرچه ارتفاع سطح شیب‌دار بیشتر باشد، کار ما می‌شود.

۲ بالا رفتن از کدام طرف کوه آسان‌تر است؟ چرا؟



۳ چرا کف آشپزخانه، حمام، پارکینگ و سطح خیابان‌ها را کمی شیب‌دار درست می‌کنند؟

۴ جملات درست را با و نادرست را با مشخص کنید.

- الف) هرچه طول سطح شیب‌دار بیشتر باشد، نیروی کم‌تری لازم است.
 ب) هرچه طول سطح شیب‌دار بیشتر باشد، نیروی بیشتر لازم است.

فارسی

۱ بیت زیر را به صورت جمله‌ای ساده و روان بنویسید.

هر کجا سرگرم صحبت می‌شوند شاخه‌ها دربارهی گنجشک‌ها

۲ املای درست هر کلمه را بنویسید.

فلا	عتر	اود
پیشواذ	صوار سبزپوش	باقیان

۳ واژه‌های هم‌معنی را به هم وصل کنید.

- | | |
|--------|--------|
| جامه | همیشگی |
| رسم | شیوه |
| جاودان | مشغول |
| سرگرم | لباس |

۴ جاهای خالی در شعر را کامل کنید.

تا می‌آید از خانه‌ها باز توی سر می‌کشند
باز می‌پیچد میان بوی و بوی عود
در فضای باغ‌ها پر می‌شود باز هم فواره‌ی

مطالعات اجتماعی

۱ جمله‌های زیر را با استفاده از کلمه‌های زیر کامل کنید.

مسجدالحرام - خانه کعبه - قبله‌ی - طواف،

الف) خانه کعبه مسلمانان جهان است.

ب) در مسجدالحرام قرار دارد.

پ) در هنگام حج، ما خانه‌ی کعبه را می‌کنیم.

ت) بزرگ‌ترین و مهم‌ترین مسجد دنیا است.

۲ کلمه‌ی صحیح را از داخل کمانک انتخاب کنید و در جای خالی قرار دهید.

الف) مهم‌ترین و بزرگ‌ترین مسجد دنیا که خانه‌ی کعبه در آن قرار دارد، است. (مسجد الحرام - بیت‌المقدس)

ب) به سرزمینی که از سه طرف به آب و یک طرف به خشکی راه دارد، می‌گویند. (جزیره - شبه‌جزیره)

پ) در زمان ظهور اسلام مهم‌ترین شهر عربستان بوده است. (مکه - مدینه)

ت) قبله‌ی مسلمان جهان است. (بیت‌المقدس - خانه‌ی کعبه)

۳ کامل کنید.

الف) حضرت محمد (ص) پس از مأموریت یافتند که مردم را پنهانی به دعوت کنند.
ب) پیامبر و یارانش مجبور شدند سه سال در یکی از دره‌های مکه به نام در کمال سختی زندگی کنند.

۴ در زمان ظهور اسلام مهم‌ترین شهر عربستان کجا بود؟ چرا؟





هدیه‌های آسمان - قرآن






۱ کامل کنید.

الف) نرجس، و حکیمه خاتون، امام حسن عسکری (ع) هستند.
ب) همسر امام حسن عسکری (ع) زیر نظر تربیت شده بود.

۲ امام حسن عسکری (ع) هنگام به دنیا آمدن فرزندشان به عمه‌ی خود، چه فرمودند؟

۳ با توجه به آیه‌ی ۷ سوره‌ی ابراهیم، چگونه نعمت‌های ما افزایش می‌یابد؟

	تکمیل شعر
	آشنایی با سرزمین عربستان
	آشنایی با مراسم حج
	شناخت امام دوازدهم

	محاسبه‌ی جمع اعشاری با استفاده از محورها
	مقایسه‌ی اعداد اعشاری
	مفهوم سطح شیب‌دار و کاربرد آن
	اصلاح کلمات نادرست (املاء)
	تشخیص کلمات هم معنی

شاخص‌ها

-  خیلی خوب
-  خوب
-  قابل قبول
-  نیاز به تلاش بیشتر