

علوم

۱ گزینه صحیح را انتخاب کنید.





الف) کدام عامل سبب از بین رفتن خاک سطحی نمی‌شود؟

- ۱) شخم زدن نامناسب ۲) آبیاری نامناسب ۳) از بین رفتن پوشش گیاهی ۴) کشت مثنابوب

ب) فرسایش سنگ و تشکیل خاک در کدام استان بیشتر است؟

- ۱) مازندران ۲) تهران ۳) بوشهر ۴) شیراز

۲ برچسب عوامل طبیعی و انسانی فرسایش را در جدول زیر بچسبانید.

انسانی		طبیعی	
			

۲

۳ جملات درست را با و نادرست را با مشخص کنید.

الف) باد، مقداری از خاک را با خود جابه‌جا کرده

ب) سیل از عوامل فرسایش خاک است. می‌کند

۴ در چه زمینی هنگام بارندگی، احتمال جاری شدن سیل بیش‌تر است؟

ما جلتن که پوشش گیاهی نامناسب ندارند. زمین‌هایی که در مسیر سیب شخم زده شده‌اند زمین‌های خاک‌گرن‌توانند بفری کسی داشته باشند.

۱۴