



شماره‌ی
۱۲

ارمغان هفته - چهارم دبستان

نام و نام خانوادگی: تاریخ: نام آموزگار:

- ریاضی < فصل ۴: اندازه‌گیری زاویه
علوم < درس ۶: سنگ‌ها (۴)
فارسی < درس ۱۰: باغچه‌ی اطفال (۲)
مطالعات اجتماعی < درس ۱۲: سفری به تخت جمشید (۱)
هدیه‌های آسمان < درس ۱۲: خاله نرگس
قرآن < درس ۹: جلسه‌ی دوم و سوم

ریاضی

۱ جای خالی را با انتخاب کلمه یا عدد مناسب داخل پرانتز کامل کنید.
الف) یکی از وسایل تشخیص زاویه راست، گونیا است. (پرگار - گونیا)
ب) اندازه‌ی زاویه‌ی نیم صاف دقیقاً ۱۸۰ درجه است. (راست - نیم صفحه)
پ) یکی از زاویه‌های مثلث قائم‌الزاویه حتماً برابر ۹۰ درجه است. (۱۸۰ - ۹۰)
ت) اندازه‌ی یکی از زاویه‌های مثلث نمی‌تواند ۱۸۰ درجه باشد. (۹۰ - ۱۸۰)

۲ در شکل‌های زیر اندازه‌ی زاویه‌ی خواسته شده را به دست آورید.

مسئله‌ی شماره ۱: $180 - 40 = 140$

مسئله‌ی شماره ۲: $180 - 50 = 130$

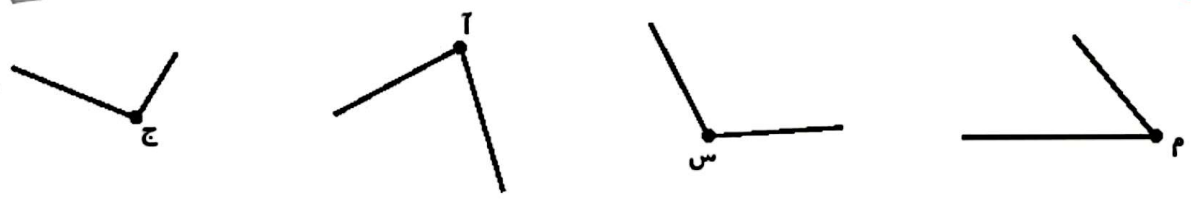
مسئله‌ی شماره ۳: $50 \div 2 = 25$

مسئله‌ی شماره ۴: $180 - 130 = 50$

۳ نوع زاویه‌ی بین دو عقربه در هر ساعت را مشخص کنید.

راست		ساعت یک ربع مانده به ۸
تند		ساعت ۲:۵۰'
باز		ساعت ۹:۰۰'

۴ اندازه‌ی هر یک از زاویه‌های زیر را به کمک تقاله اندازه بگیرید و از کوچک به بزرگ بنویسید.



۴۰ ۸۰ ۱۱۰ ۱۲۰

۴۰ < ۸۰ < ۱۱۰ < ۱۲۰



علوم

۱ کدام تبدیل سنگ ها درست نیست؟

۲ آذرین ← دگرگونی

۱ رسوبی ← آذرین

۴ رسوبی ← دگرگونی

۳ دگرگونی ← آذرین

۲ مراحل تشکیل آجر را توضیح دهید.

انجام پس، حل رس در سبب آلودگی را در قالب های حیوانی ریزند تا خشک شود، در این حالت به آن گشت می گویند. گشت را در کوره حرارت می دهند تا آجر به وجود می آید.

۳ در کشور ما سنگ های کدام کوه ها بیش تر از نوع رسوبی هستند؟

۴ تفتان

۳ الوند

۲ زاگرس

۱ دماوند

سنگ.

۴ چرا هنرمندان از سنگ ها برای کار خود استفاده می کنند؟ به خاطر

۴ ارزانی

۲ دوام

۲ زیبایی

۱ رنگ

فارسی

۱ متضاد کلمات زیر را بنویسید.

اسیر ⇌ آزار-رها

مسکین ⇌ توانا

گدا ⇌ حرمگند

۲ ابیات زیر را تکمیل کنید.

دل اگر خدانشناسی، همه در رخ علی بس
به علی شناختم من به خدا قسم، خدا را
بروای ندای مسکین در خانه ی علی زن
که نگین پادشاهی، دهد از کرم گدا را
به جز از علی که گوید به پسر، که قاتل من
چو اسیر توست اکنون به اسیر کن مددا

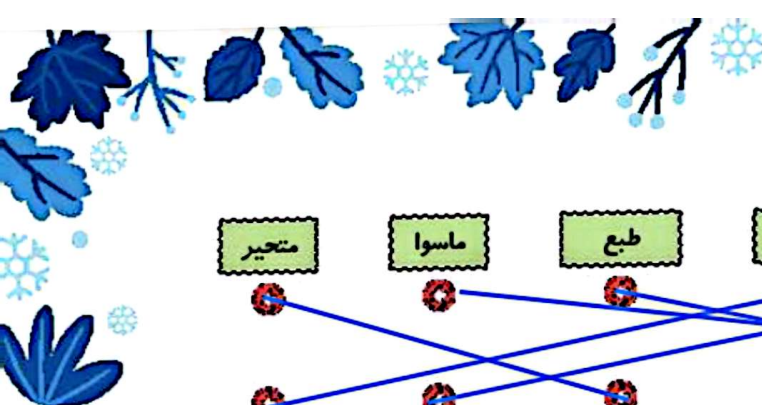
۳ پاسخ دهید.

الف) منظور از 'پسری ابوالعجایب، در شعر همای رحمت، کیست؟ در وصف امام حسن (ع)

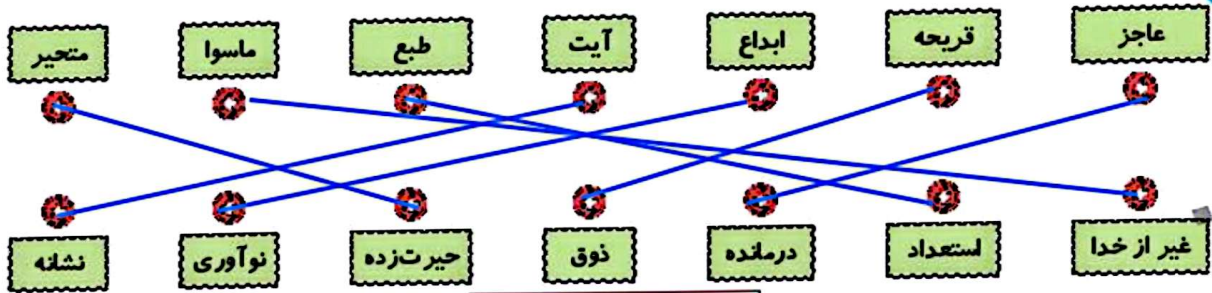
ب) این شعر سروده ی کدام شاعر کشورمان است؟ محمد حسن باجق تبریزی

۴ بیت زیر از چند جمله تشکیل شده است؟

برو ای گدای مسکین در خانه ی علی زن
که نگین پادشاهی، دهد از کرم گدا را،



۵) معنی هر واژه را به آن وصل کنید.



مطالعات اجتماعی

۱) از بین عبارات ها، گزینه‌ی صحیح را انتخاب کنید.

الف) مردی از قوم پارس که حکومت هخامنشیان را به وجود آورد.

- ۱) دیاکو
- ۲) کوروش ✓
- ۳) جمشید
- ۴) داریوش

ب) تخت جمشید به دستور چه کسی ساخته شد؟ معماری اصلی آن را چه کسانی انجام دادند؟

- ۱) داریوش - مادها
 - ۲) کوروش - مادها
 - ۳) داریوش - اقوام پرسی ✓
 - ۴) کوروش - اقوام پرسی
- پ) پلکان اصلی تخت جمشید در هر طرف دارد.

- ۱) ۱۱۰ - ۱۱۰
- ۲) ۱۱۰ - ۱۱ ✓
- ۳) ۱۱۱ - ۱۱۰ ✓
- ۴) ۱۱۱ - ۱۱

ت) مهم ترین و طولانی ترین راه در زمان داریوش اول، بود.

- ۱) راه آبی
- ۲) راه خاکی
- ۳) راه مرزکا
- ۴) راه شاهی ✓

ث) آرامگاه کوروش در کجا قرار دارد؟

- ۱) هگمتانه
- ۲) پاسارگاد ✓
- ۳) تخت جمشید
- ۴) همدان

۲) نمودار را کامل کنید.

اقدامات مهم داریوش



۳) کوروش از چه قومی بود؟ چه حکومتی را تشکیل داد؟ چگونه این کار را انجام داد؟

داریوش مردی از قوم پارس بود. او پس از جنگ‌های فراوان با مادها آن‌ها را شکست داد و حکومت قدرتمند هخامنشیان را به وجود آورد.



۴ چه کسانی در ساختن تخت جمشید شرکت داشتند؟

۴ اقوام و ملیت‌های مختلف

۳ مادها

۲ پارت‌ها

۱ اقوام پارسی

هدیه‌های آسمان - قرآن

۱ جاهای خالی را با استفاده از کلمات داده شده پر کنید.

آرامش - عمر - نیکو - سلامتی - دوستی،

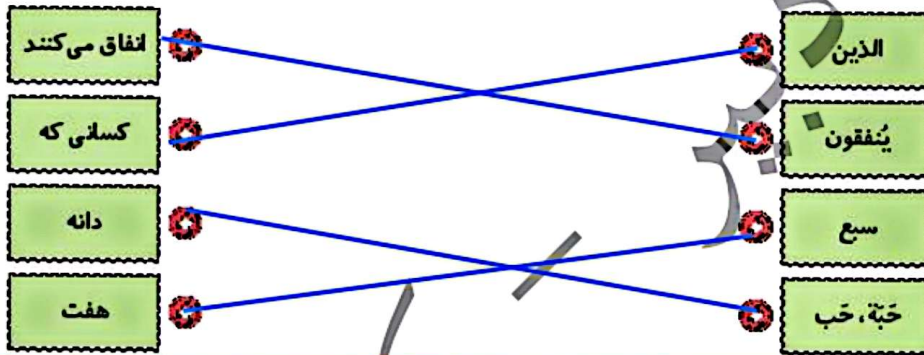
الف) خداوند کسانی را که به دیدن خویشاوندان خود می‌روند و از حال آنها جویا می‌شوند، دوست دارد و اخلاق آنها را **نیلو** می‌کند.

ب) وقتی به دیدار خویشاوندان می‌رویم، دل‌های ما به هم نزدیک و قهرها به **اشتی** تبدیل می‌شود.

پ) صله‌ی رحم انسان را شاداب می‌کند و به او **آرامش** می‌دهد.

ت) رفت و آمد با خویشاوندان موجب زیاد شدن **عمر** و **سلامتی** جسم می‌شود.

۲ با توجه به معنای صحیح، واژه‌ها را به هم وصل کنید.



۳ در ارتباط با این پیام قرآنی یک داستان کوتاه بنویسید.

يَا أَيُّهَا الَّذِينَ ءَامَنُوا اتَّقُوا مِمَّا رَزَقْنَاكُمْ،

به همراه دانش آموز

تاریخ ادبیات
معنای کلمات
شناخت تخت جمشید
الدلائل داریوش
کوروش
صله‌ی رحم و دیدار با خویشاوندان
معنای کلمات قرآنی

اندازه‌گیری و تشخیص نوع زاویه
تبدیل واحدهای زمان
محاسبه‌ی اندازه‌ی زاویه
تبدیل سنگ‌ها
تشکیل آجر
انواع سنگ‌ها
متضاد کلمات
تکمیل شعر

شاخص‌ها

- خیلی خوب
- خوب
- قابل قبول
- نیاز به تلاش بیشتر