

نام و نام خانوادگی	تاریخ	نام آموزگار
ریاضی - فصل - شکل‌های هندسی و مساحت	مسائل ذاتی - اجتماعی - درسی - علوم	هدیه‌های آسمان - درسی - اخبار خوب از روز معلوم
فارسی - درسی - ۷ - مدرسه‌ی خوشبو	قرآن - درسی - ۵ - خانه‌ی اول	

مسئله

۱ جاهای خالی را با کلمات داده شده پر کنید.

متر مربع - مساحت - متر - محیط

الف) به سطح هر شکل، مساحت آن شکل گفته می‌شود.

ب) اندازه‌ی دور تا دور هر شکل، محیط آن شکل گفته می‌شود.

پ) اگر واحد اندازه‌گیری طول متر باشد، واحد اندازه‌گیری مساحت، متر مربع می‌باشد.

ت) اگر واحد اندازه‌گیری طول متر باشد، واحد اندازه‌گیری محیط، متر می‌باشد.

۲ کف کلاس چهارم مدرسه‌ای به شکل مربع و به ضلع ۵ متر است. اگر با سرامیک‌هایی به ضلع ۵۰ سانتی‌متر پوشیده شده باشد، کف این کلاس چند سرامیک دارد؟

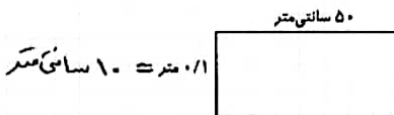
$$\text{مساحت کف کلاس} = ۵۰۰ \times ۵۰۰ = ۲۵۰۰۰۰$$

$$۲۵۰۰۰۰ \div ۲۵۰۰ = ۱۰۰۰$$

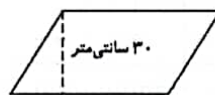
کف این کلاس ۱۰۰۰ سرامیک دارد.

$$\text{مساحت سرامیک} = ۵۰ \times ۵۰ = ۲۵۰۰$$

۳ مساحت شکل‌های زیر را به دست آورید.



$$\text{مساحت مستطیل} = ۵۰ \times ۱۰ = ۵۰۰$$



$$\text{مساحت} = ۷۰ = ۰.۷ \text{ متر}$$

$$(۳۰ \times ۷) = ۲۱۰۰$$

مساحت مستطیل

۴ در اتاقی که به شکل مستطیل است، فرش پهن کردیم که از لبه‌های فرش تا دیوارها به اندازه‌ی ۳۰ سانتی‌متر فاصله دارد. اگر طول اتاق $\frac{3}{5}$ متر و عرض آن ۲ متر باشد، مساحت فرش چند سانتی‌متر مربع است؟

$$۲۹۰ \times ۱۴۰ = ۴۰۶۰۰$$

مساحت مستطیل


$$\frac{200 \text{ cm}}{2} = 100 \text{ cm}$$

$$\frac{350 \text{ cm}}{2} = 175 \text{ cm}$$



مخلوقات

موارد مرتبط را به هم وصل کنید.



موارد مرتبط را به هم وصل کنید.

- دارای بدنی نرم و بدون اسکلت هستند، تنفس آن‌ها به صورت پوستی است.
- بدنی ۲ قسمتی دارند و دارای ۸ پای بند بند هستند.
- اسکلت سخت خارجی دارند، بدن دو قسمتی دارند و معمولاً بیش از ۸ پا دارند.
- بدنی بند بند و سه قسمتی دارند.
- سخت پوستان
- حشرات
- کرم‌ها
- عنکبوتیان

جدول زیر را کامل کنید.

نوع	جانور	گروه کرم‌ها
۱	کرم کدو	کرم‌های لوله ای
۲	کرم اسلارنس	کرم لوله ای
۳	کرم خاکی	کرم‌های لوله ای

فاز شش

با توجه به واژه‌های داده شده، کلمه‌ی جدید بسازید و معنای آن‌ها را بنویسید.

بجوی - فروش - یاب - نویس - بین - ران

- نویس + تنده = نویسنده یعنی: شخصی که چیزی را می‌نویسد.
- بجوی + تنده = بجوی یعنی: شخصی که چیزی را می‌فروشد.
- فروش + تنده = فروشنده یعنی: شخصی که چیزی را می‌فروشد.
- یاب + تنده = یاب یعنی: شخصی که چیزی را پیدا می‌کند.
- بین + تنده = بین یعنی: شخصی که چیزی را می‌بیند.
- ران + تنده = راننده یعنی: شخصی که وسیله نقلیه را می‌رانند.





1. نشانه‌های نگارشی مناسب را در جاهای خالی قرار دهید. (۱۰۰۰)

معلم گشت (۱) امروز می‌خواهم زیباترین نقاشی خدا را نشانان بدهم (۲) چشم‌هایتان را ببندید (۳)

2. داستان زیر را مرتب کنید. سپس جمله‌ها را دوباره خوانده و در آخر برای این داستان نام مناسب بنویسید.

نام داستان: (بزرگ‌تری دانش آموز)

- ۱. کشاورز روزها رحمت کشید، زمینش را شخم زد و گندم کاشت. به زمینش آب داد.
- ۲. حتی مترسک مزرعه هم به او کمک کرد و پرده‌ها را فراری داد تا گندم‌ها را نخورند.
- ۳. نانوا، نان را از تنور بیرون آورد. گوشه‌ی نان پخته بود. پسر بچه‌ای نان را خرید و گوشه‌اش را کند و روی دیوار گذاشت.
- ۴. پسر بچه خوشحال شد و با خود گفت: «حالا جوچه کلاغ‌ها هم سیر هستند و با نان بی‌گوشه به خانه رفت.»
- ۵. حالا گندم‌ها رسیدند. آرد شدند. خمیر شدند. بعد هم نان شدند.
- ۶. کلاغ که دنبال غذا بود، پایین پرید و گوشه‌ی نان را از روی دیوار به نوک گرفت و برای جوچه‌هایش برد.

3. کلمات هم‌معنی را هم‌رنگ کنید.

بزرگ	بزرگ	بزرگ	بزرگ	بزرگ	بزرگ	بزرگ
معرفة	معرفة	معرفة	معرفة	معرفة	معرفة	معرفة
آرامی	آرامی	آرامی	آرامی	آرامی	آرامی	آرامی



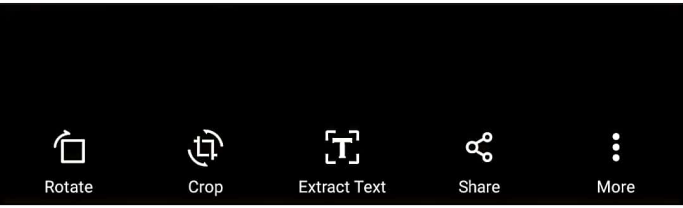
4. جاهای خالی را با کلمات مناسب کامل کنید.

(الف) ماه بیست و نه روز دارد.

(ب) تقویم بزرگ و سال را نشان می‌دهند.

(پ) معمولاً روزهای تعطیل هفته در تقویم با رنگ نشان داده می‌شود.

(ت) یک سال ماه دارد.





۲) درستی و نادرستی هر عبارت را مشخص کنید.

الف) روزهای هفته و ماه‌های سال همیشه به طور منظم پشت سر هم می‌آیند.

ب) در روز جمعه فقط مدارس تعطیل هستند.

پ) ماه‌های فصل پاییز سی و یک روز دارند.

ت) تقویم، قوانین و مقررات‌های کشور را نشان می‌دهد.

۳) کدام یک از ماه‌های زیر سی روز دارد؟

۴) خرداد

۳) شهریور

۳) مهر

۱) فروردین

هدیه‌های آسمان قرآن

۱) چند نعمت پروردگار مهربان که در طبیعت وجود دارد را نام ببرید. (۳ مورد)

۱) درختان، گلها، آب و هوا

۲) چند مورد از کارهایی که باعث می‌شود شکر گزار خداوند شویم را نام ببرید.

۱) شکر کردن، دعا کردن، نماز

۳) با توجه به پیام قرآنی: فَلْيَنْظُرِ الْإِنْسَانُ إِلَى طَعَامِهِ، چرا انسان باید به غذایش دقت کند؟

۱) آدم باید مراقب غذایش باشد و شکر کند چون نعمت خداوند است و انسان باید به نعمت خداوند شکر کند و در راه خدا تلاش کند.

مشخصات				مشخصات
				به نامم محیط و مساحت
				به مساحت محیط و مساحت
				به شناخت مهر دوستان و بی‌مهرگان
				به شناخت بندهایان و عنکبوتیان و سست پوستان
				به شناخت نرم‌تنان و کره‌ها
				به شناسایی گسالت غیرساده‌ی دو پختی

مشخصات				مشخصات
				به نامم محیط و مساحت
				به مساحت محیط و مساحت
				به شناخت مهر دوستان و بی‌مهرگان
				به شناخت بندهایان و عنکبوتیان و سست پوستان
				به شناخت نرم‌تنان و کره‌ها
				به شناسایی گسالت غیرساده‌ی دو پختی

