



ارمغان هفته - چهارم دبستان

نام و نام خانوادگی: تاریخ: نام آموزگار:


ریاضی < فصل ۶ شکل‌های هندسی: چهارضلعی‌ها مطالعات اجتماعی < درس ۱۹: از محیط زیست مراقبت کنیم.
 علوم < درس ۱۰: بدن ما (۲) هدیه‌های آسمان < درس ۱۸: چشمان همیشه‌باز (۲)
 فارسی < درس ۱۶: پرسشگری (۱) قرآن < درس ۱۴: جلسه‌ی اول

ریاضی

هر عبارت را به شکل مورد نظر آن وصل کنید.

متوازی‌الاضلاع که زوایای برابر دارد.
 متوازی‌الاضلاع که ضلع‌ها و زوایای برابر دارد.
 متوازی‌الاضلاع که ضلع‌های برابر دارد.
 چهارضلعی که فقط ۲ ضلع موازی دارد.

در تصویر زیر مربع‌ها را قرمز، مستطیل‌ها را آبی، متوازی‌الاضلاع‌ها را سبز و لوزی‌ها را بنفش کنید.

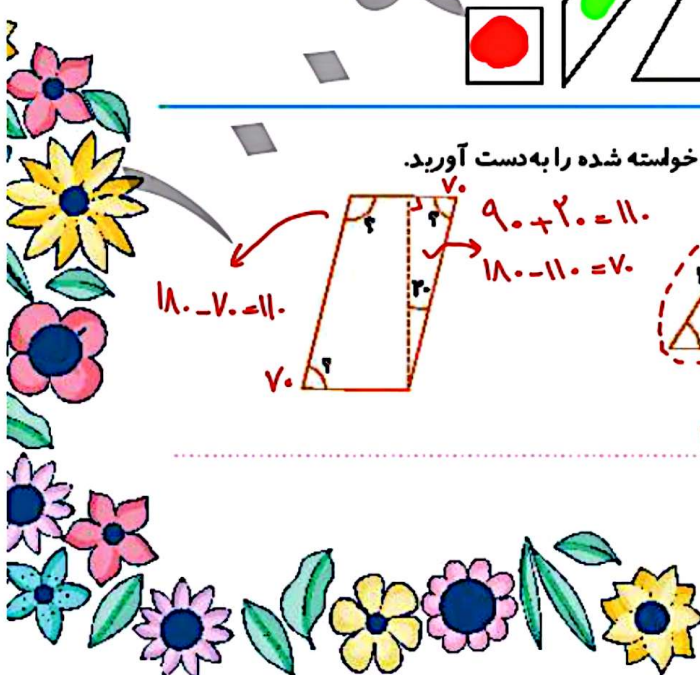


شکل‌های زیر همگی متوازی‌الاضلاع هستند. اندازه‌ی ضلع‌ها و زوایای خولسته شده را به دست آورید.

$۱۸ - ۷ = ۱۱$
 $۹۰ + ۲۰ = ۱۱۰$
 $۱۸۰ - ۱۱۰ = ۷۰$

$۲۷ - ۷ = ۲۰$
 $۱۸۰ - ۱۱۰ = ۷۰$

$۱۵ - ۳ = ۱۲$
 $۱۸۰ - ۲۰ = ۱۶۰$



۱ به سؤال‌های زیر پاسخ دهید.

الف) چه رابطه‌ای بین تعداد ضربان قلب و جثه‌ی فرد وجود دارد؟

هر چه جثه بزرگتر باشد میزان ضربان قلب کم‌تر است.

ب) چند مثال از بخش‌های مختلف بدن نام ببرید که عمل تبادل مواد در آن‌جا صورت می‌گیرد؟

دیواره روده - لسیه‌های هوایی و ...

پ) آیا نگهداری طولانی مدت ادرار در کلیه‌ها موجب بروز مشکل خواهد شد؟

بله

۲ جاهای خالی را کامل کنید.

الف) دفاع از بدن در برابر میکروب‌ها وظیفه‌ی گلبول سفید است.

ب) در بدن انسان خون وسیله‌ی رساندن الکترولیت‌ها و مواد غذایی به سلول‌هاست.

پ) به رگ‌هایی که از قلب خارج و به اندام می‌روند سرخرگ می‌گویند.

ت) به رگ‌های باریکی که در کنار سلول وجود دارد مغزگ می‌گویند.

ث) گلبول قرمز، گلبول سفید و پلازما از قسمت‌های مختلف خون هستند.

ج) کلیه‌ها خون را تصفیه می‌کنند.

۳ گلبول قرمز در کجا قرار دارد و چه وظیفه‌ای دارد؟

در خون مایع در رگ‌ها - وظیفه انتقال گازها و تغذیه

۴ کدام مورد زیر درباره‌ی دستگاه گردش خون صحیح نیست؟

الف) عمل قسمت بالای قلب، قبل از عمل قسمت پایینی است.

ب) تعداد ضربان قلب یک نوزاد بیش‌تر از یک انسان بالغ است.

پ) سرخرگ‌ها بیش‌تر در عمق بدن و سیاهرگ‌ها در سطح بدن قرار دارند.

ت) نبض، بر اثر حرکات موجود در سیاهرگی احساس می‌شود که از روی استخوان گذشته است.

فارسی

حروف به هم ریخته را مرتب کرده و کلمات جدید بسازید.

۱- حذف - ی - ا - ← اضافی

ح - ظ - ل - ه

ض - و - ح - ت - ی

ا - ض - ف - ی - ی

ع - م - ل - ق

کشف

توضیح

فضایی

مللق

در جملات زیر مفعول را پیدا کنید و نمودار جمله‌ها را رسم کنید.

الف) ابوریحان تمام عمر خود را برای کسب علم و دانش گذراند.

مفعول: ابوریحان
 نهاد: تمام عمر خود را
 برای کسب علم و دانش
 گزارنده: گذراند

ب) نیلی آخرین مروارید را در دستش گرفت.

مفعول: نیلی
 نهاد: آخرین مروارید را
 در دستش گرفت
 گزارنده: گرفت

در جمله‌های زیر واژه‌هایی در داخل کمانک آمده‌اند، واژه‌ای را که از نظر املايي درست است انتخاب کنید.

الف) یکی به دنبال موجودات عجیب و (قریب - غریب) فضایی است.

ب) همه‌ی زندگی (ابوریحان - ابوریهان) در راه علم سپری شد.

۴) معنی واژه‌ی «رامش» چیست؟

۴) حیوان وحشی

۳) آسودگی

۲) حیوان اهلی

۱) رام کردن

مطالعات اجتماعی

با توجه به کلمات داده شده، هر جمله را کامل کنید.

گیاهان - زیستگاه - نور خورشید - گوشتخواران،

الف) هر موجود زنده‌ای در ناحیه‌ی خاصی زندگی می‌کند که **زیستگاه** آن موجود، نام دارد.

ب) در رأس هر زنجیره‌ی غذایی **بیاوران** قرار دارند.

پ) یکی از عوامل مؤثر در غذاسازی گیاهان **منزخوردگی** است.

ت) به جانورانی که از گیاه‌خواران تغذیه می‌کنند **گوشتخوار** می‌گویند.

گیاهان غذای خود را با استفاده از نور، خاک و آب درست می‌کنند.

آتش سوزی یکی از عوامل از بین رفتن جنگل‌ها و موجودات زنده است.

سه مورد از گوشت خواران را نام ببرید.

حجرت - روباه - پلند

هدیه‌های آسمان - قرآن

جاهای خالی را با کلمات مناسب پر کنید.

الف) کارهای خوب و بد ما را فرشتگان خدا می‌نویسند.

ب) هرچه از زمان فیلم می‌گذشت، صدای همه و خنده می‌شد.

منظور معلم از دوربین‌های دقیق‌تر و حساس‌تر چه بود؟

خندون در همه جا حفسه داد و فرشتگان خدا با دقت بالا، تمام کارها را خوب دید ما را به
خیران خندون زیر نظر همه راه را ثبت می‌کنند.






دانش‌آموزان با دیدن تصاویر خودشان چه احساسی داشتند؟






همه غافلگیر شده بودند و بعضی ترسیده و پشیمان و ...

معنای عبارت قرآنی زیر را بنویسید.

فَاللَّهُ خَيْرٌ حَافِظًا وَهُوَ أَرْحَمُ الرَّاحِمِينَ

پس خندون بهترین نگهدارنده است و او مهربان‌ترین نگهدارنده است.

	شناخت اجزای جمله و رسم نمودار آن
	املاي صحیح کلمات با توجه به معنی
	معنی کلمات
	حفاظت از محیط زیست
	عوامل مؤثر بر رشد گیاهان

	مشخصات ۴ ضلعی‌ها
	آشنایی با ویژگی‌های متوازی الاضلاع
	آشنایی با دستگاه گردش خون
	آشنایی با دستگاه تنفس
	ساخت واژه‌ها

شناختن آنها

-  میوه خوب
-  خوب
-  قابل قبول
-  نیاز به تلاش بیشتر