



درس ۴ علوم انرژی الکتریکی

موضوع:

تاریخ

نام و نام خانوادگی

هدف:

صحیح و غلط



۱. فرزندم! درستی یا نادرستی عبارت‌ها را مشخص کن.



الف) سیم کشی برق خانه‌ها به صورت متوالی است.
ب) پلاستیک رسانای جریان الکتریکی است.
ج) در برخی وسایل بیش از یک باتری به کار می‌رود.



چهار گزینه‌ای

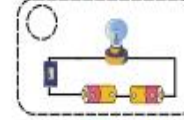
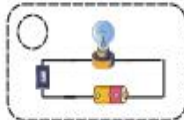
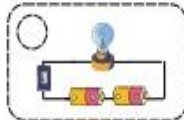



۲. گزینه‌ی صحیح را انتخاب کنید.

الف) در کدام وسیله زیر انرژی الکتریکی به حرکتی تبدیل می‌شود؟



ب) در مدارهای زیر کدام لامپ روشن نمی‌شود؟



جای خالی



۳. جای خالی را با عبارت مناسب کامل کنید.

الف) در یک مدار الکتریکی از طریق..... می‌توان جریان الکتریسیته را قطع و وصل کرد.

ب) در مداری که لامپ آن روشن است، انرژی الکتریکی به کمک..... از باتری به لامپ می‌رسد.

ج) در مدار موازی اگر یک لامپ روشن نشود، لامپ دیگر..... می‌ماند. (روشن - خاموش)

د) در مدار..... اگر یک لامپ خاموش شود، لامپ دیگر نیز خاموش می‌شود.



بازخورد:

Blank space for student feedback.

