



شماره‌ی

۲۰

# ارمغان هفته - چهارم دبستان

نام و نام خانوادگی: ..... تاریخ: ..... نام آموزگار: .....

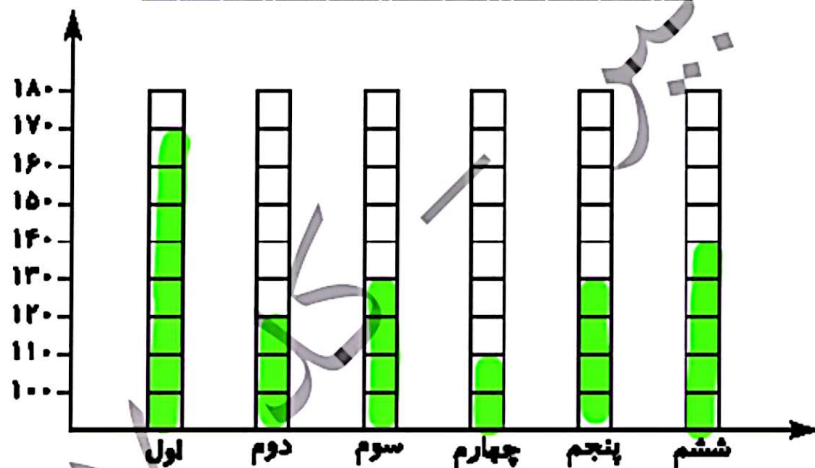
ریاضی < فصل ۷ آملر و احتمال: نمودار خط شکسته  
 علوم < درس ۱۲: گوناگونی گیلهان  
 فارسی < درس ۱۷: مدرسه‌ی هوشمند (۲) - نیایش

مطالعات اجتماعی < درس ۲۲: روزهای مهم (۱)  
 هدیه‌های آسمان < درس ۱۹: خدا چون از تو ممنوم (۲)  
 قرآن < درس ۱۵: جلسه‌ی دوم

## ریاضی

تعداد دانش‌آموزان پایه‌های مختلف دبستان علوی در شهر تهران به صورت تقریبی به شرح زیر است. نمودار ستونی آن را کامل کنید و سپس به سوالات پاسخ دهید.

پایه	اول	دوم	سوم	چهارم	پنجم	ششم
تعداد	۱۷۰	۱۲۰	۱۳۰	۱۱۰	۱۳۰	۱۴۰



- الف) کدام پایه بیشترین دانش‌آموز را دارد؟ **پایه اول**
- ب) کدام پایه کمترین دانش‌آموز را دارد؟ **پایه چهارم**
- پ) تعداد دانش‌آموزان کدام پایه‌ها برابرند؟ **پایه‌های سوم و پنجم**

در نمودار خط شکسته، هر نماد چه مفهومی دارد؟

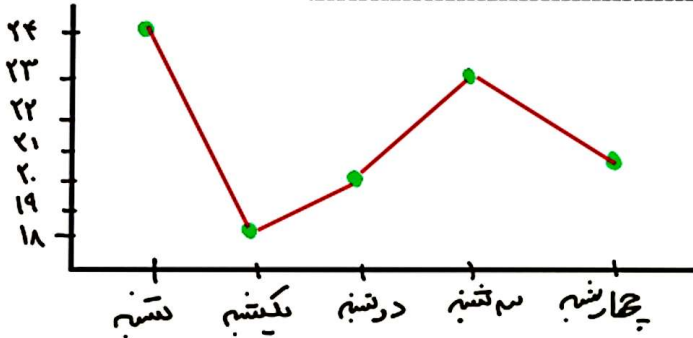
- الف) **نقطه ماندن** (ب)
- ب) **افزایش** (پ)
- پ) **کاهش**



تعداد گل‌های فروخته شده‌ی یک گل فروش از روز شنبه تا چهارشنبه به شرح زیر بوده است:

روز	شنبه	یکشنبه	دوشنبه	سه‌شنبه	چهارشنبه
تعداد شاخه	۲۴	۱۸	۲۰	۲۲	۲۱

تعداد شاخه



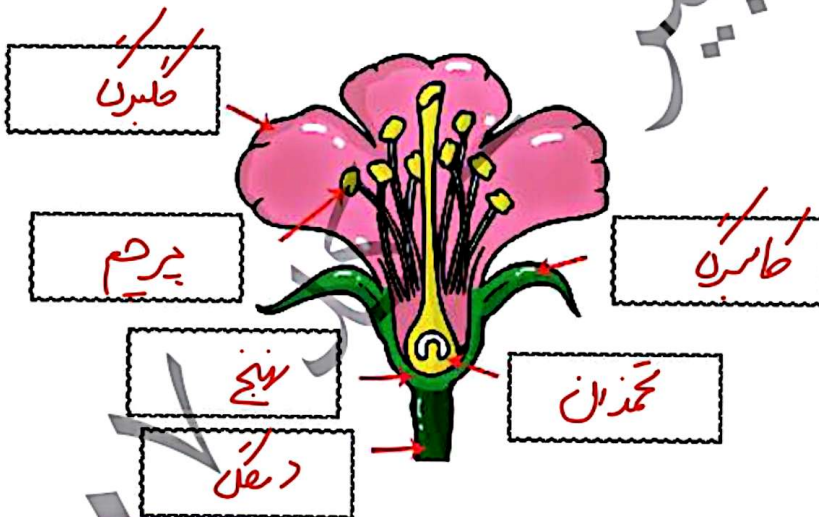
الف) نمودار خط شکسته‌ی آن را رسم کنید.

ب) در چه روزی فروش او رشد داشته است؟

دوشنبه و سه‌شنبه

علوم

برچسب نام هر قسمت را در محل خود قرار دهید.



ج) جاهای خالی را کامل کنید.

الف) تک لپه‌ای‌ها دارای برگ‌های بارید و کشیده هستند.

ب) گیاهانی مانند کاج، باقلا و گوجه‌فرنگی با دانه تولیدمثل می‌کنند.

پ) هاگدان سرخس پشت برگ‌هایش و به صورت برجسته و به رنگ قهوه‌ای دیده می‌شود.

ت) اولین بخش گیاه که از پوسته‌ی دانه خارج می‌شود ریشه است.

ث) لوبیا، گل رز و سیب جزء گیاهان صن‌دار و دو لپه‌ای هستند.

د) کدام یک از گیاهان زیر با دانه تولیدمثل نمی‌کند؟

کاج (۴)

خزه (۳) ✓

لا (۲)

گندم (۱)





۴ در مورد گیاهان یک لپه‌ای چه می‌دانید؟ مثال بزنید.  
 جری هلاک باریک و لشفه به همراه رگ مری هاگ موارگی دارند. ریشه آنها افشان بوده و مقدار  
 ص بگی ها منصب ۳ انت جزا - خذت

۵ محصول نهایی غذاسازی در گیاهان چیست؟

۴ اکسیژن و کربن دی‌اکسید

۳ قند و آب

۲ کربن دی‌اکسید و آب

۱ قند و اکسیژن

**فارسی**

۱ برای کلمات زیر یک هم‌خانواده بنویسید.

واقعی	واقعی	نفس	نفس
انتقال	انتقال	عمیق	عمیق

۲ جمع کلمات زیر را بنویسید.  
 قانون: **قوانین** تصویر: **تصاویر** انگشت: **انگشتان**

۳ جاهای خالی را با کلمه‌های (سپس، و بعد، اولین) کامل کنید.  
 مهتاب **اولین** روزی بود که به مدرسه‌ی جدید رفته بود، دانش‌آموزان دستشان را روی صفحه‌ای رنگی قرار می‌دادند و  
**بعد** وارد کلاس می‌شدند. مهتاب نشانی پایگاه رایانه‌ای مدرسه را به پدر و مادرش داد. **سپس** کنار پدر مشغول  
 کار با رایانه شد. **و** باهم سری به پایگاه مدرسه زدند.

۴ اجزای جمله‌های زیر را مشخص کنید. (فعل - فاعل - مفعول)

فناوری و پیشرفت‌های علمی، هر بیننده و شنونده را شگفت‌زده می‌کند.

فاعل مفعول فعل

۵ حضور و غیاب در مدرسه‌ی هوشمند را با مدارس معمولی مقایسه کنید و یک خوبی آن را بیان کنید.

حضور و غیاب در مدارس هوشمند، به صورت دیجیتالی انجام می‌شود و ساعت ورود و خروج دانش‌آموزان  
 از طریق پیامک برای والدین ارسال می‌شود. اما در مدارس معمولی این روال مرق دارد:

**مطالعات اجتماعی**

۱ عبارت صحیح را انتخاب کنید.

الف) در کدام یک از کشورهای زیر، جشن‌های نوروزی برپا نمی‌شود؟

۴ تاجیکستان

۳ آذربایجان

۲ افغانستان

۱ عراق

ب) خودکفا بودن کشور براساس کدام یک از شعارهای انقلاب ماست؟

۴ جمهوری

۳ آزادی

۱ استقلال

۱ اسلامی بودن



با گذاشتن علامت ✓ جدول را کامل کنید.

روز طبیعت	مبعث پیامبر اکرم (ص)	عید فطر	روز درختکاری	عید نوروز	تعطیلات مناسبت‌ها
✓			✓	✓	ملی
	✓	✓			دینی

کدام یک از اعیاد مذهبی در تمام کشورهای اسلامی تعطیل است؟

عید فطر و عید قربان







### هدیه‌های آسمان - قرآن




چرا در روز قیامت برخی چهره‌ها خندان و برخی چهره‌ها غمگین هستند؟

اینها که کارهای خوب انجام داده‌اند و از دسورات خداوند اطاعت کرده‌اند، شاد هستند و اینها که کارهای زشت و ناپسند انجام داده‌اند و از دسورات خداوند اطاعت نکرده‌اند، غمگین هستند.

معنای عبارات قرآنی زیر را بنویسید.

- (الف) و انزل لکم من السماء ماء: و نازل کردیم برای شما از آسمان آب را  
 (ب) هُوَ الَّذِي أَنْزَلَ عَلَيْكَ الْكِتَابَ: او کسی است که نازل کرد بر تو قرآن را  
 (پ) هُوَ الَّذِي خَلَقَ لَكُمْ مَا فِي الْأَرْضِ جَمِيعًا: او کسی است که خلق کرد برای شما آنچه در زمین است.

	تشخیص فعل، فاعل و مفعول
	درک مطلب
	آشنایی با روزهای مهم در ایران
	آشنایی با اعیاد مذهبی
	روز قیامت
	معنای عبارات قرآنی

	کاربرد نمودار ستونی
	کاربرد نمودار خط شکسته
	تشخیص اجزای گل
	روش‌های تولید مثل گیاهان
	کلمات هم معنی
	کلمات مفرد و جمع
	کاربرد (پس، و، بعد، اولین) در جمله

شاخص‌ها

-  خیلی خوب
-  خوب
-  قابل قبول
-  نیاز به تلاش بیشتر