



..... موضوع: تاریخ نام و نام خانوادگی

..... هدف:

ترکیب کن

ذ و ذورنقه

ذ - ذره بین

ذ ا اذان

ذ - ذهن

ذ ی ذی دستمال کاغذی

ذ ی لذیذ

ذ ه ذرت

ذ ه ایزه

با توجه به تصاویر، کلمات را بخوان و به جای نشانه ی «ذ» در کلمات دقت کن.

کاغذ	آذان	ذرت

۲





..... موضوع: تاریخ نام و نام خانوادگی

..... هدف:

برای هر نشانه دو کلمه بنویس.

ز

ز

ص

س

خ

در هر قسمت به بزرگ ترها بگو که نشانه ها چه شباهت و چه تفاوتی با هم دارند.

د ز

ز ز

۳





نام و نام خانوادگی

تاریخ

موضوع:

هدف:

با کلمات داده شده جاهای خالی را کامل کن.

ما تابستانِ به مسافرت رفتیم.

من از خوردن کباب می برم.

صدای از مسجد شنیدم.

بخش های هر کلمه را جدا جدا بنویس.


لذیذ = +

دلپذیر = + +

گذشته = + +

گذارد = + + +

۴





نام و نام خانوادگی: _____ تاریخ: _____ موضوع: _____ هدف: _____

مرتب کن. 

گذشته - هفته ی - خیلی - هوا - گرم - بود

شنیدم - مسجد - آذان - از - را - صدای

کلمات هم معنی را با خط کش به هم وصل کن. 

تماشایی	قصه
داستان	لذیذ
خوش مزه	سپاس گزاری
تشکر	دیدنی

۵





نام و نام خانوادگی: _____ تاریخ: _____ موضوع: _____ هدف: _____

جدول ذرتی

جواب ها را به صورت صداهای جدا از هم بنویس.



- ۱- به معنی خوش مزه و خوش طعم است.
- ۲- به وقت و زمانی که سپری شده است می گویند.
- ۳- وقت نماز که فرا می رسد صدای آن را از مسجد می شنویم.
- ۵- نام دختری که در درس « سفر دل پذیر » آمده است.
- ۶- نام تصویر این جدول.



۶





نام و نام خانوادگی: _____

تاریخ: _____

موضوع: _____

هدف: _____

babaabdad blogfa

کار برگ فارسی نشانه ی ذ

نام و نام خانوادگی: _____


کلاس اول

مدرسه: _____

تاریخ: _____



نام تصاویر زیر را بنویس.



کلماتی که در درس سفر دلپذیر نشانه ی ذ دارند پیدا کن و بنویس.




مرتب کن.

گذشته - هفته ی - خیلی - هوا - گرم - بود

.....

شنیدم - مسجد - آذان - از - را - صدای

.....





نام و نام خانوادگی: _____ تاریخ: _____ موضوع: _____ هدف: _____

با کلمات داده شده جای خالی را کامل کن.




ما تابستان به مسافرت رفتیم.
 من از خوردن کباب می برم.
 صد ای را از مسجد شنیدم.

برای هر نشانه دو کلمه بنویس.

بخش هر کدام را جدا جدا بنویس.

لذیذ = +
 دلپذیر = + +
 می گذارد = + + +

ارزشیابی: خیلی خوب خوب قابل قبول نیاز به تلاش بیشتر





نام و نام خانوادگی

تاریخ

موضوع:

هدف:

من صدای آذان را از مسجد (شنیدم - شنیدی) .
 پدرم پس از آذان ، نماز (می خوانید - می خواند) .
 بچه ها وسایل خود را در جای مخصوص (می گذارند - گذاشت) .

در جاهای خالی یکی از نشانه های (ز - ذ) بگذار تا کلمه درست شود .

دلپیر



.....مان

گُـاشت

آ.....ان

پروا.....

می گُـارد

خوش آوا.....

به درس سفر دلپذیر نگاه کن و کامل کن .

خانم آموزگار پرسید: : کدام یک از شما تابستان گذشته به مسافرت رفته ؟
 آذر دست به کرد و گفت : اجا.....؟
 تابستان گذ..... با پدر ، مادر و برادرم به مازند..... رف..... از دیدن جنگل ها
 چشمه ها ، کوه ها و شال..... لذت..... بردیم .
 برادرم گفت : « کاش می توان..... هر چه را که می..... ، بنو..... .
 مادرم گفت : « وقتی به مدرسه بر..... ، نوشتن را یاد می..... .
 اما تا آن ز..... هر چه را دیده..... نقا..... کن .

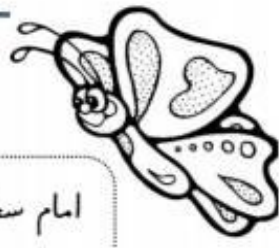
آفرین بر تو

NiniWeblog.com/mina_ghajar64





نام و نام خانوادگی: _____ تاریخ: _____
 موضوع: _____ هدف: _____



امام سجّاد (ع): اگر کسی از تو بدگویی کند و سپس از تو بخشش بخواهد، از از بگذر و پوزش او را بپذیر.

روز گذشته هوا خیلی خوب و دلپذیر بود.
 آذر ذره بین خود را برداشت و در کیفش گذاشت.
 آذر و خانواده اش از خیابان گذشتند و به پارک رفتند.
 مادر آش خوش مزه و لذیذی پخت. پدر هم برای آنان ذرت خرید.
 آن ها از خوردن آش و ذرت لذت بردند.
 پس از شنیدن صدای اذان آن ها در پارک نماز خواندند.
 آذر سنگ ها، برگ ها و چیزهای دیگر را با ذره بین نگاه کرد.
 ذره بین چیزهای کوچک را بزرگ نشان می دهد

می کزد - می کزارد - گذشت
 گذاشت - اذیت



نام و نام خانوادگی

تاریخ

موضوع:

هدف:

پایه ی اول
به نام خدای خوب

نام زیبای من:
تاریخ:

تکلیف ریاضی تم ۲۰

۱- عدد های زیر را ادامه بده.

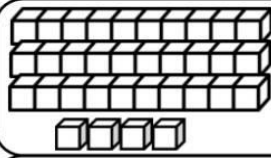
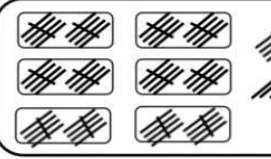
۲۰ - ۲۵ - ۳۰
+ ۵

۱۶ - ۲۶ - ۳۶
+ ۱۰

۵۲ - ۵۳ - ۵۴

۷۴ - ۷۵ - ۷۶

۲- جاهای خالی را با به طور مناسب کامل کن.

	ده تایی و یکی می شود	یکی ده تایی	با عدد: ----- با حروف: -----
	۶ ده تایی و ۸ یکی می شود	یکی ده تایی	با عدد: ----- با حروف: -----

۳- جواب جمع و تفریق های زیر را به دست بیاور.

$۲۰ + ۵ = \text{-----}$	$۱۰ + ۴۰ + ۵ = \text{-----}$	$۷۰ - ۴۰ = \text{-----}$	$۵۰ - ۵۰ = \text{-----}$
$۱۰ + ۱۰ + ۱۰ = \text{-----}$		$۸۰ - ۱۰ = \text{-----}$	
$۱۰ + ۱۰ + ۱۰ + ۵ = \text{-----}$		$۹۰ - ۲۰ = \text{-----}$	
$۱۰ + ۱۰ + ۱۰ + ۵ + ۵ + ۵ + ۵ = \text{-----}$		$۶۰ - ۵ = \text{-----}$	