

سؤال

ردیف

از عدد ۲۵ تا ۳۳ به ترتیب بنویس.

۱

جمع کنید.

۲

$$۸ + ۵ + ۲ =$$


$$۱ + ۶ + ۹ =$$

$$۳ + ۷ + ۹ =$$

$$۱ + ۶ + ۴ =$$

عدد شکل را بنویس.

۳



ده تایی | یکی

.....

تفریق کنید. (با شکل)

۴

$$۶ - ۲ =$$

$$۷ - ۵ =$$

$$۹ - ۰ =$$

$$۸ - ۳ =$$

جمع و تفریق را روی محور نشان بده.

۵




$$۳ + ۵ + ۷ =$$



$$۱۰ - ۶ =$$

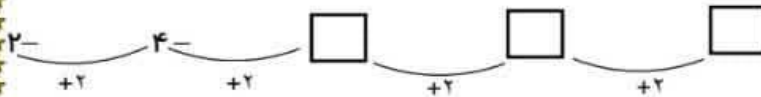
عدد قبل و بعد را بنویس.

۶



الگو را ادامه بده.



۷



سه تا سه تا بشمار و ادامه بده.

۸

$$۹ - ۱۲ - \square - \square - \square$$



\_\_\_\_\_

\_\_\_\_\_

۱- عدد های زیر را ادامه بده.

۲۰ - ۲۵ - ۳۰



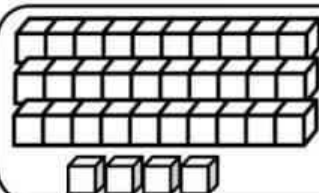
۱۶ - ۲۶ - ۳۶



۵۲ - ۵۳ - ۵۴

۷۴ - ۷۵ - ۷۶

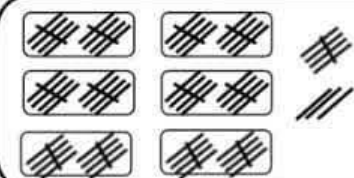
۲- جاهای خالی را با به طور مناسب کامل کن.



ده تایی و \_\_\_\_\_  
یکی می شود \_\_\_\_\_

ده تایی	یکی
_____	_____

با عدد: \_\_\_\_\_  
با حروف: \_\_\_\_\_



۶ ده تایی و ۸ یکی  
می شود \_\_\_\_\_

ده تایی	یکی
_____	_____

با عدد: \_\_\_\_\_  
با حروف: \_\_\_\_\_

۳- جواب جمع و تفریق های زیر را به دست بیاور.

$۲۰ + ۵ = \text{---}$

$۱۰ + ۴۰ + ۵ = \text{---}$

$۷۰ - ۴۰ = \text{---}$

$۵۰ - ۵۰ = \text{---}$

$۱۰ + ۱۰ + ۱۰ = \text{---}$

$۸۰ - ۱۰ = \text{---}$

$۱۰ + ۱۰ + ۱۰ + ۵ = \text{---}$

$۹۰ - ۲۰ = \text{---}$

$۱۰ + ۱۰ + ۱۰ + ۵ + ۵ + ۵ + ۵ = \text{---}$

$۶۰ - ۵ = \text{---}$




۴- برای هر مسئله شکل بکش و جواب آن را به دست بیاور.

۵ بسته ی ده تایی بستنی در یخچال بود. ۷ بستنی دیگر در یخچال قرار دادیم. حالا چند بستنی در یخچال است؟

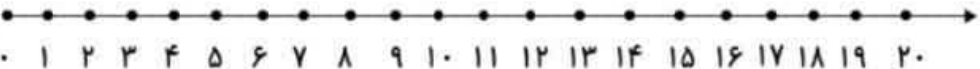
ژاله ۴ بسته ی ده تایی مداد داشت. مادرش ۲ بسته ی ده تایی دیگر به او داد. حالا ژاله چند مداد دارد؟

۵- جمع و تفریق های زیر را روی محور نشان بده، سپس جواب آن ها را بنویس.

$$5 + 5 + 5 = \text{-----}$$




$$15 - 9 = \text{-----}$$



۶- ابتدا مربع های شگفت انگیز را کامل کن. سپس جدول سمت چپ را طوری کامل کن که دو طرف آن مثل هم باشد.


۳	۶		۷	۲		۱	۵	
۲	۴	۵	۳		۱	۷	۶	۸
۹	۷	۱	۶	۵	۸	۲	۴	۳
۷	۹	۲	۴		۶	۵	۳	۱
		۶				۴		
۵	۳	۴	۹		۷	۸	۲	۶
۶	۵	۷	۱	۲	۹	۳	۸	۴
۴	۲	۹	۸		۳	۱	۵	۷
۱	۸		۵		۴		۹	۲





با شابلون یک الگوی زیبا بکش. ۱۶

حاصل جمع را با چوب خط پیدا کن و عبارت جمع را بنویس. ۱۷

$$\boxed{\begin{array}{|c|c|} \hline \text{///} & \text{///} \\ \hline \end{array}} + \boxed{\begin{array}{|c|c|} \hline \text{////} & \text{///} \\ \hline \end{array}} =$$

..... + ..... = .....