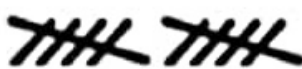



۱. دسته های ده تایی درست کن و عدد مربوط را بنویس.


	ده تایی	یکی
		
		

	ده تایی	یکی


با عدد: _____ با حروف: _____ با عدد: _____ با حروف: _____

۲. در هر ردیف الگو را ادامه بده.

۵ - ۱۰ - ۱۵ - - - - -



----- ۸۰ - ۹۰



۳. مسئله را از هر راهی دوست داری حل کن.

دو دسته ی ۱۰ تایی ماهی در آب شنا می کردند. سه دسته ی ماهی دیگر به آن ها اضافه شدند.

حالا چند ماهی در آب شنا می کنند؟

..... ماهی در آب شنا می کنند.

۴. با چوب خط حساب کن.

$5 + 3 + 11 =$ -----	<input type="text"/>	$8 + 2 + 10 =$ -----	<input type="text"/>
----------------------	----------------------	----------------------	----------------------

۵. اعداد مربوط به هم را وصل کن.

۵۰ ۷۸ ۹۳ ۲۵ ۹ ۱۸

هفتاد و هشت پنجاه نود و سه نه هیجده بیست و پنج

با عدد یا حروف بنویس.

	س و شش		چل و نه		پنجاه و سه		هشتاد و هفت
۹۷		۱۷		۶۴		۷۹	

در جاهای خالی علامت مناسب بگذار.

$۶۰ - ۵$



$۴۰ + ۱۰ + ۵$

$۸ - ۳ + ۵$



$۱۰ - ۶$

$۳۰ - ۱۵$



$۹۰ - ۴۰$

$۲۸ - ۸$



$۱۸ - ۸$



این جمع و تفریق ها را با کشیدن چوب خط انجام بده - برای هر عدد از یک رنگ استفاده کن.

$۳۰ - ۱۳ =$

$۱۲ + ۶ + ۹ =$

$۲۵ - ۷ =$

با کشیدن شکل



زهر ا ۱۴ بادکنک باد کرد.

۵ تا از بادکنک ها قرمز بود و بقیه سبز بودند .

۴ تا از بادکنک های سبز ترکیب .

حالا چند بادکنک سبز برایش باقی مانده است؟



روی نیکت علی تعداد کسی چینه ریخته شده بود.

دوستش رضا ۶ چینه به او داد.

اما محمد از علی ۲ چینه گرفت.

حالا روی نیکت علی چند چینه است؟