




۶- دو عدد پیدا کن که جمع آن برابر عددی باشد که بالای ستون نوشته.

۴	


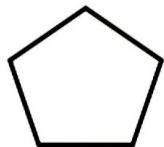
۷- برای شکل های زیر جمع یا تفریق بنویس.



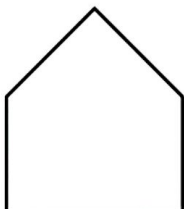
۸- جدول شگفت انگیز را کامل کن.

۲	۵	۱	۶	۳	۴
۳		۶	۲	۵	۱
۱	۲	۵	۴		۳
۴	۶		۵	۱	۲
۵	۱	۴	۳	۲	۶
	۳	۲	۱	۴	

۹- هر شکل چند گوشه و چند لبه دارد.

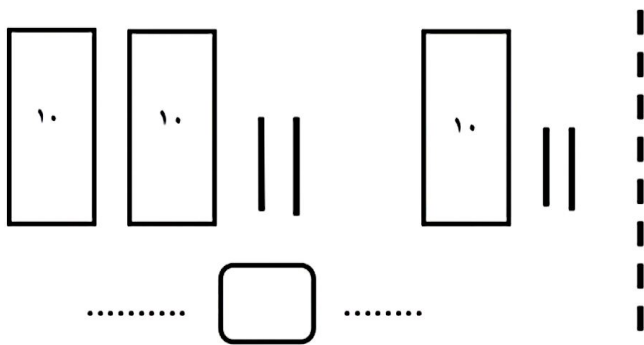
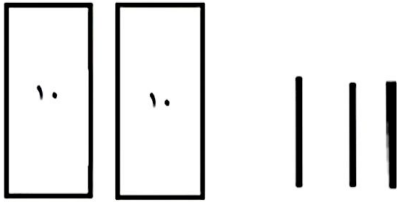


۱۰- با کمک خط قرینه شکلها را به ۲ قسمت مساوی تقسیم کن.






۱- عدد هر شکل را بنویس و با چوب خط نشان بده.



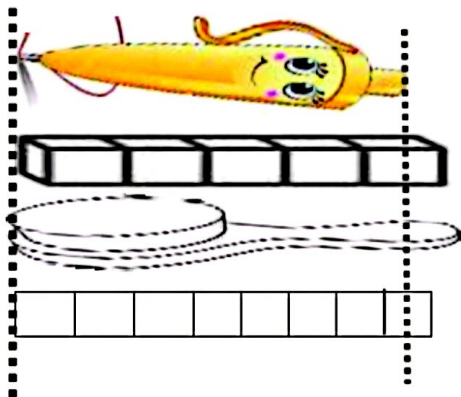
۲- علامت مناسب بگذار. (< = >)



۳- شکل را طوری کامل کن که دو نیمه آن مثل هم باشد.




۴- اندازه هر شکل چند تا شکل کوچک است؟



اندازه خودکار بین تا است.

اندازه برس بین تا است.

۵- رنگ کن و جواب جمع را پیدا کن.



$۳+۴+۱=$