



نام و نام خانوادگی

تاریخ

موضوع:

هدف:

در کدام کلمه (و) هیچ صدایی ندارد؟	☆
(۱) خواهش (۲) خورشید (۳) آموزگار	
هم معنی فراوان کدام گزینه است؟	☆
(۱) بلند (۲) بسیار (۳) بزرگ	
آخر کدام کلمه صدای ه می شنوی؟	☆
(۱) خنده (۲) گریه (۳) چراگاه	
با کدام گزینه کامل می شود؟ فروش +	☆
(۱) نو (۲) گاه (۳) خانه	
املاي کدام کلمه درست است؟	☆
(۱) مخصوص (۲) مخصوص (۳) مخصوص	
به نور مبتاب می گویند.	☆
(۱) ماه (۲) خورشید (۳) ستاره	
نشانه ی (ای) آخر کدام کلمه قرار می گیرد؟	☆
(۱) صنعتی (۲) ذره (۳) چاه	
در کدام کلمه شکل (و) صدای (آ) می دهد؟	☆
(۱) صورت (۲) تولد (۳) موج	
کدام یک ترکیب را کامل می کند؟ خوا +	☆
(۱) نه (۲) هش (۳) موش	
هم معنی پاکیزه کدام گزینه است؟	☆
(۱) سالم (۲) نو (۳) تیز	

بازخورد:

.....

.....

.....





نام و نام خانوادگی

تاریخ

موضوع:

هدف:

گل باهوشم با نشانه های داخل هر دایره کلمه بساز و بعد با همان کلمه جمله ای زیبا بنویس.

ص، ف
د

ا، ف،
ص

ا، د،
ص

ص، س،
ص، خ
و

ص، ز،
د، ق،
و

دانای من نقطه ها را با مداد قرمز بگذار.

مادر صورت بچه را با صابون می شوید. صابون حلی کف
داسب. صورت بچه سفید سده بود مانند صورت آدم برفی.

بازخورد:

Blank dashed-line box for feedback.







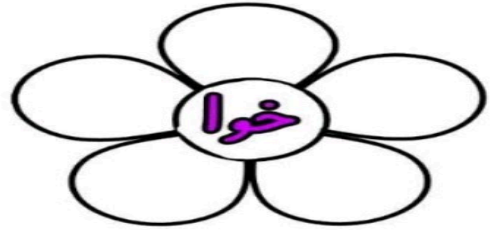

موضوع:

تاریخ

نام و نام خانوادگی

هدف:

باهوش و باسوادم داخل گلبرگ ها کلمه ی مناسب بنویس .



جملات زیر را با کلمات (خواب، خودکار، ماژیک، آژیر)

سمانه مشق هایش را با..... می نویسد.

من دیشب با..... یک درخت بزرگ کشیدم.

ماشین پلیس..... می کشد.

خواهر من شب ها در..... راه می رود.

Blank writing lines for student response.





موضوع:

تاریخ

نام و نام خانوادگی

هدف:

قشنگم جمله ها را مرتب کن.

۱) می خوانم، نماز، هر روز، من، در، مدرسه.

۲) نیما، خرید، خواهرش، ماژیک، برای.

۳) زود، منیژه، مرده، می خوابند، شب ها، و.

۴) آهو، جنگل، استخوان، شکست، می دوید، در،

ناگهان، افتاد، پایش.

۵) خواستگار، برای، دیشب، خواهرم، آمد.

بازخورد:

Blank area for student response with horizontal lines.





نام و نام خانوادگی

تاریخ

موضوع:

هدف:

دخترم مسئله ها را با روش خواسته شده حل کن .

در گلخانه ۵ گلدان رز ، ۸ گلدان یاس و ۵ گلدان
مریم وجود دارد . آن گلخانه چند گلدان دارد ؟ (شکل)

سام ۱۵ بادکنک دارد ، ۶ بادکنک را به برادرش
و ۳ بادکنک را به دوستش داد ، چند بادکنک برای سام
مانده است ؟ (محور)

بازخورد:






نام و نام خانوادگی: _____ تاریخ: _____ موضوع: _____ هدف: _____

مادر برای ناهار ۶ کوکو سبزی ، ۵ کوکو سیب زمینی و ۵ کتلت درست کرد. مادر روی هم چند کوکو و کتلت درست کرد؟ (شکل)

در کلاس ۲۵ دانش آموز نشسته بود ۴ نفر وارد کلاس شدند و ۵ نفر از آنها بیرون رفتند. چند نفر در کلاس مانده است؟ (محور)

بازخورد:





موضوع:

تاریخ

نام و نام خانوادگی

هدف:

آرمان ۲۵ دانه ی لوییا کاشت . ۱۳ تا از دانه
ها جوانه زدند . چند دانه جوانه نزده است ؟

امیر و دوستش برای نمایش مدرسه ۱۵ بادبادک
درست کردند ، اگر ۶ تا از بادبادک ها قرمز باشد
چند تا از آنها قرمز نیست ؟ (شکل)

بازخورد:

Blank area for student response with horizontal lines.



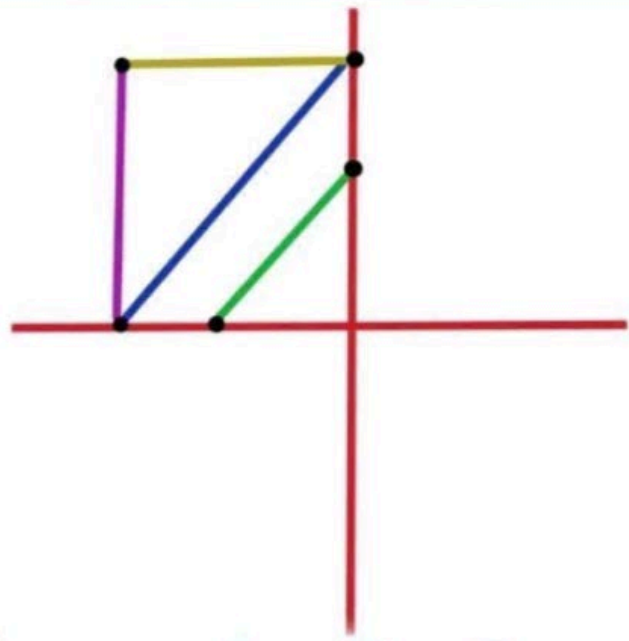


موضوع: _____ تاریخ: _____ نام و نام خانوادگی: _____
 هدف: _____

ریاضیدانم جواب جمع و تفریق‌ها را بنویس و بین هر کدام علامت <=> قرار بده.

$10 + 20 + 30 + 5 =$		$5 + 5 + 5 + 20 =$
$30 + 20 + 2 + 10 =$		$10 + 10 + 20 - 5 =$
$10 + 20 + 5 + 5 =$		$20 + 20 + 5 - 10 =$

قشنگم طرح تقارن را کامل کن. حتما از خط کش استفاده کن.



بازخورد:

