

ریاضی &lt; ۱۹ تم

علوم &lt; درس ۱۱: دنیای سرد و گرم (۲)

فارسی &lt; نشانه‌های «خوا استثنا» و «تشدید»

## ریاضی

بین هر دو عدد، علامت  $<$   $=$   $>$  بگذارید.

$۲۰ \bigcirc ۳۰$

$۴۰ \bigcirc ۴$

$۷۰ \bigcirc ۸۰$

$۹۰ \bigcirc ۶۰$

$۵۰ \bigcirc ۵۰$

$۵۰ \bigcirc ۵$

جواب جمع و تفریق‌ها را بنویسید.

$۴۰ + ۳۰ =$

$۷۰ + ۱۰ =$

$۲۰ + ۴۰ =$

$۵۰ - ۱۰ =$

$۲۰ + ۱۰ =$

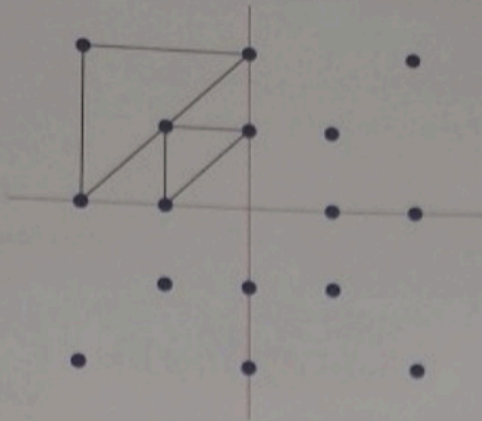
$۶۰ - ۵۰ =$

برای هر مسئله یک شکل ساده بکشید، جواب را پیدا کنید و روی محور نشان دهید.

الف) ۸ بادکنک در کلاس بود. ۳ تا از بادکنک‌ها ترکید. چند بادکنک مانده است؟


ب) مریم ۶ شکلات داشت. علی به او ۳ شکلات دیگر دارد. حالا مریم چند شکلات دارد؟

با خط کش نقاط نیمه‌ی سمت راست را مانند سمت چپ وصل کنید، سپس نقاط نیمه‌ی پایین را مثل نیمه‌ی بالا به هم وصل کنید.



### علوم

دور وسایلی که محیط را گرم می‌کنند خط آبی و وسایلی که محیط را سرد نگه می‌دارند خط قرمز بکشید.



چه شغل‌هایی با گرما ارتباط دارند؟ علامت بزنید.



۳ درنا تعدادی لباس با رنگ‌های مختلف را جدا کرد و به برنا گفت: «کدام یک از لباس‌های زیر را اگر دور بطری یخ بیچی، یخ داخل بطری دیرتر آب می‌شود؟» علامت بزنیید.



۴ برچسب وسایلی را که برای خنک کردن به کار می‌روند سمت راست و آن‌هایی که برای گرم کردن به کار می‌روند سمت چپ بچسبانیید.

گرم کننده

خنک کننده

فارسی

۱ نام تصاویر را با «خ» یا «خوا» کامل کنید.



هر.....



رپشت.....



بید.....



نه.....

۲ مخالف کلمه‌های زیر را با اضافه کردن ترکیب (ن) به اول آن‌ها بنویسید.

می‌خوانی



Blank box for the opposite of 'می‌خوانی'.

می‌خواستیم



Blank box for the opposite of 'می‌خواستیم'.

می‌خواستید



Blank box for the opposite of 'می‌خواستید'.

می‌خواهم



Blank box for the opposite of 'می‌خواهم'.

با توجه به نشانه‌ها هر کلمه را در جدول و در جایگاه قرار دهید.

داور - خورشید - خواهش - روشن - توپ - می‌آورد - خوابید - صورتی

او و	و	و ← و	خوا
.....	.....	.....	.....
.....	.....	.....	.....

پاسخ دهید.

الف) کسی که کفش درست می‌کند، ..... است.

ب) کسی که شیرینی می‌پزد، ..... است.





پ) کسی که خانه می‌سازد، ..... است.





ت) کسی که با چوب وسایل چوبی می‌سازد، ..... است.

ث) نجار با ..... چوب‌ها را می‌برد.

برای هر کلمه‌ای که نیاز است تشدید بگذارید و دور نشانه‌ای که تشدید گرفته خط بکشید.

کفاشی	کوشش	بچه	خنده	نجار
	مزه	آره	تشکر	می‌کنند

	◀ وسایل سرمازا و گرمازا
	◀ ساخت فعل منفی
	◀ درک مطلب (آشنایی با مشاغل)
	◀ کاربرد علامت (ت) تشدید در کلمات

	◀ جمع و تفریق ذهنی
	◀ حل مسئله - مقایسه
	◀ تقارن چهار وجهی
	◀ موارد استفاده از گرما (مشاغل)

شما چقدر می‌دانید؟

خوب خوب  
خوب  
فقط خوب  
نیاز به تلاش بیشتر