



املا

گلم اول درس حلزون و مثل خورشید را روانخوانی کن و بعد از روی آن یک املا بنویس.

Handwriting practice area consisting of ten sets of horizontal dotted lines for writing.



Handwriting practice area consisting of four sets of horizontal dotted lines for writing.

روز:

تاریخ:

۱- مرتب کن.

می گیرد - مادرم - قبل از - وضو - نماز

است - خانه - حلزون - حیوانی - به دوش

۲- جای خالی را پر کن.

من هر روز ظهر.....می خورم.(ناهار - صبحانه - شام)

سام وبرادر هستند.(سینا - سارا - ثریا)


۳- جمع و تفریق زیر را انجام بده.

$$۲۰ + ۱۰ + ۱۰ - ۵ =$$

$$۳۰ + ۱۰ + ۲۰ =$$


۴- السا ۱۶ کتاب داستان داشت پدر برای او ۸ کتاب داستان دیگر خرید .

حالا السا چند کتاب داستان دارد؟(شکل بکش)



املا

عزیزم اول درس علی و معصومه و سفردل پذیر را روانخوانی کن و بعد یک املا از ان بنویس.



روز:

تاریخ:

۱- جمله بساز.

خوش حال.

حوله.

۲- مرتب کن.

ثریا - است - پاکیزه - دختری

کثیف - بیمار - دست - ما - می کند - را

۳- علامت مناسب بگذار.

< = >

$20 + 10 = \dots\dots\dots$

$40 - 20 = \dots\dots\dots$

$15 + 10 = \dots\dots\dots$

$35 - 5 = \dots\dots\dots$

۴- به عدد و به حروف بنویس.

سیزده

.....

هفده


.....

۳۵

.....

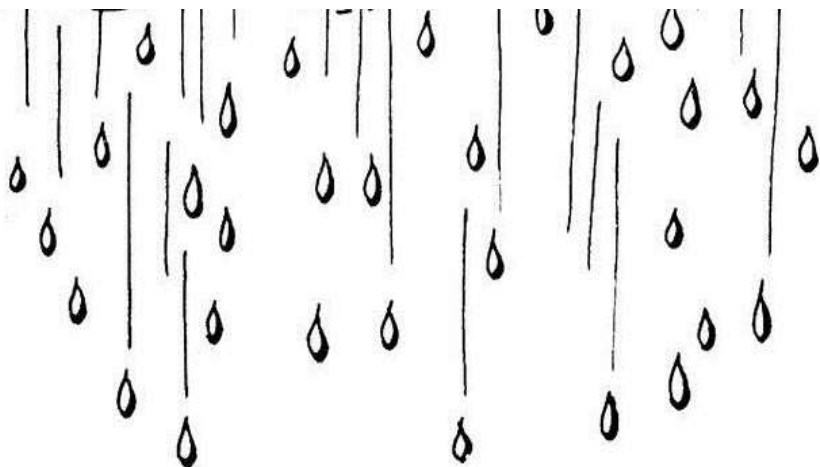
۵۷

.....



املا


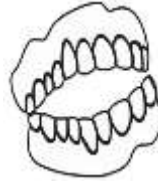

نازنینم اول درس صدای موج و درباررا
روانخوانی کن بعد یک املا از ان بنویس.



روز:

تاریخ:

۱- نام هر تصویر را در جای مناسب خودش در جدول بنویس.



| ح ح | ذ | ز | س س | ص ص | ث ث |
|-----|---|---|-----|-----|-----|
| | | | | | |

۲- جاهای خالی را با کلمه مناسب پر کن.

رضا دفترش را در کیف (می گذارد - می گذارند)

من وسایل خود را در جای مخصوص (می گذارم - می گذارم)

۳- جدول را کامل کن.

| | | | | |
|----|----|----|----|--|
| ۱۰ | ۱۰ | ۱۰ | ۱۰ | |
|----|----|----|----|--|

| ده تایی | یکی |
|---------|-----|
| | |


عدد:

حروف:



املا

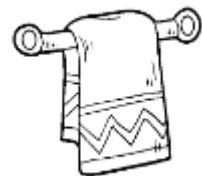
گل من اول درس قران و میهن ما را روانخوانی کن و بعد از ان یک املا بنویس.



روز:

تاریخ:

۱- برای هر تصویر یک جمله بنویس.



۲- کامل کن.

خواهرم


خواهرتان

خواهرشان

خواهرش



۳- روی محور نشان بده و جواب را بنویس.

اتوبوسی ۲۰ مسافر داشت در ایستگاه اول ۳ مسافر پیاده شدند. در ایستگاه دوم ۳ نفر دیگر پیاده شدند و در ایستگاه سوم ۳ نفر دیگر پیاده شدند. حالا اتوبوس چند مسافر دارد؟




املا

گل نازم اول درس کتاب خوانی و ژاله و منیژه را روانخوانی کن بعد از آن یک املا بنویس.



روز:

تاریخ:



۱- جمله ها را کامل کن.

من از خواهرم خواهش کردم که

علی داستان های شاهنامه را

۲- جاهای خالی را با کلمه مناسب پر کن.

وزنه بردار - خوش آواز - صدف - صاف

بلبل یک پرنده ی است.



در کنار دریا بسیار زیاد است.

پدر علی است.

آسمان زیبا و تماشایی است.


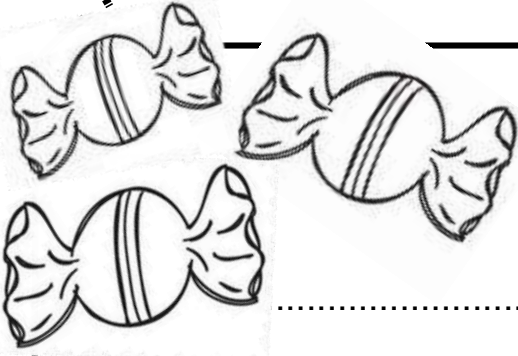
۳- ۷ اردک در آب بودند ۶ اردک دیگر هم به آنها اضافه شدند، ۲ اردک دیگر هم آمدند حالا چند اردک در آب است؟ (شکل هم بکش)

..... اردک در آب است.



املا

گلم یک املا ی زیبا بنویس.





A series of horizontal dotted lines for writing, spanning the width of the page. The lines are evenly spaced and provide a guide for letter height and placement.

روز:

تاریخ:


۱- اسم هر تصویر را بنویس.



۲- برای هر نشانه ۲ کلمه بنویس.

| ژ | ذ | ث ث | ض ض | ص ص |
|---|---|-----|-----|-----|
| | | | | |
| | | | | |

۳- دسته ده تایی درست کن و جدول را کامل کن.



| ده تایی | یکی |
|---------|-----|
| | |

به عدد:

به حروف:



روز:

تاریخ:



۱- نازنینم کلمات را بخش و صدا کشی کن.



| جَمع |
|------|
| |

| حَلزون |
|--------|
| |

۲- بلند بخوان و کلمات را در جای مناسب خود در جدول بنویس.

نوک - خواهش - زیاد - موج - خواهر - پیاز - خودکار - خواب - بیا

| ی - پنهان | خوا - استننا | و ---- استننا |
|-----------|--------------|---------------|
| | | |
| | | |
| | | |



۳- جاهای خالی را با عدد مناسب پر کن.

$$15 - 25 - 35 - \dots - \dots - \dots - \dots - 95$$

$\underbrace{\quad\quad\quad}_{+10} \quad \underbrace{\quad\quad\quad}_{+10}$

۴- جمع و تفریق را ذهنی انجام بده.

$$60 - 30 =$$

$$40 + 20 =$$

$$80 - 40 =$$



روز:

تاریخ:

۱- ۶ گنجشک روی درخت بودند ۷ گنجشک دیگر هم آمدند
حالا چند گنجشک روی درخت است؟
(برای مسئله شکل هم بکش)

۲- جمع و تفریق زیر را روی محور نشان بده.

۰ ۱ ۲ ۳ ۴ ۵ ۶ ۷ ۸ ۹ ۱۰ ۱۱ ۱۲ ۱۳ ۱۴ ۱۵ ۱۶ ۱۷ ۱۸ ۱۹ ۲۰

$$۱۲ + ۷ =$$

۰ ۱ ۲ ۳ ۴ ۵ ۶ ۷ ۸ ۹ ۱۰ ۱۱ ۱۲ ۱۳ ۱۴ ۱۵ ۱۶ ۱۷ ۱۸ ۱۹ ۲۰

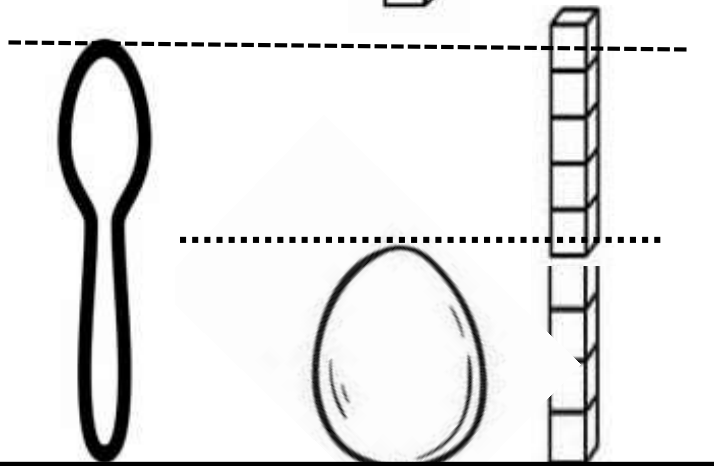
$$۱۹ - ۸ =$$

۳- کامل کن.

بلندی تخم مرغ بین و است.










بلندی قاشق بین و است..



املا

گل نازم نام هر تصویر را زیر آن بنویس.




۱- عزیزم پنج تفاوت موجود زنده و غیر زنده را بگو.

عروسک



۲- نام هر حس را بنویس .





۳- کدام جمله درست و کدام نادرست است؟

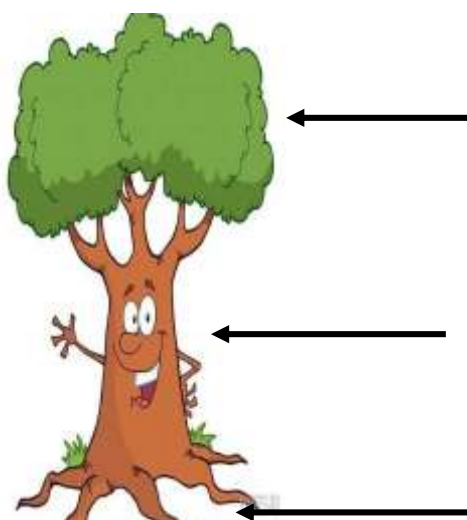
به حرکت هوا باد می گویند.

ماهی به هوا نیاز ندارد.

ما و همه موجودات زنده به هوا نیاز داریم.



تمیز نگه داشتن هوا به سلامت ما کمک نمی کند.

۴- پنج قسمت مهم گیاه را نام ببر.



۳ قسمت اصلی که همه ی گیاهان دارند؟

۲ قسمتی که بعضی گیاهان دارند؟



۵- کدام ریشه ی خوراکی است؟ (دورش خط بکش)

