

This file has limited permissions. You may not have access to some features. [View permissions](#)




آموختنی‌ها

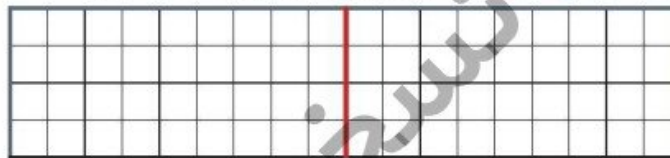
- طول و عرض حوض هر کدام با چند کاشی پوشیده شده است؟ (۲۲ تا ۲۴ بشار)
- در سمت راست و چپ چند پرندۀ در آسمان می‌بینی؟
- برای کدام قسمت‌ها می‌توانی با خط‌کش، خط تقارن رسم کنی؟
- برای تعداد خانم‌ها و آقایان یک عبارت جمع بنویس.
- تعداد کفش‌های افراد تصویر را دوتا دوتا بشار.

This file has limited permissions. You may not have access to some features. [View permissions](#)

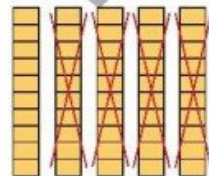

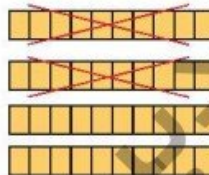
۱ الگوی زیر را ادامه بده.



۲ در سمت راست ۶ خانه را به دلخواه رنگ بزن؛ سپس نیمه‌ی دیگر را با توجه به خط تقارن کامل کن.



۳ برای هر شکل یک عبارت تقریب بنویس.



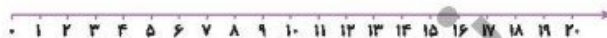
پیرن نویسنده

This file has limited permissions. You may not have access to some features. [View permissions](#)




4 مسئله‌ها را به کمک محور حل کن.

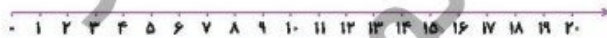
الف) کتاب تریا ۱۸ صفحه دارد. او دیروز ۳ صفحه و امروز ۵ صفحه‌ی دیگر خواند. او چند صفحه از کتابش را نخوانده است؟




ب) در یک لانه ۱۷ پرنده بودند. ۱۳ تا از پرنده‌ها پرواز کردند و رفتند. ۸ پرنده‌ی دیگر به لانه برگشتند. حالا چند پرنده در لانه است؟



پ) یک اتوبوس با ۱۴ مسافر از میدان آزادی حرکت کرد. در ایستگاه اول ۷ نفر پیاده شدند. در ایستگاه دوم ۵ نفر سوار شدند. حالا اتوبوس چند مسافر دارد؟



ت) ژاله در مدرسه ۳ کارت امتیاز. ۵ امتیازی از آموزش‌گارش گرفته بود. او دیروز یک جامدادی از کمد جایزه برداشت و ۱۲ امتیاز را به ناظم داد. حالا برای ژاله چند امتیاز باقی مانده است؟



This file has limited permissions. You may not have access to some features. [View permissions](#)



۶ آیا می‌دانی یک هفته چند روز است؟ تقویم زیر را کامل کن و تاریخ روزهای جمعه را رنگ بزن.

شنبه	یکشنبه	دوشنبه	سه‌شنبه	چهارشنبه	پنج‌شنبه	جمعه
۱	۲	۳	۴	۵	۶	۷
۸						
۹						
۱۰						
۱۱						
۱۲						
۱۳						
۱۴						
۱۵						
۱۶						
۱۷						
۱۸						
۱۹						
۲۰						
۲۱						
۲۲						
۲۳						
۲۴						
۲۵						
۲۶						
۲۷						
۲۸						
۲۹						
۳۰						

۷ جاهای خالی را با اعداد و حروف مناسب کامل کن.

یکی	ده‌تایی
۲
.....	عدد:
.....	حروف:

یکی	ده‌تایی
.....
.....	عدد: ۴۳
.....	حروف:

یکی	ده‌تایی
.....
.....	عدد:
.....	حروف: پنجاه و هشت

یکی	ده‌تایی
۷	۹
.....
.....	عدد:
.....	حروف:

یکی	ده‌تایی
.....
.....	عدد: ۶۲
.....	حروف:

یکی	ده‌تایی
.....
.....	عدد:
.....	حروف: هفتاد و یک

This file has limited permissions. You may not have access to some features. [View permissions](#)

الگوهای زیر را ادامه بده.

۳۷ - ۳۸ - ۳۹

۵۵ - ۶۰ - ۶۵

۷۲ - ۷۴ - ۷۶

۱۰ - ۲۰ - ۳۰

۲۴ - ۳۴ - ۴۴

۴۲ - ۴۷ - ۵۲

۲۴ - ۲۵ - ۲۶

۷۰ - ۸۰ - ۹۰

۶۵ - ۷۰ - ۷۵

تفریق‌های زیر را ذهنی حساب کن.

۴۰ - ۱۰ = ۳۰ - ۳۰ = ۷۸ - ۸ =

۹۰ - ۷۰ = ۷۰ - ۳۰ = ۹۵ - ۵ =

۵۰ - ۴۰ = ۸۰ - ۲۰ = ۵۶ - ۶ =

نسخه جدید
بیشتر نویس

