

ارمغان هفته - اول دبستان

شماره‌ی

۲۴

نام و نام خانوادگی: تاریخ: نام آموزگار:

ریاضی < ۲۰ تم

علوم < درس ۱۲: از خانه تا مدرسه (۱)

فارسی < نشانه‌های «ص ص» و «ذ»

ریاضی

هر عدد را در جدول ارزش مکانی و به حروف، داخل ابرها بنویسید.

۴۹



ده‌تایی	یکی
---------	-----

۳۲



ده‌تایی	یکی
---------	-----

۲۴



ده‌تایی	یکی
---------	-----

۳۱



ده‌تایی	یکی
---------	-----

هر مسئله را با دقت بخوانید و برای آن شکل ساده بکشید و پاسخ سؤال را بنویسید.

الف) برنا برای دوستانش شکلات بسته‌ای خرید. داخل هر بسته ۵ شکلات قرار دارد. او به هر کدام از ۶ دوستش ۱ بسته شکلات داد. دوستانش روی هم چند دانه شکلات دارند؟

.....
.....

ب) پدر درنا و برنا ۳ بسته‌ی ۱۰ تایی لامپ خرید و ۴ عدد لامپ هم برنا برای خانه خرید. آنها چند عدد لامپ در خانه دارند؟

.....
.....

عددهای داده شده نمرتب هستند آن‌ها را به صورت مرتب در کادرها بنویسید.

۱۰ - ۳۰ - ۵۰ - ۴۰ - ۹۰ - ۷۰ - ۸۰ - ۲۰ - ۶۰

--	--	--	--	--	--	--	--	--

حاصل جمع و تفریق های زیر را به صورت ذهنی پیدا کنید.

$10 + 10 + 20 =$

$50 - 5 =$

$50 + 10 + 5 =$

$10 + 5 =$

$10 - 5 =$

$20 + 5 =$

علوم


از خانه که به سمت مدرسه می‌روید، چه چیزهایی را در حال حرکت می‌بینید؟ (علامت بزنید.)



به نظر شما کدام گروه از دانش‌آموزان برای رفتن به مدرسه مسیر حرکت سخت‌تری دارند؟ دور آن‌ها را خط بکشید.



هر کدام از تصاویر زیر برای حرکت از چه چیزی استفاده می‌کنند؟ زیر تصویر شکل آن را بکشید.



تصویر یک وسیله که حرکت می‌کند را بکشید و آن را به زیبایی رنگ کنید.



فارسی

دوتا دوتا به هم وصل کنید و ... ربط را با رنگ قرمز بنویسید.



- | | | | | | |
|-------|---|--------|---|------|---|
| | ← | صلیون | • | لباس | • |
| | ← | دریایی | • | کف | • |
| | ← | صورتی | • | صورت | • |
| | ← | تمیز | • | صدف | • |



کلمه‌ی درست را انتخاب کنید و در جای خالی بنویسید.

صابون - گذشته - دلپذیر - لذت - اذان ،

الف) ما، تابستان به مسافرت رفتیم.

ب) صدای را از مسجد شنیدم.

پ) او با دستش را می‌شوید.

ت) من از خوردن کباب می‌پریم.

ث) در فصل بهار هوا است.

نام تصاویر زیر را با انتخاب شکل مناسب از ذ، کامل کنید.



مو -



ب -



ا - ان



نما -



برای هر یک از نشانه‌های زیر چند کلمه بنویسید و جدول را کامل کنید.

ص ص	س س

- وسایل و اندام حرکت کننده
- حرکت در مکان‌های مختلف
- انتخاب کلمه‌ی صحیح (ب ربط)
- جمله سازی (جای خالی)

- عددنویسی (یکی و ده تایی، اعداد دو رقمی)
- حل مسئله
- الگوهای عددی
- جمع و تفریق ذهنی

- شاخص‌ها
- خیلی خوب
 - خوب
 - قابل قبول
 - نیاز به تلاش بیشتر



ارمغان هفته - اول دبستان

نام و نام خانوادگی: تاریخ: نام آموزگار:

ریاضی < ۲۱ تم

علوم < درس ۱۲: از خانه تا مدرسه (۲)

فارسی < نشانه‌های «ع-ع» و «ث-ث»

ریاضی

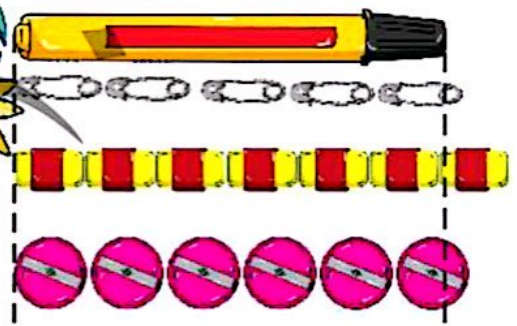
در جای خالی به عدد یا به حروف بنویسید.

۷۸		۲۰		۶۰		۹۴		۱۰
	چهل و پنج		سه		نود و سه		هفتاد	

در جدول اعداد زیر در قسمت‌هایی که گل کشیده شده است، برچسب عدد مناسب را بچسبانید.

۱	۲	۳	۴	گل	۶	۷	۸	۹	۱۰
۱۱	۱۲	گل	۱۴	۱۵	۱۶	۱۷	گل	۱۹	۲۰
۲۱	۲۲	۲۳	۲۴	۲۵	۲۶	گل	۲۸	۲۹	۳۰
گل	۳۲	۳۳	۳۴	۳۵	۳۶	۳۷	۳۸	گل	۴۰
۴۱	۴۲	۴۳	۴۴	۴۵	۴۶	۴۷	۴۸	۴۹	گل

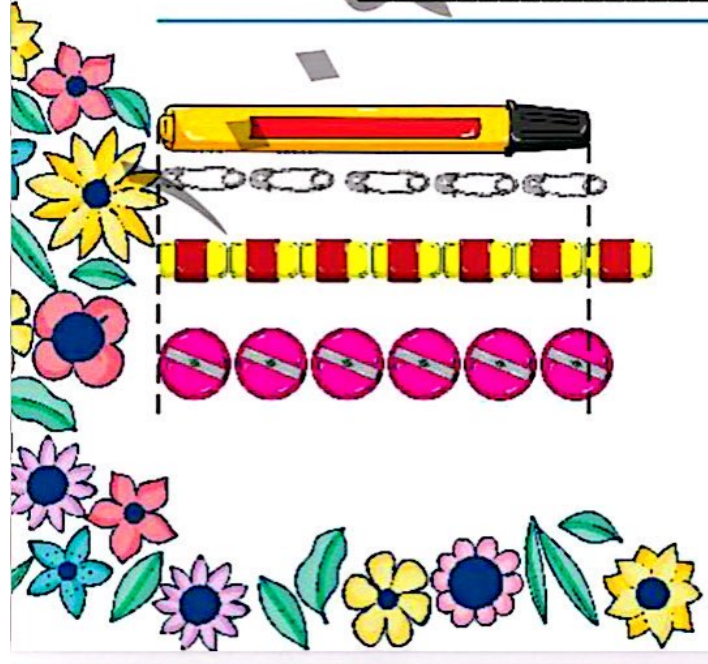
اندازه‌ی مازیک را با وسایل زیر اندازه بگیرید.



اندازه‌ی مازیک بین تا سنجاق است.

اندازه‌ی مازیک بین تا پاک‌کن است.

اندازه‌ی مازیک بین تا تراش است.



۴ زمانی را که هر ساعت نشان می دهد بنویسید.



ساعت ... است.



ساعت ... است.



زمان بین ... و ... است.



زمان بین ... و ... است.

۵ حاصل جمع های زیر را به دست بیاورید.

$10 + 5 + 5 + 10 + 5 =$

$20 + 20 + 10 + 3 + 2 =$




۱ جهت حرکت اجسام در تصاویر زیر را با ... مشخص کنید





۲

آیا تا به حال دقت کرده‌اید که برای رفتن به مدرسه از چه مسیرهایی عبور می‌کنید؟
این بار به مسیر با دقت نگاه کنید و بگو از چه جاهایی عبور کردید؟ و چه چیزهایی دیدید؟
در ناعدادی عکس از مسیر خله تا مدرسه‌ی دوستان برنارانشان داد. مسیر مدرسه تا منزل شما کدام است؟ علامت بزنید.




از شکل‌های بالا کدام مسیرها راحت‌تر هستند؟

از شکل‌های بالا کدام مسیرها سخت‌تر هستند؟

۳

برای حرکت در مسیر کوهستانی به چه وسایلی نیاز دارید؟ عکس ۳ مورد را بکشید یا تصویر آن را بچسبانید.



فارسی

۱


کلمه‌ی مناسب را انتخاب کنید و در جای خالی بنویسید.
الف) به نور خورشید می‌گویند. (آفتاب، مهتاب)
ب) به برادر پدر می‌گویند. (دایی، عمو)
پ) دست‌های باعث بیماری می‌شود. (تمیز، کثیف)
ت) ثریا علی است. (برادر، خواهر)

۲

در جای خالی نشانه‌ی مناسب (س، ص، ث) بنویسید.

ک یف و مخ و ندای باع
س جد مع ومه و ایل انیه

۳



۲ متن زیر را با صدای بلند بخوانید و به پرسش‌ها پاسخ دهید.

امروز اکثر بچه‌ها برای جشن تولد علی آمدند. شمع‌های یک تولد علی مثل عدد هفت بود. ثریا برای علی یک ساعت با عقربه ثانیه‌شمار هدیه آورد. قبل از خوردن یک ما دست‌های کثیف خود را شستیم. بعد از یک همه‌ی بچه‌ها میوه خوردند. چون خوردن میوه باعث سلامتی و تندرستی می‌شود.

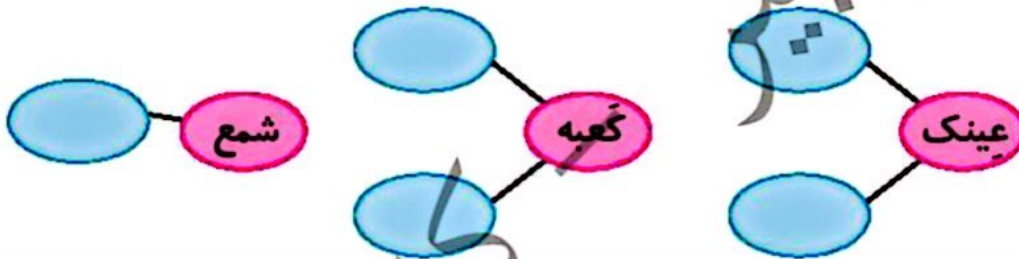
۳ با توجه به متن با نوشتن کلمات برای هر نشانه، جدول را کامل کنید.

.....	ث ت
.....	س س
.....	ع ع ع

۴ هدیه‌ی ثریا برای علی چه بود؟

۵ بچه‌ها چه چیزهایی خوردند؟

۶ هر کلمه را بخش کنید و بنویسید.



۷ صدای آخر هر کلمه در ردیف بالا، با صدای اول یک کلمه در ردیف پایین یکی است. آن‌ها را مثل هم رنگ کنید.

مخصوص	مزرعه	شروع	باعث	کیف	دعا	مثل
آسایش	لاک‌پشت	اداره	عید	ثریا	فراموش	صابون

- ◀ حرکت در مسیر کوهستانی
- ◀ جمله سازی (درک مطلب)
- ◀ روان‌خوانی (درک مطلب)
- ◀ تشخیص صدای آخر - املا

- ◀ عددنویسی - جمع
- ◀ اندازه‌گیری با واحد غیر استاندارد
- ◀ تشخیص زمان
- ◀ جهت و مسیر حرکت

شاخص‌ها

- خوب
- خوب
- لازل قبول
- نیاز به تلاش بیشتر