



موضوع:

تاریخ

نام و نام خانوادگی

هدف:

👉 قناری و بلبل پرنده های ..... هستند.  
(خوش آوازی-خوش بویی- خوش مزه ای)

👉 من روزی سه لیوان شیر .....  
(می خورم-می خوریم-می خورند)

👉 آزاده شب ها روی تخت خواب .....  
می خوابد.  
(خودشان- خودش-خودت)

👉 ما همیشه درس را با نام خدا .....  
می کنیم.  
(جمع-شمع-شروع)

👉 ما باید ..... خواب دندان های خود را مسواک بزنیم.  
(بعد از-قبل از-پس از)

👉 مهر، آبان و آذر نام ماه های ..... است.  
(فصل زمستان-فصل پاییز- فصل تابستان)

👉 مادرم بعد از نماز برای سلامتی همه ..... می کند.  
(قرآن-عبادت- دعا)

👉 پدرم با شنیدن صدای ..... به مسجد می رود.  
(لذت-دلپذیر-اذان)

👉 انسان های راست گو و درست کار پیش خدا .....  
هستند.  
(عزیز-مهربان-بخشنده)

Blank space for drawing or writing.





موضوع:

تاریخ

نام و نام خانوادگی

هدف:

# جدول تشخیصی

گیاه / هفته / تمساح / شهر / صبحانه  
 روباه / احساس / هندوانه / حمام / حوصله  
 مشهد / کوه / ناراحت / هلو / حیوان / هویج

ح ح	ه ه ه

بازخورد:

\_\_\_\_\_

\_\_\_\_\_





موضوع:

تاریخ

نام و نام خانوادگی

هدف:

# دیگته ی تصویری



.....



.....



.....



.....



.....



.....



.....



.....

بازخورد:

.....

.....





شماره‌ی

۲۶

# ارمغان هفته - اول دبستان

نام و نام خانوادگی: ..... تاریخ: ..... نام آموزگار: .....

ریاضی < نوروژ

علوم < نوروژ

فارسی < نوروژ

## ریاضی

آیا شما هم مانند همه‌ی مردم ایران در منزل خود سفره‌ی هفت سین چیده‌اید؟ پس حالا از شما می‌خواهم سفره‌ی هفت سین منزل خودتان را نقاشی کنید ولی برای رسم هر وسیله از تعدادی که من خواسته‌ام استفاده کنید.



۳ عدد تخم مرغ

۶ عدد سیب

۵ عدد سیر

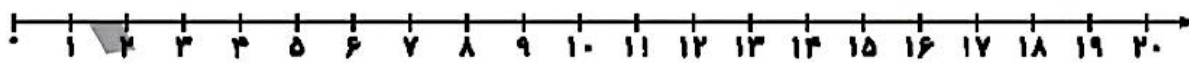
۱۲ عدد سنجد

۷ عدد ماهی

وقتی که نقاشی را کامل کردید دور چیزهایی که تعداد آن‌ها از

۶ بیش‌تر است، خط بکشید.

برای شکل زیر، جمع یا تفریق بنویسید و روی محور نشان دهید.



برای عدد ۳۰ شکل بکشید. آن را در جدول قرار دهید و با حروف بنویسید.

شکل:

یکی	ده‌تایی

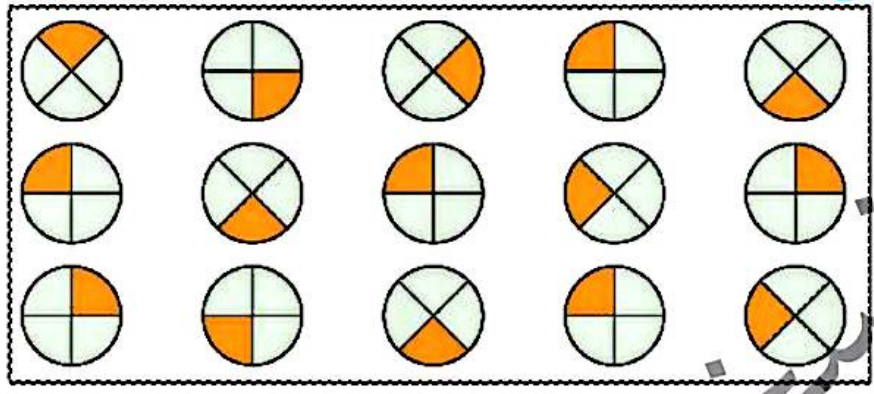
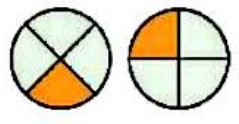
حروف:

۳۰ می‌شود ..... ده‌تایی و ..... یکی.

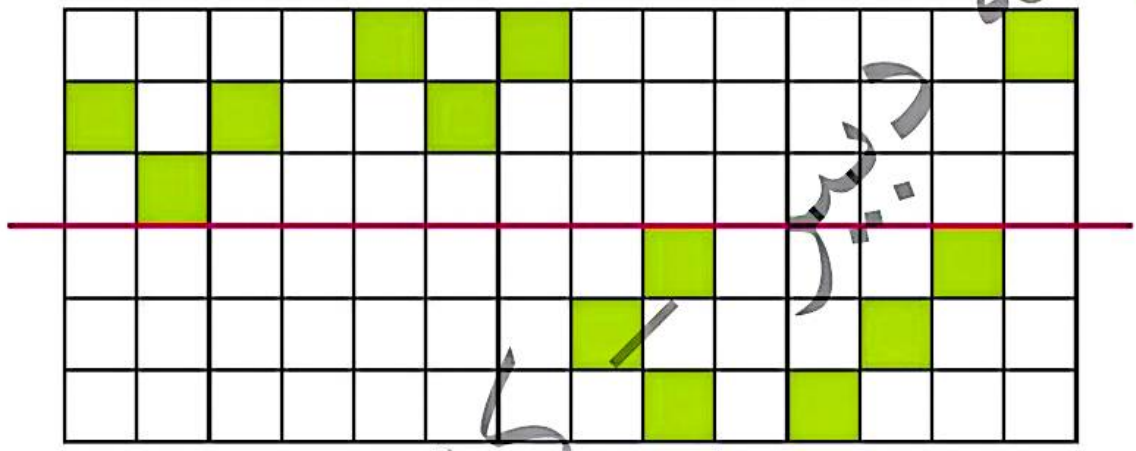




مانند شکل‌های مقابل را در جدول زیر پیدا کرده و دور آن‌ها خط بکشید.

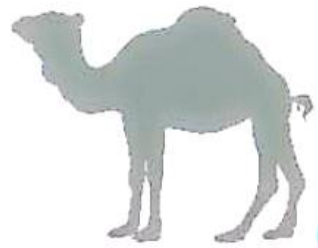


قرینه‌ی هر شکل را رسم کنید.




علوم

سایه‌ی این شتر را پیدا کنید.



۲ اسمال به نام چه حیوانی است؟ از بزرگ‌ترها کمک بگیرید و نقلی آن را رسم کنید. به نظر شما این حیوان اهلی است یا غیر اهلی؟ اگر اهلی است در دایره‌ی کنار کادر 😊 و اگر اهلی نیست ☹️ بکشید.



نسخه

۳ این روزها که در عید به خانه‌ی اقوام می‌روید به خوراکی‌های سالم و ناسالم دقت کنید و چند نمونه از آن‌ها را بکشید.

سالم:
ناسالم:

فارسی

۱ به کلمات زیر، ای، آ، ا، یا، ای، اضافه کنید و بنویسید.

ایق + =

قرآن + =

ایق + =

فرشته + =

۳

هر کلمه را در جای خودش قرار دهید.

تور - خواندم - موش - بخوابم - خوش اخلاق - خورشید،

دوباره	خواهش	سود

به نمونه‌ی داده شده توجه کرده و جاهای خالی را کامل کنید.

درخت

ها:

ان:

ستاره

ها: ستارها

ان: ستارگان

پرنده

ها:

ان:

فرشته

ها:

ان:

دور کلمه‌هایی که هم صدای اول و هم صدای آخر آن‌ها مثل هم است، با یک رنگ خط بکشید. با کلمه‌ی باقی‌مانده یک جمله‌ی خنده‌دار بنویسید.

«قد - دره - صدف - قناد - صندلی - کیف - صورتی - دوچرخه - صاف ،

کلمه‌ی باقی‌مانده :

به کلمه‌های زیر ،خوا یا خا، اضافه کنید.

نه ..... هر ..... موش ..... هش

شناخت خوراکی‌های سالم و ناسالم

افزادگی کردن پسوند (ان)

تشخیص (خوا یا خا)

صدای شناسی

نمایش محاسبه‌ی جمع روی محور

جدول ارزش مکان

دقت و تمرکز - تقارن

تشخیص سایه‌ها

شاخص‌ها

لبه‌ی خوب

خوب

قال لبول

نیاز به تلاش بیشتر



# ارمغان هفته - اول دبستان

نام و نام خانوادگی: ..... تاریخ: ..... نام آموزگار: .....

ریاضی < نوروژ  
علوم < نوروژ  
فارسی < نوروژ

## ریاضی

درنا چند جدول ارزش مکانی و چند عدد نوشت. حال شما جاهای خالی را با اعداد مناسب کامل کنید.

ده تایی	یکی
۹	۵

ده تایی	یکی

ده تایی	یکی
۷	۷

ده تایی	یکی

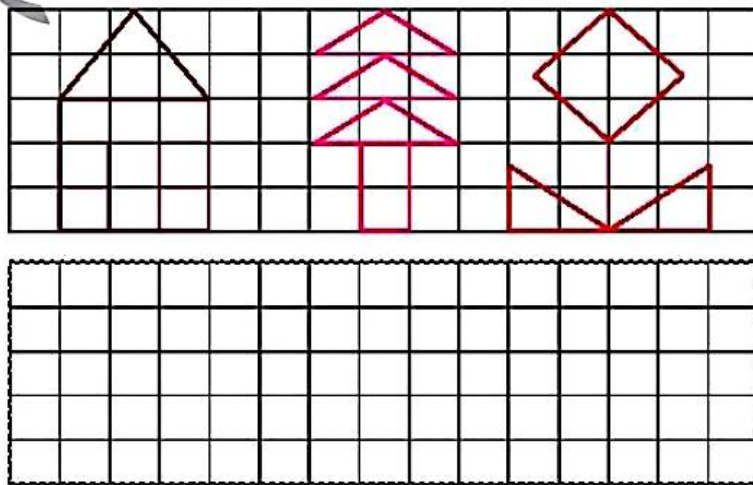
ده تایی	یکی
۸	۲

ده تایی	یکی


در هر ردیف، پاسخ عبارت‌ها را بنویسید و دور علامت مناسب (< = >) خط بکشید.

$۲۰ + ۲۰ = \bigcirc$     $\boxed{< = >}$     $۵۰ - ۲۰ = \bigcirc$   
 $۷ + ۵ = \bigcirc$     $\boxed{< = >}$     $۶ + ۸ = \bigcirc$

با خط کش و مداد رنگی شکل بالایی را در کادر زیر نقاشی کنید.



با توجه به تصویر زیر جاهای خالی را با کلمات مناسب کامل کنید.



الف) گل قرمز کوتاه‌تر از گل ..... است.


ب) گل بنفش هم‌اندازه‌ی گل ..... است.

پ) گل ..... بلندترین گل است.

ت) گل ..... کوتاه‌ترین گل است.

### علوم

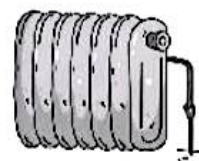
هر ابزار را به شغل مورد استفاده‌اش وصل کنید.




کدام وسیله از خاک ساخته شده است؟ دور آن خط بکشید.



۳ کدامیک از وسایل زیر هم گرما و هم نور تولید می‌کنند؟



۴ در این روزهای تعطیل برای این که سرگرم باشید یک کلاژ از تشکیل باران با هر چیزی که دوست دارید درست کنید و در کادر زیر بچسبانید.



فارسی

۱ سه کلمه بنویسید که صدای آخرشان «ه-ه-ه» باشد.



۲ کلمه‌ی صحیح را انتخاب کنید و در جای خالی بنویسید. (دو کلمه اضافه است.)

تا - می‌خوانند - از - می‌خواند،

الف) درنا ..... برنا خواست برایش قصه بخواند.

ب) درنا در مسجد نماز .....

۳

نام ورزش‌های زیر را در جدول پیدا کنید و دور نشانه‌های آن خط بکشید. نام هر ورزش را بنویسید.

ض	ح	ح	گ	ل	ف	ه	ت
ف	و	ت	ب	ا	ل	ظ	ن
ص	ب	ا	س	ک	ی	غ	ی
م	ی	ش	ی	ر	ت	ت	س
ق	س	ش	ن	ا	ل	ت	ی
ی	ب	س	ک	ت	ب	ا	ل
د	ا	ک	ض	ض	و	ک	ه
و	ل	ی	خ	م	د	ط	غ


















با خواندن هر کلمه، اولین چیزی که به ذهنتان می‌رسد را بنویسید.

- .....: صابون
- .....: مدرسه:
- .....: جشن:
- .....: ذرت:
- .....: برف:
- .....: آموزگار:
- .....: پدر:
- .....: اذان:
- .....: صندوق:
- .....: مادر:

	تولید نور و گرما
	مراحل تشکیل باران
	املا (کلمه سازی، سرگرمی)
	تقویت حافظه

	جدول ارزش مکانی
	جمع (انتخاب علامت < = >)
	کار با ابزار
	تشخیص وسایل ساخته شده از خاک

