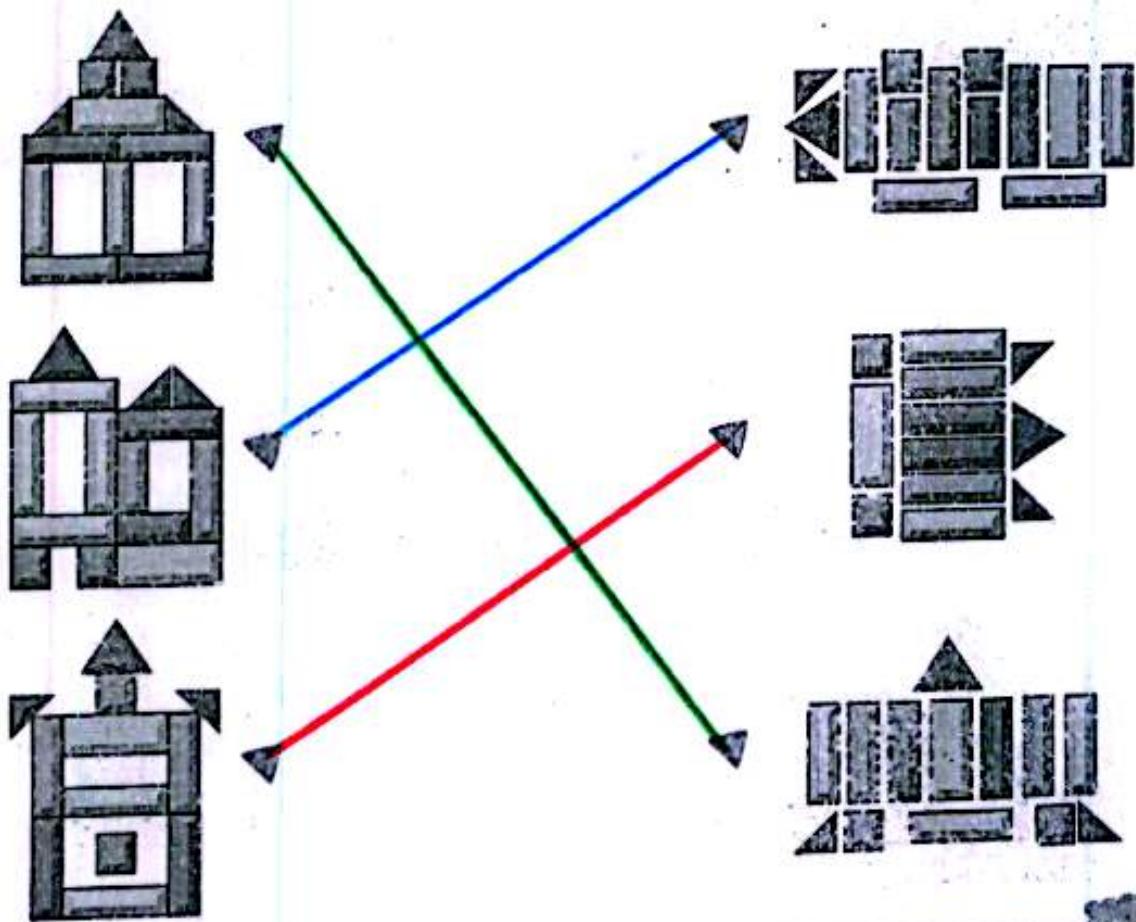


هفته آموزشی	
۱	مبحث ریاضی - آشنایی با اعداد
۲	مبحث دقت در نگارش با کلمات و رسم نقاشی
۳	هوش کلامی
۴	هوش ریاضی

۱. جاهای خالی را با عدد مناسب کامل کن.



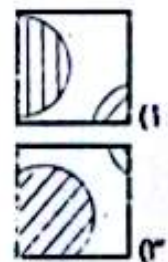
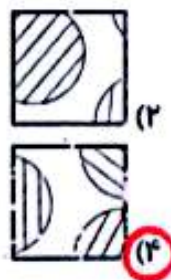
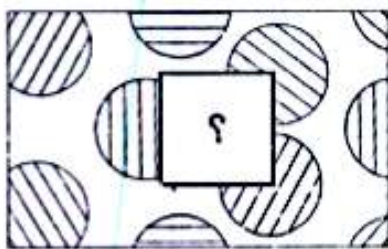
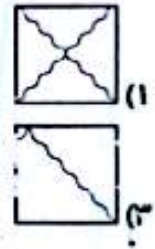
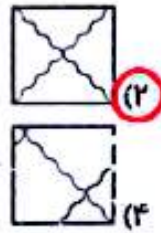
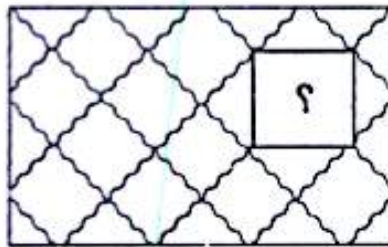
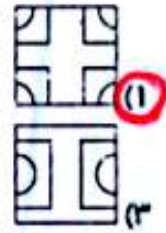
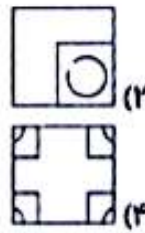
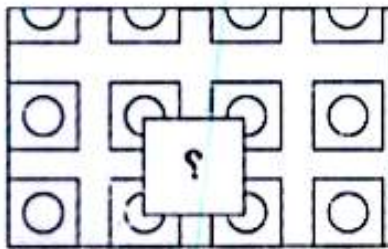
۲. هر شکل از چه قطعاتی ساخته شده است؟ وصل کن.



۳. مادد فرمز برای کلمه‌های زیر نقطه بگذار و جمله را بخوان.


هر شب قبل از خواب از پدرم خواهش می‌کنم تا برایم کتاب
داسان چشمه و چراگاه بخواند.

۴. جای ؟ کدام گزینه را قرار می‌دهی؟



موضوع	شماره سوال	هفته آموزشی
هوش ریاضی - حل مسأله	۱	بیست و دوم
هوش فضایی - جمع اشکال	۲	
هوش کلامی	۳	
سرعت، دقت، تمرکز	۴	








۱. در پارک، ۱۵ پسر مشغول بازی بودند. ۲ نفر به خانه برگشتند. ۲ تای دیگر با مادرشان به خرید و ۲ پسر دیگر هم به کتابخانه رفتند. چند پسر در پارک باقی مانده است؟



$$15 - 2 - 2 - 2 = 9$$

۹ پسر در پارک باقی مانده است.

۲. با توجه به عددهای هر شکل، حاصل جمع‌ها را به دست بیاور.

						
۱	۳	۴	۵	۶	۷	۸

$$\text{Right triangle} + \text{Diamond} + \text{Circle} = 6 + 5 + 4 = 15$$

$$\text{Pentagon} + \text{Square} + \text{Triangle} = 8 + 3 + 1 = 12$$

$$\text{Triangle} + \text{Triangle} + \text{Right triangle} = 1 + 1 + 6 = 8$$

$$\text{Right triangle} + \text{Diamond} + \text{Trapezoid} = 6 + 5 + 7 = 18$$

علوی

۳. برای هر علامت، یک عدد در نظر گرفته ایم. حالا با توجه به آن، به سؤال‌های زیر جواب بده.

۱	۲	۳	۴	۵	۶	۷	۸	۹

عدد

علامت

	+		=		
۳		۶			
	-		=		
۹		۷			
	+		=		
۲		۵			

۴. پدر رضا نجار است. رضا در تابستان روزهای شنبه، دوشنبه و چهارشنبه به دکان پدرش می‌رود و به او کمک می‌کند تا با چوب، آزه و میخ، میز و کمد بسازد.

♦ رضا چند روز در ۲ هفته به دکان پدرش می‌رود؟ **۶ روز** $۳ + ۳ = ۶$

♦ رضا برای چه به دکان پدرش می‌رود؟ **به پدرش کمک می‌کند تا با چوب، آزه و میخ، میز و کمد بسازد.**




ردیف	شماره سوال	سوال
۱	۱	هوش ریاضی - ۹۰٪
۲	۲	سرعت، دقت، تمرکز
۳	۳	هوش کلامی
۴	۴	هوش فنی

مدت آموزشی

میزبخت و پیچش

۱. مارها ۰ بی بعضی از خانه های جدول خوابیده اند. اعدادی را که پنهان شده است، پیدا کن و بنویس.

۱	۲	۳	۴	۵	۶	۷	۸	۹
۱۱	۱۲	۱۳	۱۴	۱۵	۱۶	۱۷	۱۸	۱۹
۲۱	۲۲	۲۳	۲۴	۲۵	۲۶	۲۷	۲۸	۲۹
۳۱	۳۲	۳۳	۳۴	۳۵	۳۶	۳۷	۳۸	۳۹
۴۱	۴۲	۴۳	۴۴	۴۵	۴۶	۴۷	۴۸	۴۹
۵۱	۵۲	۵۳	۵۴	۵۵	۵۶	۵۷	۵۸	۵۹
۶۱	۶۲	۶۳	۶۴	۶۵	۶۶	۶۷	۶۸	۶۹
۷۱	۷۲	۷۳	۷۴	۷۵	۷۶	۷۷	۷۸	۷۹
۸۱	۸۲	۸۳	۸۴	۸۵	۸۶	۸۷	۸۸	۸۹
۹۱	۹۲	۹۳	۹۴	۹۵	۹۶	۹۷	۹۸	۹۹



۲. اگر اعداد ۷۰ - ۱۳ - ۴۰ - ۱۱ - ۱۲ - ۳۱ به ترتیب از کوچک به بزرگ، از چپ به راست بنویسیم، دومین عدد از سمت چپ که این است؟ هر آن خط بکش.

۱۲ - ۱۳ - ۳۱ - ۴۰ - ۵۱ - ۷۰ - ۸۲

چهار هوش اول دبستان

۴۰

شماره سوال	شرح سوال
۱	هوش ریاضی - جمع اعداد به کمک هوش فضایی
۲	هوش فضایی
۳	هوش کلامی
۴	سرعت، دقت، تمرکز

دفتر آموزشی

بیست و پنجم

۱. هر شکل یک عدد را نشان می‌دهد. حاصل عبارت‌های زیر را به دست بیاور.

$$\text{☆} = ۲$$

$$\text{🌸} = ۵$$

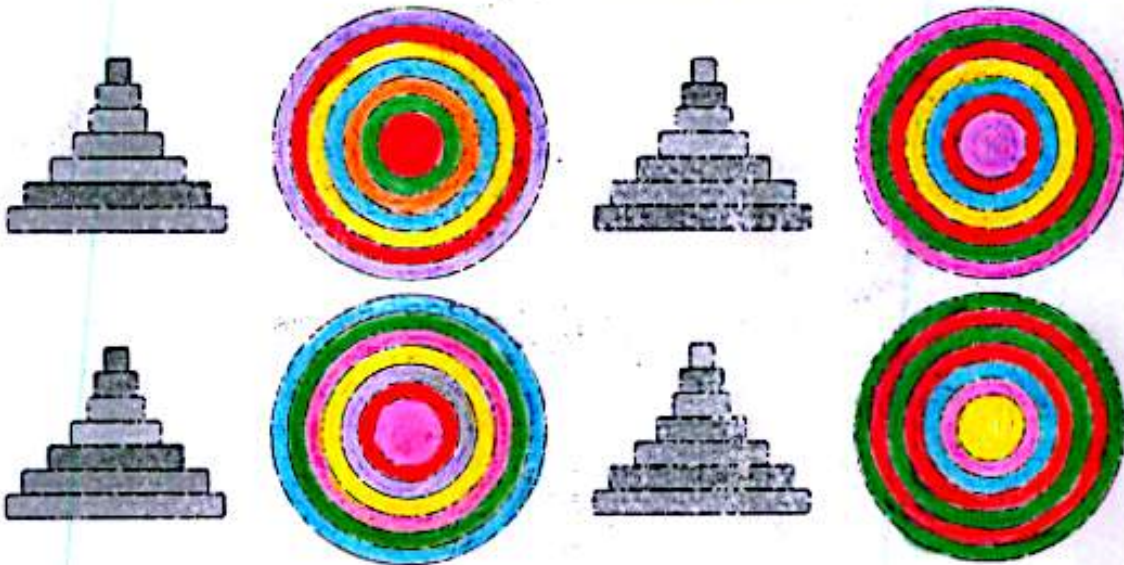
$$\text{🍄} = ۸$$

$$\text{🍄} + \text{🌸} + \text{☆} = ۸ + ۵ + ۲ = ۱۵$$

$$\text{☆} + \text{🍄} - \text{🌸} = ۲ + ۸ - ۵ = ۵$$

$$\text{🍄} - \text{☆} - \text{🌸} = ۸ - ۲ - ۵ = ۱$$

۲. دایره‌ها را مطابق با حلقه‌های رنگی رنگ بزن.



چهار هوش لوز، دبستان



علوی



۳. ارتباط (۱) و بستند (۲) مثل ارتباط با کتاب داستان است

(۱) و بستند (۲) قصه (۳) کتاب فروشی (۴) کتاب خانه

۴. هر شکل نشان دهنده یک عدد است. با توجه به شکل‌ها و اعداد به سؤالات زیر پاسخ بده.

۱	۲	۳	۴	۵	۶


$$1 + 5 = 6$$

۵ (۴)

۹ (۳)

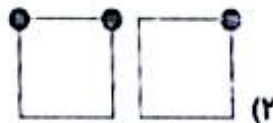
◆ حاصل + کدام است؟
 ۶ (۲) ۳ (۱)

◆ اگر عدد ۲۶ را به صورت نشان دهیم، عدد ۴۵ را با شکل نشان بده



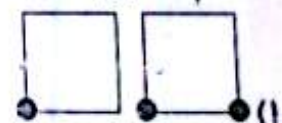
◆ کدام عدد بزرگ‌تر است؟

۱۶



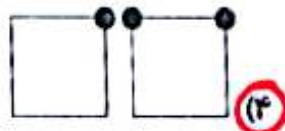
(۲)

۳۴



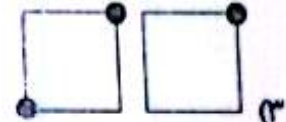
(۱)

۶۱



(۳)

۵۶



(۳)



شماره درس	۱	هفته آموزشی بیست و هفتم
موضوع	۲	
هوش ریاضی - صحیح اعداد	۳	
هوش فضایی	۴	
هوش کلاسی		
سرعت، دقت، تمرکز		

۱. جدول زیر را کامل کن.

$6 + 1 = 7$
 $1 + 1 = 2$
 $2 + 4 = 6$
 $4 = 8$
 $3 + 3 = 6$
 $5 + 2 = 7$
 $1 + 8 = 9$
 $5 + 4 = 9$
 $2 + 6 = 8$
 $5 + 2 = 7$
 $5 + 3 = 8$

۲. در کدام شکل، مربع دایره مثلث هست، اما داخل دایره نیست؟



(۴) مثل

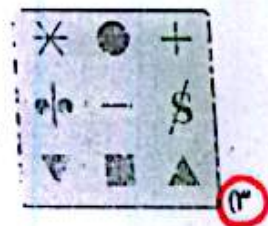
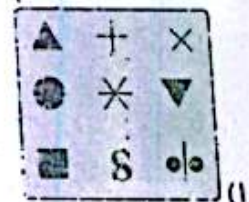
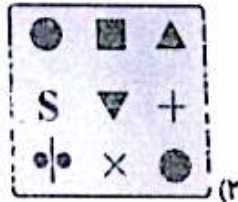
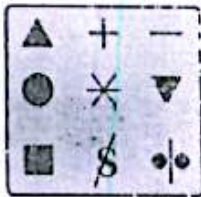
(۳) قطر

(۲) مخروط

(۱) سافت


۳. کدام کلمه با بقیه فرق دارد؟

۴. همه‌ی علامت‌های سمت چپ در کدام دسته به طور کامل تکرار شده است؟



موضوع	شماره	نقطه آموزشی
هوش ریاضی - تفریق اعداد	۱	بیست و هشتم
هوش فضا	۲	
هوش کلامی	۳	
سرعت، دقت، تمرکز	۴	

۱. جواب تفریق‌های زیر را به دست بیاور و متناسب با اعداد رنگ بزن.

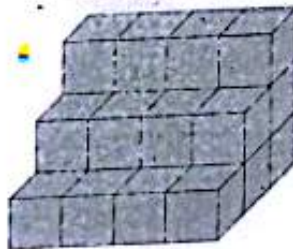


۱ = ● ۲ = ● ۳ = ● ۴ = ● ۵ = ● ۶ = ●

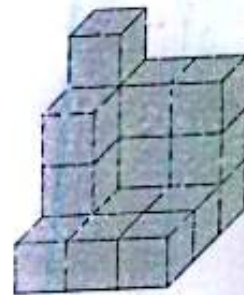
۲. تعداد چینه‌های هر ساختمان را مشخص کن.



۱۸



۲۴



۱۸

چهارهوش اول دبستان

علوی

۳. در یک روز قدم گذاشتار. ستایش و مادرش در کنار حوض وسط حیاط نشسته بودند. مادر کتاب داستانی را برای اختش می خواند که ناگهان صدای رنگ در آمد. ستایش به سوی در رفت و پرسید چه کسی پشت در است؟ پدر گفت: «من و سینا».

ستایش در را باز کرد و به پدر و برادرش خوش آمد گفت

- ◆ نام دختر و پسر خانواده چه بود؟ **سینا پیش و سینا**.....
- ◆ مادر به چه کاری مشغول بود؟ **مادر کتاب داستان برای ستایش می خواند**.
- ◆ چه کسی در را باز کرد؟ **ستایش**.....
- ◆ چه کسانی پشت در بودند؟ **پدر و سینا نشسته در بودند**.

۴. هر شکل یک عدد از ۱ تا ۶ نشان می دهد. با توجه به عدد هر شکل، جدول را مانند نمونه کامل کن.

--	--	--	--	--	--

--	--

$$۲+۲+۳+۳+۶=۱۷$$

$$۵+۶+۲+۳+۲=۱۸$$

--	--

$$۱+۴+۱+۵=۱۱$$

$$۳+۶+۴+۱=۱۴$$

