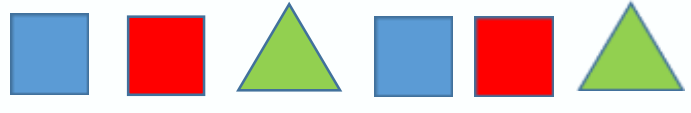


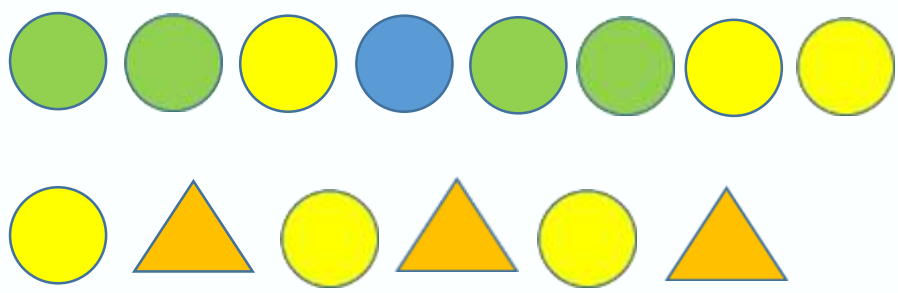


نام و نام خانوادگی: _____ تاریخ: _____
 موضوع: ریاضی هدف: تمرین و تکرار (تم 1 تا 15) 2/6

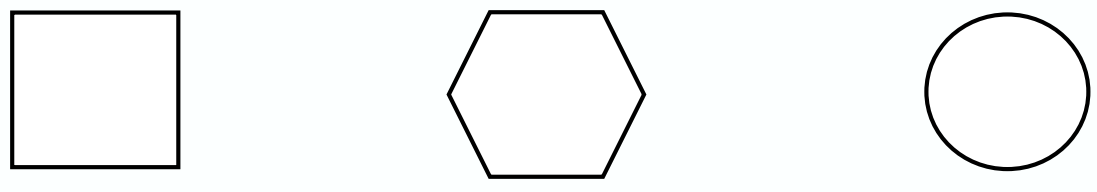
1- اول دورالگوی اصلی و تکرار شونده خط بکش بعد الگو را ادامه بده.



2- کدام شکل الگوی درست را نشان می دهد؟ علامت بزن.



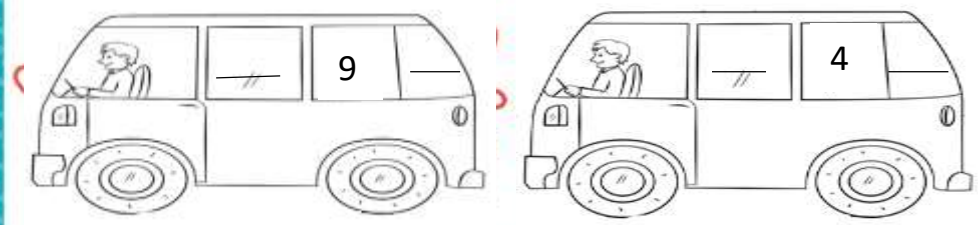
3- اول لبه ها را با مداد قرمز پر رنگ کن بعد با چوب خط نشان بده هر شکل چند گوشه دارد.



4- قرینه شکل های زیر را بکش.






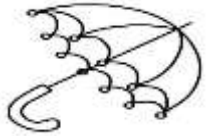


5- عدد قبل و بعد را بنویس



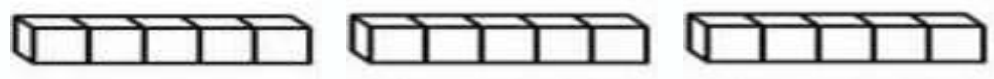


نام و نام خانوادگی: _____ تاریخ: _____ موضوع: _____ هدف: _____

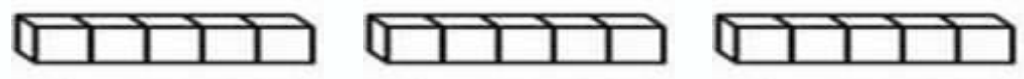
9- جدول را کامل کن.

10- با رنگ کردن چینه ها جواب جمع را پیدا کن. (برای هر عدد از یک رنگ استفاده کن.)




$4 + 5 + 3 = \dots\dots$

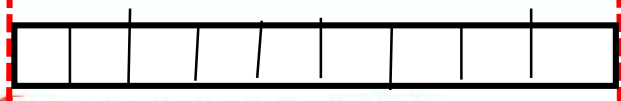



$1 + 2 + 7 = \dots\dots$


11- کامل کن



اندازه ی قاشق کمی بلند تر از 



اندازه چاقو کمی بلند تر از  است.





نام و نام خانوادگی: _____ تاریخ: _____ موضوع: _____ هدف: _____

12- جای خالی را کامل.

78 یعنی بسته ده تایی و یکی.

90 یعنی بسته ده تایی و یکی.

..... بسته ی ده تایی و یکی می شود 38

..... بسته ی ده تایی و یکی می شود 61.

13- بسته ی ده تایی درست کن و جدول را کامل کن.

Two columns of ten rods each, three unit cubes, and a shaded box.

ده تایی	یکی



به عدد:

به حروف:

ده تایی	یکی

به عدد:

به حروف:





موضوع:

تاریخ

نام و نام خانوادگی

هدف:

14- دو عدد پیدا کن که جمع آن برابر عددی باشد که بالای ستون نوشته است.

5	

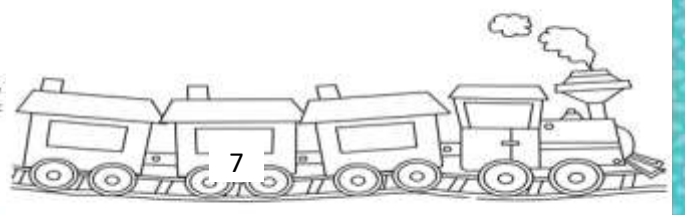
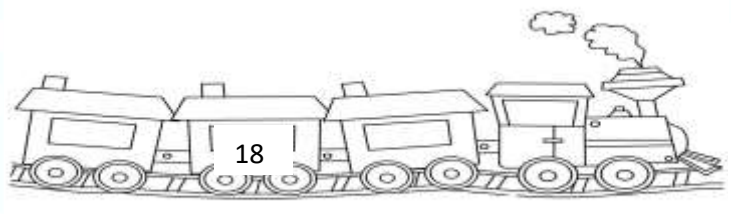
7	



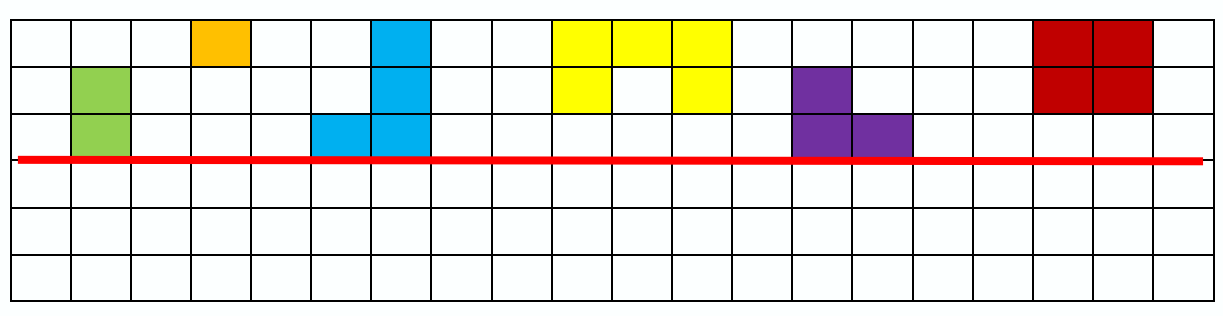


نام و نام خانوادگی: _____ تاریخ: _____
 موضوع: _____ هدف: _____

18- عدد قبل و بعد را در هر شکل بنویس.



19- با توجه به خط تقارن نیمه ی دیگر شکل ها را کامل کن.



20- جدول شگفت انگیز را کامل کن.

5	1	4	3	2	
6	3			4	5
4	6				2
	2	5	4	6	3
				3	4
3	4	6	2		1

