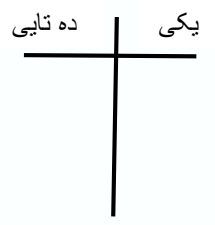





نام و نام خانوادگی: _____ تاریخ: _____
 موضوع: ریاضی هدف: تمرین و تکرار (تم 15 تا 20) 2/9


1- اول دسته ی ده تایی درست کن و عدد را با چوب خط نشان بده و بعد جدول را کامل کن.



2- عدد را بخوان و با چوب خط نشان بده.

چهل و پنج

بیست و نه



3- جمع شانه ای انجام بده.

8 + 7 =

6 + 9 =

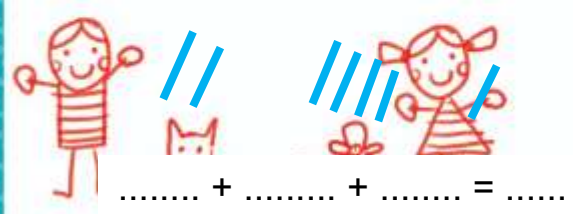
6 + 6 =

8 + 9 =

4- با چوب خط حاصل جمع را پیدا کن و یک جمع بنویس.



..... + + + =







نام و نام خانوادگی: _____ تاریخ: _____ موضوع: _____ هدف: _____

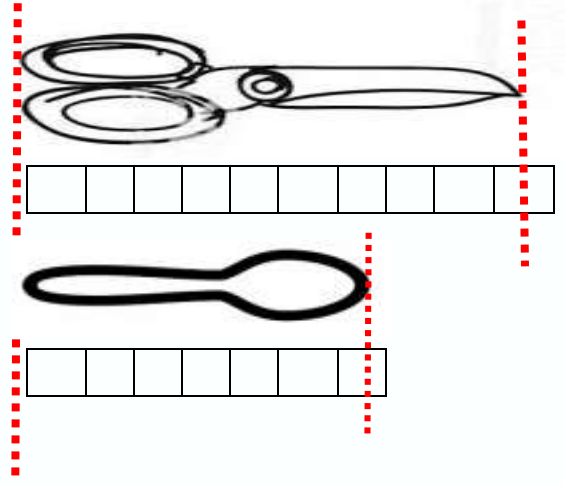
5- با توجه به شکل جمع مناسب بنویس.



6- برای هر شکل عبارت مناسب بنویس و بعد علامت مناسب را انتخاب کن. (< = >)



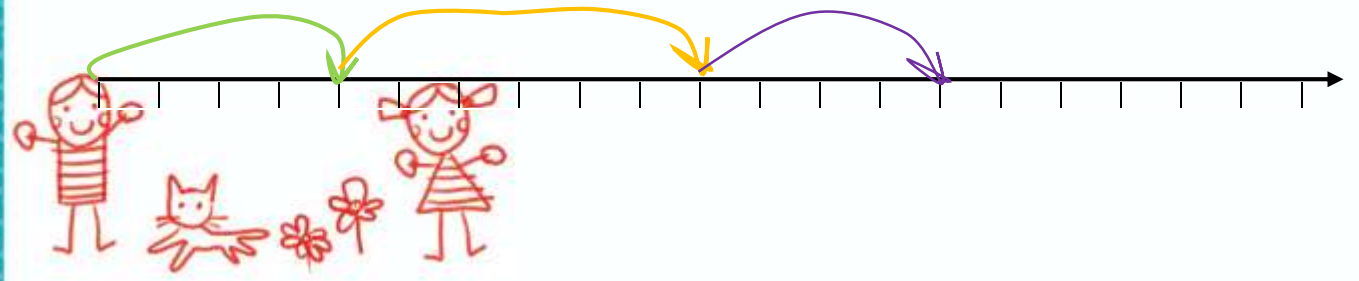
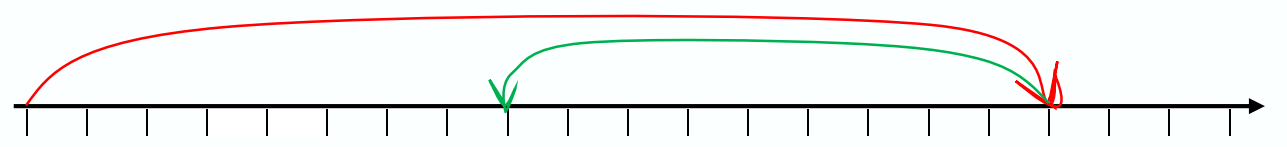
7- جمله ها را کامل کن.



اندازه ی قیچی بین تا است.

اندازه ی قاشق بین تا است.

8- با کمک محور جمع یا تفریق کن





موضوع:

تاریخ

نام و نام خانوادگی

هدف:

9- جمع و تفریق زیر را روی محور نشان بده.

$$7 + 4 + 5 = \dots\dots\dots$$



$$18 - 7 = \dots\dots\dots$$



10- جاہای خالی را کامل کن.

$$3 - 6 - 9 - \dots\dots\dots - \dots\dots\dots - \dots\dots\dots - \dots\dots\dots$$

$$10 - 15 - 20 - 25 - \dots\dots\dots - \dots\dots\dots - \dots\dots\dots - \dots\dots\dots - \dots\dots\dots$$

$$8 - 16 - 24 - \dots\dots\dots - \dots\dots\dots - \dots\dots\dots - \dots\dots\dots - \dots\dots\dots$$

$$40 - 45 - \dots\dots\dots - \dots\dots\dots - \dots\dots\dots - \dots\dots\dots - \dots\dots\dots - 80 - 85 - 90$$

$$\dots\dots\dots - \dots\dots\dots - \dots\dots\dots - \dots\dots\dots - \dots\dots\dots - 70 - 80 - 90$$

11- جواب جمع و تفریق را ذہنی بدست اور.

$$20 + 10 + 30 + 20 = \dots\dots\dots$$



$$10 - 5 - 5 = \dots\dots\dots$$

$$70 - 30 = \dots\dots\dots$$



موضوع:

تاریخ

نام و نام خانوادگی

هدف:

$$90 - 50 = \dots\dots$$

$$50 + 10 + 30 - 20 = \dots\dots$$

$$5 + 5 + 10 + 10 + 40 = \dots\dots$$

$$5 + 5 + 5 + 5 + 20 = \dots\dots$$

12- جمله ها را کامل کن و بعد شکل بکش.

3 دسته ی ده تایی و 8 یکی می شود؟.....

8 دسته ی ده تایی و 4 یکی می شود؟.....

