



موضوع:

تاریخ

نام و نام خانوادگی


هدف:




۱۶

تم

به کمک انگشتان خود جواب جمع را پیدا کن و حساب کن دو دسته روی هم چند شکل دارند. یک جمع بنویس.



+ =



+ =

ادامه بده.

۱۱ - ۱۲ - ۱۳ - - -



موضوع:

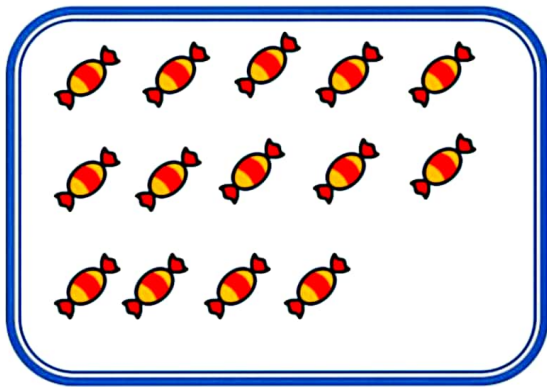
تاریخ

نام و نام خانوادگی


هدف:



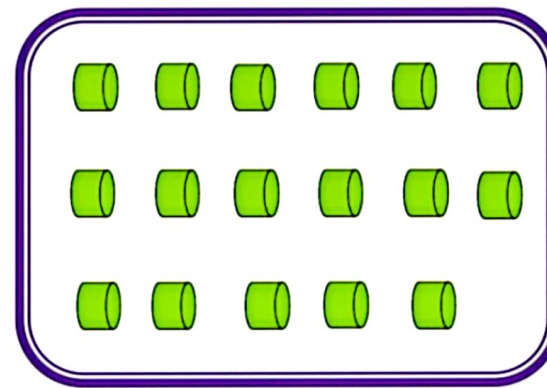
تعداد شکل های هر دسته را با چوب خط بشمار. با شکل ها دسته های ده تایی درست کن؛ جدول را کامل کن و عدد مربوط به هر دسته را بنویس.



ده تایی	یکی



ده تایی	یکی



ده تایی	یکی