



موضوع:

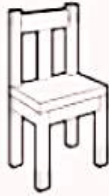
تاریخ

نام و نام خانوادگی

هدف:

۳۱-۳۰

برای ساخت کدوم وسایل از خاک استفاده شده است؟ رنگ بزن



از کدام گیاهان روغن می گیرند، دایره مربوط به آنها را رنگ بزن



آفتاب گردان



بادمجان




گوچه فرنگی

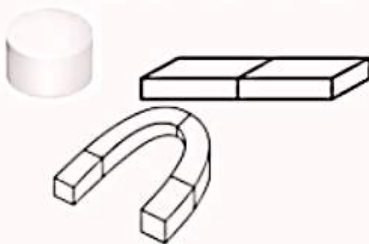


ذرت

کدام یک از جانوران زیر در آب زندگی می کنند؟ دور آنها خط بکش



هر یک از آهن را باها را به شکل خودش وصل کن



آهن رای نعلی

آهن رای میله ای

آهن رای حلقه ای

روزها چه چیزی همه جا را روشن می کند

تاما بتوانیم به راحتی ببینیم؟



در هوای آفتاب کدام زودتر گرم می شود؟





موضوع:

تاریخ

نام و نام خانوادگی

هدف:

در هر شکل با توجه به سایه ، خورشید را در جای صحیح بکش



هر کدام از حس های زیر را به تصویر مربوط به خودش وصل کن




دیدن

شنیدن

چشیدن

بویدن

کدام جانور در خاک زندگی می کند؟ (دایره ی مربوط به آن را رنگ بزن)



کدام وسیله با هوا حرکت می کند؟ آن را رنگ بزن






نام و نام خانوادگی

تاریخ

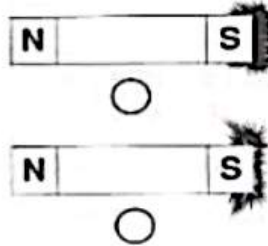
موضوع:

هدف:


چیزهایی که جذب آهن ربا می شوند را به آن وصل کن.



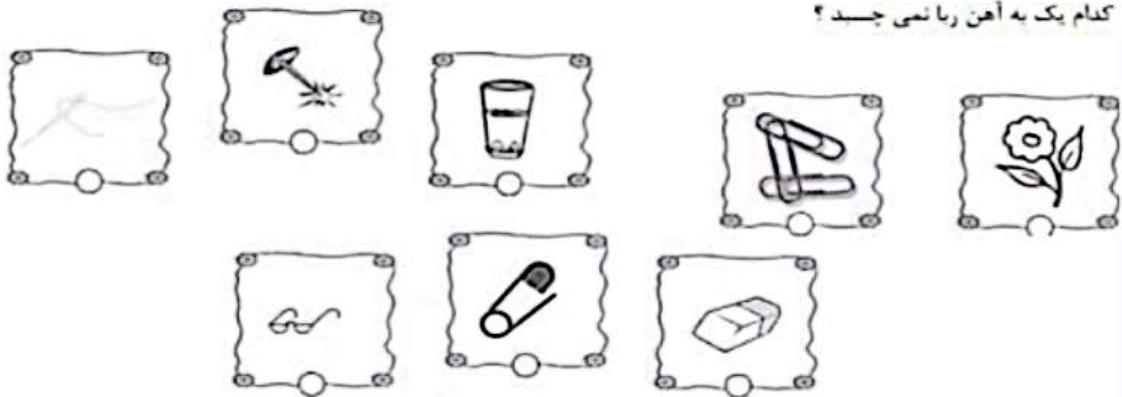
کدام آهن ربا ضعیف تر است ؟ رنگ بزن.



شکل های مختلف آهن ربا را بکش.



کدام یک به آهن ربا نمی چسبد ؟



ترانه ای در سوالات در منطقه ای هنر





نام و نام خانوادگی

تاریخ

موضوع:

هدف:

کدام قسمت آهن ربا قوی تر است با (X) مشخص کن.



گرمای زمین از کجا به دست می آید.



کدام وسیله‌ی روشنایی، قدیمی تر است؟



امروزه برای مطالعه از چه وسیله‌ای استفاده می کنیم؟



کدام وسیله برای روشن شدن نیاز به باتری دارد؟





موضوع:

تاریخ

نام و نام خانوادگی

هدف:

۶- قسمت هایی از آهنربا که جذب یکدیگر می شوند.

(د) هیچکدام



(ج)



(ب)



(الف)

۷- در این وسیله آهن ربا وجود ندارد.



(د)



(ج)



(ب)



(الف)

۸- قدرت آهن ربا در همه قسمت هایش یکسان است؟

(د) کمی

تقریبا

(ج)

خیر

(ب)

(الف) بله

۹- قرار دادن آهنربا کنار آن اشکالی ندارد.



(د)



(ج)



(ب)



(الف)

۱۰- به دو سر آهنربا می گویند.

(د) هیچکدام

(ج) دفع

(ب) جذب

(الف) قطب





موضوع:

تاریخ

نام و نام خانوادگی

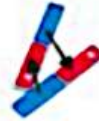
هدف:

۶- قسمت هایی از آهنربا که جذب یکدیگر می شوند.

(د) هیچکدام



(ج)



(ب)



(الف)

۷- در این وسیله آهن ربا وجود ندارد.



(د)



(ج)



(ب)



(الف)

۸- قدرت آهن ربا در همه قسمت هایش یکسان است؟

(د) کمی

تقریبا

(ج)

(ب) خیر

(الف) بله

۹- قرار دادن آهنربا کنار آن اشکالی ندارد.



(د)



(ج)



(ب)



(الف)

۱۰- به دو سر آهنربا می گویند.

(د) هیچکدام

(ج) دفع

(ب) جذب

(الف) قطب

