



ارمغان هفته - اول دبستان

شماره ی

۲۷

نام و نام خانوادگی: تاریخ: نام آموزگار:

ریاضی < نوروژ

علوم < نوروژ

فارسی < نوروژ

ریاضی

درنا چند جدول ارزش مکانی و چند عدد نوشت. حال شما جاهای خالی را با اعداد مناسب کامل کنید.

ده تایی	یکی
۹	۵

ده تایی	یکی

ده تایی	یکی
۷	۷

ده تایی	یکی

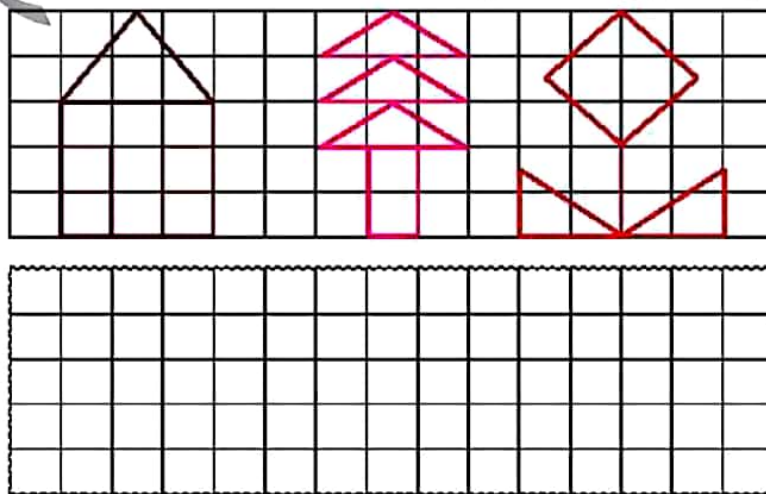
ده تایی	یکی
۸	۲

ده تایی	یکی


در هر ردیف، پاسخ عبارت‌ها را بنویسید و دور علامت مناسب (< = >) خط بکشید.

$۲۰ + ۲۰ = \bigcirc$ $\langle = \rangle$ $۵۰ - ۲۰ = \bigcirc$
 $۷ + ۵ = \bigcirc$ $\langle = \rangle$ $۶ + ۸ = \bigcirc$

با خط کش و مدادرنگی شکل بالایی را در کادر زیر نقاشی کنید.



با توجه به تصویر زیر جاهای خالی را با کلمات مناسب کامل کنید.



الف) گل قرمز کوتاه‌تر از گل است.


ب) گل بنفش هم‌اندازه‌ی گل است.

پ) گل بلندترین گل است.

ت) گل کوتاه‌ترین گل است.

علوم

۱ هر ابزار را به شغل مورد استفاده‌اش وصل کنید.

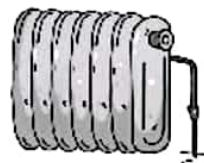


۲ کدام وسیله از خاک ساخته شده است؟ دور آن خط بکشید.



۲

۳ کدامیک از وسایل زیر هم گرما و هم نور تولید می‌کنند؟



۴ در این روزهای تعطیل برای این که سرگرم باشید یک کلاژ از تشکیل باران با هر چیزی که دوست دارید درست کنید و در کادر زیر بچسبانید.



فارسی

۱ سه کلمه بنویسید که صدای آخرشان ده ه ه ه باشد.

۲ کلمه‌ی صحیح را انتخاب کنید و در جای خالی بنویسید. (دو کلمه اضافه است).
تا - می‌خوانند - از - می‌خواند،

الف) درنا برنا خواست برایش قصه بخواند.

ب) درنا در مسجد نماز

۳

نام ورزش‌های زیر را در جدول پیدا کنید و دور نشانه‌های آن خط بکشید. نام هر ورزش را بنویسید.

ض	ح	ح	گ	ل	ف	ه	ت
ف	و	ت	ب	ا	ل	ظ	ن
ص	ب	ا	س	ک	ی	غ	ی
م	ی	ش	ی	ر	ت	ت	س
ق	س	ش	ن	ا	ل	ت	ی
ی	ب	س	ک	ت	ب	ا	ل
د	ا	ک	ض	ض	و	ک	ه
و	ل	ی	خ	م	د	ط	غ

















با خواندن هر کلمه، اولین چیزی که به ذهنتان می‌رسد را بنویسید.

- | | | | |
|-------|----------|-------|--------|
| | مدرسه: | | صلبون: |
| | ذرت: | | جشن: |
| | آموزگار: | | برف: |
| | اذان: | | پدر: |
| | مادر: | | صندوق: |

	تولید نور و گرما
	مراحل تشکیل باران
	املا (کلمه سازی، سرگرمی)
	تقویت حافظه

	جدول ارزش مکانی
	جمع (انتخاب علامت < = >)
	کار با ابزار
	تشخیص وسایل ساخته شده از خاک

